

湖南省普通高中学业水平考试要点解读

历 史

湖南省教育厅版权所有
免费赠送
www.hunanedu.net

湖南省普通高中学业水平考试大纲编审组编写

二〇〇九年二月

前言

依据《2009年湖南省普通高中学业水平考试大纲》（以下简称《考纲》），我们编写了《2009年湖南省普通高中学业水平考试要点解读》（以下简称《解读》），作为与《考纲》配套使用的学业水平考试复习辅导用书。《解读》秉承“构建学科知识要点、解读要点知识内涵、点拨学习方法、激发学习兴趣、树立考试信心、促进全面发展”的理念，将为实现回归基础教育本源，推动新的质量评价体系建设，推进新课程实施发挥重要作用。

《解读》按照学科必修学分模块的篇章顺序，以“学习目标、要点解读、学法指导、梯度练习、模块检测”五个板块构成，体例新颖、层次分明、适用性强。它依据《考纲》提出学习目标，明确能力层次要求，以增强学生学习的目的性；通过对学科主干知识进行全面归纳、梳理、构建，解读要点知识内涵，强调了知识点之间的内在联系及知识与方法的迁移应用，突出在剖析典型案例中提炼学法，并进行恰到好处的“点”、“拨”，给出学习指导；注重帮助学生拓展思维空间，提高学习能力。同时，还精心设计了难易适度且呈梯度分布的习题和检测题，以满足学生学习能力的层次性和学习水平的差异性，有利增强学生的考试信心，促使学生快乐学习、从容应考。

编写时间仓促，书中如有不足之处，敬请广大师生提出宝贵意见。

2009年湖南省普通高中学业水平考试大纲编审组

二〇〇九年二月

目 录

前 言	1
-----------	---

必修 1

第一单元 古代中国的政治制度	4
第二单元 古代希腊罗马的政治制度	8
第三单元 近代西方资本主义政治制度的确立与发展	12
第四单元 近代中国反侵略、求民主的潮流	16
第五单元 科学社会主义理论到社会主义制度的建立	21
第六单元 现代中国的政治建设与祖国统一	24
第七单元 现代中国的对外关系	27
第八单元 当今世界政治格局的多极化趋势	31
综合检测一	35
参考答案	41
综合检测一	48

必修 2

第一单元 古代中国经济的基本结构与特点	50
第二单元 资本主义世界市场的形成和发展	55
第三单元 近代中国经济结构的变动与资本主义的曲折发展	60
第四单元 中国特色社会主义建设的道路	64
第五单元 中国近现代社会生活的变迁	69
第六单元 世界资本主义经济政策的调整	73
第七单元 苏联的社会主义建设	78
第八单元 世界经济的全球化趋势	82
参考答案	92

模块检测二	99
-------------	----

必修 3

第一单元 中国传统文化主流思想的演变	102
第二单元 西方人文主义思想的起源及其发展	106
第三单元 古代中国的科学技术与文学艺术	109
第四单元 近代以来世界的科学发展历程	113
第五单元 近代中国的思想解放潮流	117
第六单元 20 世纪以来重大思想理论成果	121
第七单元 现代中国的科技、教育与文学艺术	125
第八单元 19 世纪以来的世界文学艺术	128
综合检测三	131
参考答案	136
综合检测三	140

必修 1

第一单元 古代中国的政治制度

【学习目标】

1. 了解宗法制和分封制的基本内容
2. 从郡县制的建立理解中央集权制度的基本含义；理解秦朝中央集权制度对历史产生的影响。
3. 了解从汉到元中央与地方行政机构演变的基本内容，认识专制主义中央集权的逐步加强。
4. 了解明朝内阁、清朝军机处设置等史实，认识君主专制制度的加强对中国社会发展的影响。

【要点解读】

1. **知识整合：**我国早期的国家政治制度随着夏朝——我国历史上第一个王朝的建立而开始出现，宗法制与分封制相结合是中国古代早期政治制度的特点。秦朝开始形成的专制主义中央集权制度在中国两千多年的发展历程中具有重大影响，是中国古代政治制度的基本特色。其确立和发展的基本线索可以归纳为：建立——秦朝，发展——西汉，完善——隋唐，进一步发展——宋元，加强——明清。

2. 难重透析：

(1) 关于行省制：为了加强对全国的统治，元政府在中央设中书省，在地方设“行中书省”。行中书省简称“行省”或“省”。各行省都是中央政府机关——中书省的派出机构，直接对中书省负责。行省制度的建立，适应了元政府管理辽阔疆域的需要，从而巩固了多民族国家的统一。行省制度是我国政治制度史上的一项重大变革，对后世影响深远。

(2) 关于三省六部制：魏晋南北朝时期，初步形成三省体制。隋朝以尚书省、内史省、门下省为中央政府最高行政机构。唐朝三省分工明确，中书省掌决策，负责草拟和颁发皇帝诏令；门下省掌审议，负责审核政令；尚书省“事无不总”，负责执行政令。三省长官都是宰相，相权一分为三。三省合作，相互牵制和监督，保证了君权的独尊，是中国古代政治制度的重大创造。隋唐时期在尚书省下设吏、户、礼、兵、刑、工六部，确立并完善了三省六部的管理体制。

3. 易错辨析

注意明朝的内阁与英国近代内阁的本质区别，明朝的内阁不是法定的中央一级行政机构或决策机构，是为封建专制皇权提供服务的内侍机构，是专制主义中央集权进一步强化的产物。而近代英国的内阁逐渐成为法定的政治机构，是近代英国君主立宪制发展和完善的产物。

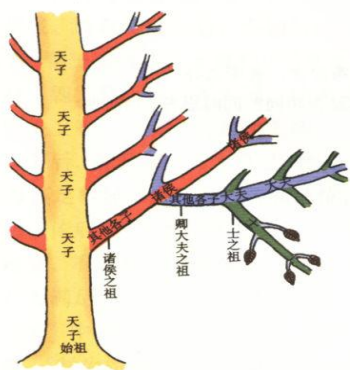
【学法指导】

1. 学生应该学会用辩证的观点去看待君主专制主义中央集权制对中国历史发展所产生的影响。
2. 学生通过对古代中国地方机构的变化掌握我国古代中央集权制度的演变脉络和规律。
3. 注意掌握中国古代重要政治制度的基本概念，注意形成中国古代政治制度发展演变的整体线索。

【梯度练习】

A组

一. 选择题



1. 上图“结构”最能反映：（ ）
 A. 秦朝郡县制 B. 西周宗法制 C. 唐朝三省六部制 D. 元朝行省制
2. 最早建立专制主义中央集权的是（ ）
 A. 秦朝 B. 西周 C. 唐朝 D. 北宋
3. 宋元两朝的最高行政机构分别是（ ）
 A. 中书省和枢密院 B. 中书门下和中书省

- C. 参知政事和平章政事 D. 枢密院和宣政院
4. 颁布“推恩令”的是（ ）
- A. 汉武帝 B. 唐太宗 C. 宋太祖 D. 明太祖
5. 我国的内阁制最早出现在：（ ）
- A. 秦朝 B. 西汉 C. 唐朝 D. 明朝

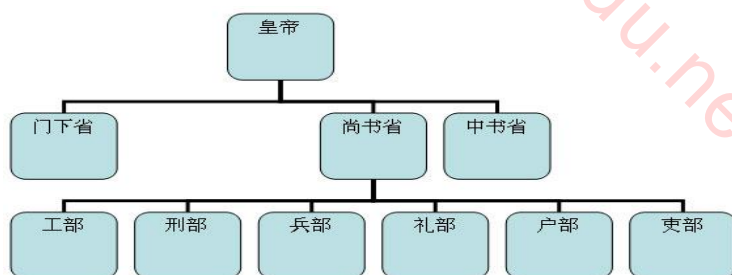
B 组

一. 选择题

6. 西周宗法制的形成最重要的依据是（ ）
- A. 父系的血缘关系 B. 母系的血缘关系
- C. 地域关系 D. 旁系亲属关系
7. 周初实行分封制是为了（ ）
- A. 建立军事屏障，防止外族入侵 B. 削弱功臣、贵族的权力
- C. 排斥异姓诸侯，团结同姓诸侯 D. 巩固奴隶制国家政权

二. 材料解析题

8. 材料一 唐朝的三省六部制（如下图）



材料二 元朝大政委于中书省，今冀、晋、鲁、内蒙及河南的黄河以北地区称“腹里”，由中书省直辖。中书省也称都里，为全国行政中枢。总领各行省，又兼辖腹里。地方设行中书省，简称“行省”。元制，凡有重大军事，则遣中书省官员前往督之，其班底仿中书省建制，故称“行中书省”。《元史·地理志》中载：“自封建变为郡县，有天下者，汉、隋、唐、宋为盛，然幅员之广，咸不逮元。”

材料一中唐朝的三省六部制有什么历史影响？三省中门下省的职能是什么？

（2）材料二中元朝设置的中书省与唐朝的中书省有何不同？元朝为什么实行行省制？

C 组

一. 选择题

9. 从明朝废丞相到清朝增设军机处的变化表明 ()

- A. 皇权专制日益得到强化
- B. 皇权与相权的矛盾日益加剧
- C. 相权重新得以恢复
- D. 皇权与相权的矛盾得以调和

10. 隋唐时期, 三省长官都是宰相, 常常同时有七八个宰相议政。统治者这样做的目的 ()

- A. 防止宰相权重难以控制
- B. 完善中央集权制
- C. 加强对地方的控制
- D. 保证决策的合理性

二. 探究题

11. 秦朝确立的专制主义中央集权是中国古代最重要的政治制度, 对中国社会的发展产生了深远的影响, 请你结合有关的历史知识作出评价? (言之成理均可以给分)

第二单元 古代希腊罗马的政治制度

【学习目标】

- (1) 了解梭伦改革的背景、内容；了解伯里克利时代雅典民主政治的主要内容。
- (2) 了解《十二铜表法》的主要内容；掌握罗马法的形成，分析其在维系罗马帝国统治中的作用。

【要点解读】

1. 知识整合：古代希腊独特的地理环境，孕育了古希腊文明，在政治上突出表现为城邦体制的形成。公元前6世纪，雅典先后经过梭伦改革和克里斯提尼改革，逐步确立起民主政治。公元前5世纪，伯利克里执政时期，雅典民主政治发展到顶峰，进入了“黄金时代”。从公元前6世纪末到公元7世纪，随着古罗马的政治演变和对外扩张，罗马法经历了形成、发展和完善的过程，形成了庞大的法律体系。

2. 难重透析：罗马法的概念、特点及其在维系罗马帝国统治中的作用：

概念：罗马法是指公元前6世纪到公元7世纪通行在古罗马地区的所有法律制度。广义的罗马法指通行于罗马帝国统治地区的全部法律制度；狭义的罗马法仅指罗马公民法。罗马法从形式上可以分为成文法与习惯法；从整体结构上包括公民法、万民法等。

特点：随着罗马国家发展而演变，呈现出较为明显的阶段性。

作用：稳定了社会秩序，维护了奴隶制度，保护了统治阶级政治和经济利益，巩固了帝国的社会基础。成为维系罗马帝国统治的有力支柱和工具。

3. 易错辨析：注意雅典民主与近代资本主义民主的本质区别：雅典民主政治是小国寡民的希腊奴隶制城邦制度的产物，它是建立在对广大奴隶的剥削与压迫基础之上的极少数人的民主。而近代资本主义民主是维护资产阶级利益的相对完整的民主。

【学法指导】

本单元所学希腊民主政治与罗马法律，都属于政治上层建筑方面的知识，第一要结合背景把握其形成的原因、条件；第二要准确把握其具体内容，掌握古代希腊罗马民主政治的历史地位和影响。

【梯度练习】

A 组

选择题：

- 下列属于梭伦改革的内容是（ ）
A 废除债务奴隶制 B 提出“法律面前人人平等”
C. 发放“观剧津贴” D. 建立五百人议事会
- 雅典民主的“黄金时代”是指（ ）
A. 梭伦担任执政官时期 B. 克利斯提尼进行改革时期
C. 伯利克里担任首席将军期间 D. 僭主政治时期
- 《十二铜表法》最重要的历史地位是（ ）
A. 罗马成文法诞生的标志 B. 平民利益的保护伞
C. 最早限制贵族特权的法律 D. 内容最全面的法律
- 古代希腊城邦突出特征是（ ）
A. 以海洋为依托 B. 小国寡民 C. 人民主权 D 城邦之间战争频繁
- 雅典城邦最高的权力机关是（ ）
A. 十将军委员会 B 五百人会议 C 公民大会 D 陪审法庭

B 组

一. 选择题

- 罗马法强调“法律面前人人平等”，这里的“人人”的含义是（ ）
A. 帝国境内所有人民 B. 仅指原帝国境内公民，不包括外邦自由民
C. 除奴隶外的所有自由民 D. 奴隶主贵族阶层
- 依据雅典民主，以下哪些人具有公民大会的选举权和被选举权（ ）
A. 在雅典的斯巴达商人 B. 雅典公民克里昂
C. 公民克里昂的妻子 D. 贵族布达拉斯的奴隶

二、材料题：

8. 阅读下列材料：

材料一：“有些人生来就注定应该服从，另一些人生来就注定要统治。”

——古希腊思想家亚里士多德

材料二：皇帝的命令就是最高的法律。

——2 世纪时的罗马皇帝哈德良

材料三：奴隶和隶农必须无条件地服从主人，服从“命运”的安排，对逃亡的奴隶和隶农必须严加惩治。

——《民法大全》

请回答：（1）上述材料反映的共同点是什么？

（2）据上述材料谈谈你对希腊民主政治和罗马法局限性的评价。

C 组

一. 选择题：

9. 《十二铜表法》的诞生被认为是平民的胜利，这主要是因为（ ）

- A. 罗马成文法诞生
- B. 由平民代表制定
- C. 平民地位发生根本变化
- D. 有利于平民维护自身权利

10. 万民法主要是调整（ ）

- A. 平民与贵族关系
- B. 财产关系
- C. 国家权力机构之间的关系
- D. 最高统治者与其他

二. 探究题

11. “辉煌属于希腊！宏伟归于罗马！”近代西方人奉希腊罗马文明为西方文明之根。

据此回答：

- （1）试述雅典民主政治发展的基本历程。
- （2）希腊民主政治的主要精神有哪些？
- （3）罗马法的核心内容是什么？
- （4）罗马法的哪些制度和原则仍为今天各国所采用？

(5) 希腊民主政治与罗马法是怎样影响近代西方的？

湖南省教育厅版权所有
免费赠送
www.hunanedu.net

第三单元 近代西方资本主义政治制度的确立与发展

【学习目标】

1. 了解美国 1787 年宪法、法兰西第三共和国宪法及 1871 年《德意志帝国宪法》的基本内容
2. 掌握《权利法案》及英国的责任内阁制。
3. 分析美国的三权分立政治体制的影响，并比较美国的总统制与英国的君主立宪制之异同。

【要点解读】

1. **知识整合：**近代以来，随着资本主义的发展，资产阶级力量日益壮大，为了获取政治权力、发展资本主义，他们进行了一系列重大斗争。17 世纪中期，英国资产阶级通过革命，确立了君主立宪制度，18 世纪中后期，美国获得独立，确立了联邦制共和政体，19 世纪中后期，法国通过长期的资产阶级革命，建立了共和政体，19 世纪中后期，德国完成统一，并建立了君主立宪政体。近代西方主要国家的资本主义政治代议制度得以最终确立，并逐步发展和完善。

2. 难重透析：

（1）近代主要资本主义国家代议制的特点：

英国：以君主立宪为主要特征，国王（君主）“统而不治”，只是最高权力的象征；议会拥有立法权，行使国家最高权力；内阁是中央行政机关，内阁首相成为国家政治生活中的最高决策者和领导者。

美国：美国代议制实行典型的三权分立和相互制衡原则。立法、行政、司法三种权力分别由国会、总统、联邦法院执掌，三个部门行使权力时，彼此互相牵制，以达到权力的平衡。但总统权力较为突出，是总统制共和制国家。

法国：总统执掌行政权，但权利受到议会的限制，是议会制共和制国家。议会掌握立法权。

德国：1871 年确立了君主立宪政体，但君主是实，立宪是虚，是一种不彻底和不完善的代议制。

（2）美国总统制和英国君主立宪制的比较

同：君主立宪制和资产阶级民主共和制都是资本主义国家政权的不同组织形式，他们国体一致，都是资产阶级专政。

异：他们的政体不一样。英国君主立宪制是国家元首世袭的一种政治体制，君主只是象征性的国家元首，其权力受到宪法的限制，是统而不治的虚君。以资产阶级为主体的议会是国家的最高权力机关，内阁对议会负责。美国共和制是国家元首由选举产生的一种政治体制，总统既是国家元首，又是政府首脑，还是国家武装力量的总司令；行政权集于总统，总统决定对内对外政策，拥有极广泛的权利。

3. 易错辨析：注意德意志君主立宪制与英国君主立宪制的不同：

德国：君主立宪制保留了浓厚的封建残余，带有浓厚的专制主义和军国主义特点，主要表现在：作为国家元首的德意志皇帝拥有最高统治权，而议会则由德皇控制，政府首脑、宰相也由德皇任命，并对德皇负责。

英国：君主只是象征性的国家元首，其权利受到宪法的限制，是统而不治的虚君。以资产阶级为主体的议会是国家的最高权力机关，内阁对议会负责。

【学法指导】

1. 法、美、德国三国的宪法易混。同学们可以列表格进行比较。
2. 结合背景和内容分析并概括各国代议制的特点，找出其共性和个性。

【梯度练习】

A组

一.选择题

1. 要了解英国君主立宪制确立之初的情况，下列文献可供参考的是（ ）

A. 《权利法案》 B. 《独立宣言》 C. 《人权宣言》 D. 美国 1787 宪法
2. 规定总统既是国家元首，又是行政首脑的是（ ）

A. 《权利法案》 B. 1871 年德意志帝国宪法

C. 美国 1787 年宪法 D. 《中华民国临时约法》
3. 下列关于法兰西第三共和国总统的权力，表述正确的是（ ）

①行政权归总统②有权任命部长等高级官员，有特赦权③由参议院和众议院联席会议选出，任期七年,并可连选连任④在参议院的赞同下有权解散众议院⑤是国家元首和军队最高统帅

A. ①②③④ B. ①③④⑤ C. ①②③④⑤ D. ②③④⑤

4.美国《1787 年宪法》规定立法权属于（ ）

- A. 总统 B. 国会 C. 最高法院 D. 公民大会

5. 下列法律文献颁布的先后顺序是（ ）

①《德意志帝国宪法》 ②《法兰西第三共和国宪法》 ③英国《权利法案》 ④美国 1787 年宪法

- A. ①②③④ B. ③④①② C. ③④②① D. ④②①③

B 组

一. 选择题

6. 德国首相与英国首相最大的不同是（ ）

- A. 由君主任命 B. 对君主负责 C. 是内阁首脑 D. 主持政府工作

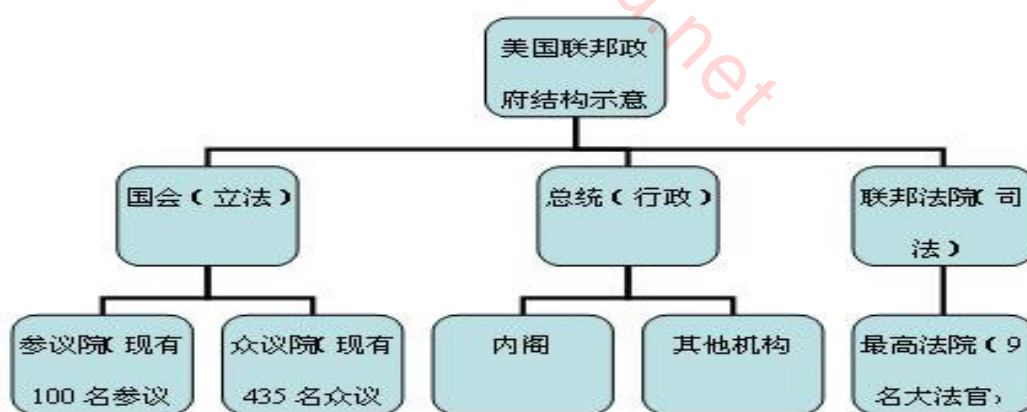
7. 《权利法案》规定：“凡未经议会同意，以国王权威停止法律或停止法律实施之僭越权力，为非法权力”。这一规定主要表明（ ）

- A. 国王与议会共商国是 B. 法律权威高于国王权威
C. 国王“统而不治” D. 国王失去了一切权力

二. 材料题：

8. 阅读下列材料：

材料一



材料二 对于一切人都同样严格的公平对待，而不论他的社会地位、宗教信仰、政治信仰。

——杰斐逊

请回答：

（1）请依据材料一和所学知识概述美国 1787 年宪法规定的美国联邦政府的结构。

(2) 该政府机构体现了一种什么样的权力分配原则？

(3) 杰斐逊的言论在 1787 年宪法中是否得到体现？请举例说明。

C 组

一. 选择题

9. 资产阶级民主政体的形式不尽相同，但核心都是由议会掌握了国家的（ ）

- A. 行政权 B. 立法权 C. 司法权 D. 外交权

10. 代议制在西方政治发展中的主要作用是（ ）

- A. 确立了资产阶级的统治 B. 防止了无产阶级革命的发生
C. 消灭了封建残余 D. 维护了劳动人民的利益

二. 探究题：

11. 以 17 世纪的英国为开端，近代资产阶级代议制在英、美、法、德等欧美主要资本主义国家相继建立起来。

据此回答：

(1) 归纳近代英、法、美、德等欧美资本主义国家政体形式主要有哪两种类型？

(2) 即使是政体相同的国家，也存在着很大差异。请以英国、德国为例说明。

(3) 近代英、法、美、德政治体制的有何本质上的相同点？

第四单元 近代中国反侵略、求民主的潮流

【学习目标】

- 1.掌握《南京条约》、《天津条约》《北京条约》的主要内容；分析《马关条约》、《辛丑条约》的主要内容及其影响；理解两次鸦片战争的影响。
2. 了解金田起义、定都天京；掌握《天朝田亩制度》、《资政新篇》主要内容并加以评价。
- 3.了解中国同盟会成立、武昌起义、中华民国成立；掌握《中华民国临时约法》的内容，认识辛亥革命的历史功绩。
4. 知道五四运动的时间，认识其在中国民主革命中的地位与作用；了解中国共产党成立的历史条件，掌握中共“一大”的主要内容及历史意义，了解第一次国共合作基本概况及北伐的对象。
5. 了解南昌起义、秋收起义；掌握八七会议的主要内容和意义；掌握 红军长征及遵义会议的内容和意义，了解重庆谈判和解放战争战略反攻的重大史实，认识新民主主义革命胜利的伟大意义。
- 6.了解九一八事变、七七事变、南京大屠杀等侵华日军的罪行；掌握淞沪会战、台儿庄战役、敌后抗日根据地开辟等中国军民抗日斗争的主要史实；分析抗战胜利的原因和历史意义；认识抗日战争胜利在近代中国反抗外来侵略斗争中的历史地位。

【要点解读】

1. 知识整合：近代以来，西方列强发动了鸦片战争、第二次鸦片战争、甲午中日战争、八国联军侵华战争、日本大规模侵华战争是中国民族危机日益加深，面对资本主义侵略中国人民先后进行了太平天国运动、辛亥革命、五四运动、抗日战争、解放战争，历经坎坷曲折，终于取得抗日战争和解放战争的伟大胜利。中国人民反侵略、追求民族独立、民族进步的愿望终于得以实现。

2. 难重透析：

(1) 如何理解鸦片战争是中国近代史的开端？

鸦片战争给中国带来巨大的屈辱和深重的灾难。从此中国的大门被迫打开，外患接踵而至，主权和领土完整不断遭到破坏。中国由一个独立自主的封建国家开始沦为半殖民地半封建社会。

(2) 《天朝田亩制度》的评价：

《天朝田亩制度》是太平天国颁布的纲领性文件。它反映了农民要求获得土地的强烈愿望，是几千年来农民反封建斗争的思想结晶。但是，它体现的绝对平均主义思想，严重脱离实际，根本无法实现。

3. 易错辨析：辛亥革命、国民大革命与中国共产党领导抗日战争及解放战争结果的比较：辛亥革命、国民大革命结果都以失败告终，都没有完成反帝反封建任务，没有改变半殖民地、半封建社会性质，而中共领导的新民主主义革命彻底推翻了帝国主义、封建主义和官僚资本主义统治，结束了中国半殖民地半封建社会历史。

【学法指导】

1. 列表归纳列强发动的一系列战争以及签订的一系列不平等条约的内容、影响；
2. 注意知识之间的纵横联系：一方面在分析具体事件时应注意联系当时的世界形势，加深对外来侵略和人民反抗的认识；另一方面要把历次战争及人民的抗争联系起来分析比较，理解列强对中国侵略的程度越深中国人民的反抗就越激烈。
3. 注意与时政热点问题联系：对于日本近代侵华方针、政策，侵华暴行，注意结合目前日本政府对战争的认识进行深层次分析，形成正确认识，得出历史的教训。

【梯度练习】

A 组

一.选择题

- 1.“允许外国人到中国内地游历、经商和传教”的条款出自（ ）
A. 《天津条约》 B. 《北京条约》 C. 《南京条约》 D. 《辛丑条约》
2. 北洋舰队全军覆没的战役是（ ）
A. 南京战役 B. 黄海战役 C. 辽东战役 D. 威海卫战役
3. 极大地刺激了列强瓜分中国野心的是（ ）
A. 《天津条约》 B. 《北京条约》 C. 《马关条约》 D. 《辛丑条约》
4. 下列条约涉及香港问题的有（ ）
A. 《南京条约》《北京条约》 B. 《南京条约》《辛丑条约》
C. 《南京条约》《北京条约》《马关条约》 D. 《南京条约》《北京条约》《辛丑条约》
5. 中国同盟会成立的时间是（ ）
A.1900 年 B.1905 年 C.1919 年 D.1912 年

6. 下列属于“八七会议”的内容是 ()
- A. 确立开展土地革命和武装反抗国民党统治的总方针 B. 决定发动南昌起义
- C. 决定建立井冈山革命根据地 D. 选举毛泽东为政治局常委
7. 日本侵略者专门研究细菌战的“七三一部队”基地是在 ()
- A. 南京 B. 东北 C. 潘家峪 D. 常德
8. 标志解放战争进入战略反攻阶段的是 ()
- A. 刘邓大军挺进大别山 B. 辽沈战役 C. 渡江战役 D. 重庆谈判
- B 组
9. 中国近代史以鸦片战争为开端，主要是因为 ()
- A. 中国第一次被西方国家打败 B. 长期闭关锁国状况被打破
- C. 社会性质开始发生根本变化 D. 民族矛盾取代了阶级矛盾
10. 中国半殖民地半封建社会完全形成的标志是 ()
- A. 《天津条约》的签订
- B. 《北京条约》的签订
- C. 《南京条约》的签订
- D. 《辛丑条约》的签订
11. 台湾人民发布檄文，“愿人人战死而失台，决不愿拱手而让台”，誓与台湾共存亡。这种悲壮情景发生在 ()
- A. 《南京条约》签订后 B. 《中法新约》签订后
- C. 《马关条约》签订后 D. 《辛丑条约》签订后
12. 辛亥革命对中国近代政治民主化发展作出的最重要贡献是 ()
- A. 推翻了延续两千多年的封建帝制 B. 促进了民族资本主义的迅速发展
- C. 使人们获得了一些民主自由权利 D. 打击了帝国主义在华的殖民统治
13. 标志着国共第一次合作正式形成的事件是 ()
- A. 中共“二大”召开 B. 国民党“一大”召开
- C. 中共“三大”召开 D. 国民党“二大”召开

二. 材料题:

14. 阅读下列三幅图片，回答有关问题：



请回答：



(1) 图一条约签订后对中国社会的突出影响是什么？

(2) 图二条约签定的背景是什么？该事件对中国近代经济、政治上产生什么影响？

(3) 图三条约是在什么背景下签订的？该事件对中国近代社会产生了什么影响？

C 组


一. 选择题：

15. 中日甲午战争时，慈禧太后命人向李鸿章问策，李怒曰：“总理度支（户部），平时请款驳诘，临事而问兵舰，兵舰果可恃乎？……政府疑我跋扈，台谏参我贪婪，我再呶呶不已，今日尚有李鸿章乎？”在李鸿章看来，甲午战争失败的原因在于（ ）

- A. 军费不足、朝廷猜忌和同僚的倾轧 B. 军费不足、洋务派失误和朝廷猜忌
C. 同僚的倾轧、朝廷猜忌和洋务派失误 D. 同僚的倾轧、洋务派失误和军费不足

16. 右图两部文献具有相一致的方面，对此，正确的表述是（ ）

- A. 都反对封建主义压迫
B. 都成为太平天国的建国纲领
C. 都主张发展资本主义
D. 都以绝对平均主义作为指导思想



17. 五四运动中的上海学生联合会曾发布《告同胞书》一文写道：“学生罢课半月，政府不惟不理，且对待日益严厉。乃商界罢市不及一日，而北京被捕之学生释；工界罢工不及五日，而曹、章、陆去。”这说明在五四运动中起主力军作用的是：（ ）

- A. 学生 B. 商人 C. 农民 D. 工人

18. 毛泽东赴重庆谈判的主要目的是（ ）
- A. 争取政治主动，表明和平诚意 B. 争取国共合作，避免全面内战
- C. 争取政治民主化，军队合法化 D. 争取民主党派，建立联合政府
19. 中国新民主主义革命属于资产阶级民主革命，主要是因为（ ）
- A. 民族资产阶级是半殖民地、半封建社会中新生生产力的代表
- B. 民族资产阶级的政治主张体现了近代历史发展的要求
- C. 中国革命的对象是帝国主义和封建主义
- D. 中国革命的根本目的是建立独立、统一的民主共和国。

二. 探究题

20. 日本是近代侵略中国最凶残的国家，两次中日战争对中国历史产生了深刻的影响。回答下列问题：

（1）有人认为，甲午战争的爆发是由于清兵出兵朝鲜，威胁到日本安全，你怎么看待这种说法？

（2）1945年9月5日，《解放日报》社论指出“中华民族已经从日本帝国主义压迫下解放出来了……这的确是我中华民族百年来未有的大事，值得全国同胞的热烈祝贺。”简要谈谈你对这一论断的理解。

（3）1895年，甲午战争以中国失败而告终；50年后，中国人民打败了凶残的日本帝国主义。结合史实分析这两种不同结果的主要原因。

第五单元 科学社会主义理论到社会主义制度的建立

【学习目标】

1. 简述马克思主义产生的历史重要条件；了解《共产党宣言》的主要内容；
2. 知道巴黎公社成立的时间；了解巴黎公社成立意义。
3. 了解俄国二月革命、《四月提纲》、《和平方令》《土地法令》的主要内容和作用；认识俄国十月社会主义革命的历史意义。

【要点解读】

1. **知识整合：**19 世纪中期，马克思主义诞生，社会主义理论从空想变为科学，开始正确指导工人运动，社会主义运动和工人运动进入新阶段；1871 年法国巴黎工人进行革命，建立了巴黎公社，开始了建立无产阶级政权的伟大尝试；1917 年，俄国十月革命胜利，建立了世界上第一个社会主义国家，社会主义终于从理论变为现实。

2. 难重透析：

马克思主义的诞生：

诞生的条件：经济基础，工业革命推动资本主义迅速发展，并导致资本主义经济危机的爆发和使社会分裂成工业资产阶级和无产阶级两大对立阶级；阶级基础：19 世纪 30、40 年代，欧洲三大工人运动——法国里昂工人起义、英国宪章运动和德意志西里西亚纺织工人起义；三大思想来源：德国的古典哲学、英国的古典政治经济学、英法的空想社会主义；诞生的标志：1848 年 2 月《共产党宣言》的发表

3. 易错辨析：

（1）空想社会主义与科学社会主义的区别：空想社会主义不能科学地阐明资本主义社会基本矛盾，不可能认识到社会主义取代资本主义的客观规律，其设想根本无法实现。因而是空想的，不切实际的。

（2）俄国二月革命与俄国十月革命性质的区别：判断一场革命的性质主要依据它所完成的革命任务，而非看这场斗争的领导者。俄国二月革命推翻了沙皇专制统治，是一场资产阶级民主革命；而十月革命推翻了资产阶级临时政府，建立了人类历史上第一个社会主义国家，是一场社会主义革命。

【学法指导】

1. 要从宏观上把握国际社会主义运动形成发展的脉络和演进规律：

理论产生——革命实践——制度确立。

2. 要从资本主义经济发展状况和各国具体的国情，分析巴黎公社建立无产阶级专政政权的尝试，社会主义制度在俄国、中国确立的方式、原因。

【梯度练习】

A 组

选择题

1. 人类历史上第一次消灭了人剥削人的制度的革命是（ ）
A. 英国资产阶级革命 B. 美国独立战争 C. 法国大革命 D. 俄国十月革命
2. 之所以说《共产党宣言》的问世标志着马克思主义的诞生，主要是因为（ ）
A. 阐明了社会发展的客观规律
B. 揭示了无产阶级历史使命
C. 吸取了人类文化的优秀成果
D. 第一次较为完整系统的阐述马克思主义的基本原理
3. 列宁颁布的《四月提纲》指出布尔什维克党的任务是（ ）
A. 结束沙皇统治 B. 实行武装起义
C. 从资产阶级民主革命向社会主义革命转变 D. 无产阶级参与资产阶级临时政府
4. 下列关于十月革命评价不正确的是（ ）
A. 是俄国历史上最深刻的一次社会变革 B. 打破了资本主义一统天下的局面
C. 是建立无产阶级专政的第一次尝试 D. 是人类历史上第一次获胜的社会主义革命

B 组

一. 选择题：

5. 在马克思主义诞生的历史条件中，最基本的是（ ）

- A. 工业革命深入发展，资本主义的弊端暴露 B. 无产阶级开始登上政治舞台
- C. 空想社会主义理论的产生与发展 D. 马克思、恩格斯的理论研究和实践活动
6. 下列对巴黎公社的评价，不正确的是（ ）
- A. 是世界上第一个无产阶级政权 B. 是 19 世纪初期以来国际工人运动的高峰和总结
- C. 证明了科学社会主义理论的正确 D. 失败的根本原因在于军事上犯了致命的错误

C 组

一. 选择题

7. 恩格斯说：“我们决不想把新的科学成就写成厚厚的书，只向学术界吐露。正相反，我们两人已经深入到运动中去。”对这段话正确的理解是（ ）
- A. 又想创立科学理论 B. 只想创立科学理论
- C. 用科学理论去武装无产阶级 D. 创立科学理论，赢得学术专利
8. 巴黎公社时期，法国并不存在建立工人阶级政权的“客观条件”，这里的“客观条件”主要是指（ ）
- A. 资本主义工业尚未得到充分发展 B. 无产阶级政党尚未建立
- C. 无产阶级与资产阶级矛盾尚未尖锐 D. 第一国际未能起到领导作用

二. 探究题：

9. 1917 年，俄国先后爆发了二月革命和十月革命，并取得了胜利。

据此回答：

- （1）二月革命向十月革命过渡前国内形势怎样？
- （2）在过渡过程中，布尔什维克党的策略怎样？
- （3）二月革命和十月革命有何本质不同？
- （4）有人说“二月革命是无产阶级领导的，所以也具有社会主义革命性质”，谈谈你的看法？

第六单元 现代中国的政治建设与祖国统一

【学习目标】

1. 掌握《共同纲领》的内容和性质；知道人民代表大会制度创立的标志、民族区域自治制度的目的和内容。
2. 了解“文化大革命”对民主法制的践踏主要表现。
3. 了解十一届三中全会在民主与法制建设上的贡献和改革开放以来我国在民主法制建设方面的主要成就。
4. 简述“一国两制”的理论，了解香港、澳门的回归、“九二共识”，认识实现祖国完全统一对中华民族复兴的重大历史意义。

【要点解读】

1. **知识整合：**新中国成立，开创了中国历史新纪元，也开启了新中国社会主义民主政治建设历程。新中国成立初期，中共建立了人民代表大会制度，确立了党领导的多党合作的政治协商制度和民族区域自治制度，文革时期，新中国民主政治建设历经坎坷曲折。十一届三中全会后，中共拨乱反正，依法治国，中国民主法制建设进入一个新时期。邓小平“一国两制”的伟大构想，为实现祖国统一奠定了坚实基础。
2. **难重透析：**（略）
3. **易错辨析：**民族区域自治与港澳“高度自治”的区别：民族区域自治是在中央人民政府的统一领导下，在少数民族聚居的地方，按照人口多少和区域大小，分别建立不同级别（区、州、县）的民族自治区域和自治机关；在自治区域内，由少数民族当家作主，管理本民族地方性的内部事务；同时，民族自治地方的机关又是中央政府领导下的各级政权机关。而“一国两制”下的港澳“高度自治”则是除外交和国防事务外，港澳享有行政管理权、立法权和独立司法及终审权，其自治权限比各级民族自治地方大得多。

【学法指导】

1. 结合人民代表大会制度、中共领导的多党合作和政治协商制度、民族区域自治制度、“一国两制”等具体政治制度的内容、特点，与西方的民主制度进行比较，认识到中国特色的政治制度是中国特色的社会主义的重要组成部分，体现了社会主义制度的优越性。
2. 注意与现实时政热点问题相联系，认识中国特色民主制度的特点。

【梯度练习】

A 组

一. 选择题

1. 1954 年《中华人民共和国宪法》规定：中华人民共和国的最高国家权力机关是（ ）
A. 人民代表大会 B. 全国人民代表大会 C. 各级人民代表大会 D. 中国人民政治协商会议
2. 党和政府为实现少数民族当家作主的愿望，在少数民族地区实行（ ）
A. 民族平等 B. 民族团结 C. 共同繁荣 D. 民族区域自治
3. 中国政府于 20 世纪 80 年代提出“一国两制”的构想，其总体目标是为了（ ）
A. 解决香港回归问题 B. 解决澳门回归问题
C. 用和平方式解决台湾问题 D. 实现祖国统一大业
4. 我国第一届全国人民代表大会召开是在哪一年（ ）
A. 1949 B. 1952 C. 1954 D. 1956

B 组

一. 选择题：

5. 下表为第一届中华人民共和国中央人民政府主席、副主席的政党状况：葛

姓 名	毛泽东	朱 德	刘少奇	宋庆龄	李济深	张 澜	高 岗
政党	中共	中共	中共	民革	民革	民盟	中共

上表说明：（ ） 葛

- A. 中华人民共和国是无产阶级和资产阶级的联合政权葛
- B. 中华人民共和国中央人民政府是民主联合政府葛

C.中国在政体上实行多党制

D.中国共产党在政府中并不居于领导地位

6. 我国能够恢复对香港、澳门行使主权的各项条件中,最主要的是 ()

A. 改革开放使综合国力大大增强

B. 国家统一是历史发展的必然趋势

C. 中国早已成为独立的主权国家

D. 英、葡接受“一国两制”的构想

二. 材料题:

7. 阅读下列材料:

材料一 中华人民共和国是工人阶级领导的,以工农联盟为基础的人民民主专政的社会主义国家。

材料二 中华人民共和国的一切权力属于人民,人民行使权力的机关是全国人民代表大会和地方各级人民代表大会。全国人民代表大会和地方各级人民代表大会及其他国家机关一律实行民主集中制。

材料三: 中华人民共和国依靠国家机关和社会力量,通过社会主义工业化和社会主义改造,保证逐步消灭剥削制度,建立社会主义社会。

——《中华人民共和国宪法(1954年)》

请回答:

(1) 结合所学知识说明 1954 年宪法颁布的背景和意义是什么?

(2) 以上材料体现了宪法的哪些原则?

(3) 根据材料指出我国的国家性质和根本政治制度。

C 组

一. 选择题:

8. 经过“文化大革命”,党和人民在民主政治建设方面取得的最深刻的教训是 ()

A. 反对个人崇拜

B. 加强党的领导

C. 以经济建设为中心

D. 加强社会主义民主法制建设

9. 1998 年以来,我国农村逐步建立起村民民主自治制度,其主要内容包括 ()

①民主选举 ②民主决策 ③民主管理 ④民主监督

A. ①②③

B. ②③④

C. ①②④

D. ①②③④

第七单元 现代中国的对外关系

【学习目标】

1. 识记新中国独立自主的和平外交方针；了解新时期我国外交建树的主要表现；了解日内瓦会议和万隆会议。
2. 掌握新中国在联合国合法席位的恢复、中美关系正常化和中日建交。
3. 掌握和平共处五项原则主要内容及其影响。

【要点解读】

1. **知识整合：**新中国从成立之初开始，就奉行独立自主的外交政策，提出和平共处五项原则；20 世纪 70 年代，中国恢复在联合国的合法席位；随着中美关系正常化，中国外交打开新局面；改革开放以后，中国政府适时调整了外交政策，丰富和发展了和平外交政策，使中国走向全方位外交的新时代。

2. 重难点透析：

(1) 关于和平共处五项原则：

①提出背景：新中国成立后，积极同邻近国家和新兴民族独立国家发展友好关系 1953 年 12 月，周恩来接见印度代表团时，首次提出了和平共处五项原则，

②主要内容：互相尊重主权和领土完整，互不侵犯，互不干涉内政，平等互利，和平共处。

③意义：这一原则提出标志新中国外交政策的成熟；在国际上产生了深远影响，成为解决国与国之间问题的基本准则。

(2) 关于“求同存异”方针

在 1955 年召开的亚非国际会议上，由于帝国主义阻挠破坏，一些国家代表在会上制造难题，攻击社会主义，企图破坏会议的进行。针对这一情况，周恩来鲜明提出了“求同存异”这一方针。所谓“同”：一是指与会亚非国家的遭遇相同，都曾经沦为殖民地、半殖民地；二是都面临发展民族经济和维护民族独立的任务；所谓“异”是指与会国家的社会制度、意识形态、宗教信仰、生活习惯有所差异，这一方针提出扭转了会议局面，促进会议取得圆满成功。

3. 易错辨析：

“一边倒”与独立自主的关系：“一边倒”与独立自主外交方针并不矛盾，新中国成立后，以美国为首的帝国主义对新中国采取了政治上不承认、经济上封锁禁运，军事上威胁及外交上孤立的政策，企图把新中国扼杀在摇篮里。为了保卫胜利成果，保卫和平，在维护独立主权的斗争中不致于孤立，中国政府在外交上坚定地站在了社会主义阵营一边，可以说“一边倒”不仅不与独立自主外交方针相违背，相反它是我国独立自主外交政策的主要表现。

【学法指导】

1. 注意新中国在不同时期，根据当时国际国内形势的发展、变化所作出的几次外交政策的重大调整及所取得的突出成就，形成清楚的知识线索。
2. 注意领会毛泽东、周恩来、邓小平等领导人的外交策略和智慧，从而加深理解不同时期的外交政策。

【梯度练习】

A组

一. 选择题

1. 周恩来首次提出“和平共处”五项原则是在哪一年（ ）
A. 1952 年 B. 1953 年 C. 1954 年 D. 1955 年
2. 周恩来在会上提出“求同存异”方针，从而促进会议取得圆满的成功，是指以下哪一会议（ ）
A. 万隆会议 B. 日内瓦会议
C. 第 26 届联合国代表大会 D. 第一次不结盟国家政府首脑会议
3. 中国恢复在联合国的合法席位是哪一年（ ）
A. 1970 年 B. 1971 年 C. 1972 年 D. 1979 年
4. 新中国第一次以世界五大国身份参加的国际会议是（ ）
A. 亚非会议 B. 日内瓦会议
C. 第 26 届联合国代表大会 D. 不结盟国家政府首脑会议
5. 新中国成立初期，奉行的独立自主外交方针政策内容中不包括（ ）
A. “另起炉灶” B. “打扫干净屋子再请客” C. “一边倒” D. 多边外交关系

B 组

一. 选择题

6. “取缔帝国主义在华一切特权”是指新中国初期外交政策哪一具体内容（ ）

A. “另起炉灶” B. “打扫干净屋子再请客” C. “一边倒” D. 不结盟政策

7. 20 世纪 50—70 年代，美国对中国政策经历了由孤立、遏制到谋求中美关系正常化的转变，导致这一转变的主要原因是（ ）

A. 中国国际地位得到提高 B. 美国孤立中国政策失败
C. 由于美国国内和平主义潮流的影响 D. 中国也面临新的战略抉择

二. 材料解析题 8. 阅读下列图片



图一 周恩来总理访问印度



图二 中国政府代表在日内瓦会议上



图三 周恩来在万隆会议上

回答：（1）上述图片反映的历史事件分别发生于哪一年？

（2）图一中周恩来倡导的外交原则是什么？有何重要响？

（3）指出日内瓦会议对新中国外交的重要意义？

（4）在万隆会议上中国发挥了怎样的作用？

C 组

一. 选择题

9. “这是联合国历史上的转折点，反西方国家（包括共产党国家）在美国威信动摇时第一次击败了美国”。材料中的转折点是指（ ）

- A. 中国恢复在联合国的合法席位 B. 中美关系正常化
C. 中美建交 D. 中日邦交正常化

10. 1971 年，第 31 届世界乒乓球锦标赛在日本名古屋举行，比赛结束时，美国运动员科恩误上了中国队的班车，中国著名乒乓国手庄则栋主动上前向科恩打招呼，并且赠送了礼物，这一举动（ ）

- A. 是卖国的，美国是中国的头号敌人 B. 是可笑的，中国人置民族尊严、大义于不顾
C. 是得体的，民间交流有利于两国关系的改善 D. 是正常的，中美关系已经亲密无间

二. 材料题：11. 阅读下列三幅图片：



图一：中国代表团访问印度



图二：毛泽东会见尼克松一行



图三：联合国安理会 5 个常任理事国首脑会议举行会晤

请回答：

- ①上述三组图片分别发生在什么历史时期？
- ②指出上述图片反映的外交成就。
- ③分析上图外交成就分别产生的重大影响。

第八单元 当今世界政治格局的多极化趋势

【学习目标】

1. 了解朝鲜战争、越南战争；知道苏联解体和两极格局解体的标志。
2. 掌握“冷战”政策的含义及表现；知道日本成为世界经济大国谋求政治大国地位。
3. 掌握欧洲共同体形成；掌握不结盟运动形成的标志及影响。
4. 掌握苏联解体后，世界多极化趋势加强的史实。

【要点解读】

1. 知识整合：战后至今，世界政治格局经历了由美苏两极格局到多极化趋势的重大变化。二战后，欧洲普遍衰落，美国成为头号资本主义强国，苏联实力膨胀，以美苏为首的两极格局形成。60年代以后，随着欧洲走向联合，日本迅速崛起，中国实力增强及不结盟运动兴起，世界开始出现多极化趋势。东欧剧变，苏联解体，标志两极格局瓦解，世界呈现出“一超多强”的局面，世界形势朝着多极化方向发展。

2. 难重透析：

关于“冷战”政策：

含义：二战后，以美国为首的西方资本主义国家，对苏联等社会主义国家采取了除武装进攻之外的一切手段的敌对活动，以遏制共产主义。

主要表现：政治上：提出杜鲁门主义，以遏制共产主义。

经济上：实施马歇尔计划，以稳定西欧资本主义，控制西欧各国，

军事上：建立北约集团，以遏制东欧社会主义国家。

3. 易错辨析：

当前的世界格局不等同于多极化：随着两极格局解体，世界格局处于一个新旧交替过程中，美国一枝独秀，欧、日、中、俄等力量崛起，使世界暂时呈现出“一超多强”局面，但这绝不是固定的真正意义的世界格局，目前世界格局还不能说是形成多极化，而只是多极化趋势而已，多极化的最终形成，将是一个漫长而复杂的过程。

【学法指导】

本单元涉及的问题大多数是社会现实中的重大问题，学习时注意密切联系现实，关注社会热点问题，把握历史与现实之间的关系。

【梯度练习】

A 组

一. 选择题

1. 欧洲共同体形成于哪一年 ()

- A. 1951 年 B. 1967 年 C. 1992 年 D. 1993 年

2. 有一幅黄鼠狼给鸡拜年的漫画，漫画中的鸡代表西欧各国，黄鼠狼代表美国，请问漫画内容与下列哪一内容相关 ()

- A. 马歇尔计划 B. 北大西洋组织成立
C. 华约组织成立 D. 欧共体成立



3. 两极格局彻底瓦解的标志是 ()

- A. 苏联解体 B. 美国衰落 C. 日本、西欧崛起 D. 多极化形成

4. 下列国家没有加入北约组织的是 ()

- A. 美国 B. 英国 C. 法国 D. 俄国

B 组

一. 选择题

5. 下列不属于战后日本迅速崛起原因的是 ()

- A. 推行广泛的社会改革 B. 美国支持
C. 制定适合本国国情的经济发展战略 D. 积极参与不结盟运动

6. 关于 20 世纪 80 年代末到 90 年代初，世界政治格局的重大变化表述正确的是 ()

①两极格局结束 ②两极格局仍未动摇 ③形成多极化世界格局 ④形成“一超多强”的格局

- A. ①② B. ②③ C. ①④ D. ②④

二. 材料解析题:

7. 阅读下列材料:

1951 年, 法国、联邦德国、意大利、比利时、荷兰和卢森堡建立煤钢共同体。

1958 年, 上述六国建立欧洲经济共同体和欧洲原子能共同体, 决定建立关税同盟, 实施共同农业政策, 组成农产品共同市场。

1967 年, 上述三个共同体合并为欧洲共同体。

1973 年, 英国、爱尔兰和丹麦加入欧共体。其后, 希腊、葡萄牙和西班牙相继加入。

1975 年, 欧共体首脑会议正式定名为“欧洲理事会”。

1979 年, 欧共体各国成立欧洲议会, 加强各国的政治联系, 协调彼此的对外政策。

1991 年, 欧共体通过了欧洲联盟条约。两年后, 欧洲联盟正式成立, 成为一个具有经济和政治双重性质的组织。

1995 年, 奥地利、芬兰和瑞典加入欧洲联盟。

——欧洲一体化大事记 (1951—1995 年)

请回答:

(1) 欧共体由哪三大重要机构组成?

(2) 概括指出其经济一体化的演进趋势。

(3) 欧洲理事会和欧洲会议的成立, 表明欧共体出现了什么新的发展趋势? 结合所学知识说明出现这一趋势的内部和外部原因。

C 组

一. 选择题:

8. 当美国开始对欧洲实行马歇尔计划时, 对亚洲则是 ()

A. 扶助蒋介石打内战

B. 发动侵略越南战争

C. 发动侵略朝鲜战争

D. 建立北约组织

9. 20 世纪 80 年代末 90 年代初, 东欧剧变和苏联解体, 不能表明 ()

A. 国际社会主义运动在全世界范围内失败 B. 社会主义运动不可能一帆风顺

C. 东欧社会主义建设缺乏经验不够成熟 D. 社会主义建设需要走符合本国国情的道路

二. 探究题:

10. 曾有这样一幅反映二战后初期历史的漫画，漫画内容为：“一位瘦弱不堪的病人躺在病榻上，正在让一位身体肥胖的医生给他看病，医生检查了病人的病情后，给他开出了药方”。

据其内容回答：

- ①漫画中的“医生”和“病人”各指什么国家？
- ②“病人”瘦弱不堪，“医生”身体肥胖，反应了什么问题？
- ③“医生”开出了什么药方？“药方”的实质是什么？
- ④“病人”吃了“医生”开的药方以后，病情后来有什么变化？

湖南省教育厅版权所有
www.hunandedu.net

综合检测一

选择题（本大题有 25 小题，每题 2 分，共 50 分。每题所列的四个选项中，只有一项是符合题目要求的。）

1. 自古以来，中国人就有祭祖的习俗。这种“认祖归宗”的情结起源于古代的（ ）

- A. 宗法制 B. 分封制 C. 郡县制 D. 井田制

2. 对中国封建社会中央集权制度的建立作出贡献最大重要历史人物是（ ）

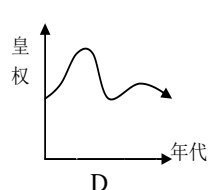
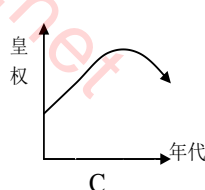
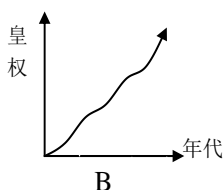
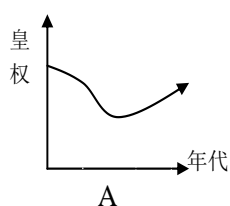


- A. 秦始皇 B. 汉武帝 C. 唐太宗 D. 明太祖

3. 秦朝建立的丞相制度在隋唐时期出现了重大调整，这主要是指（ ）

- A. 废除丞相，权分六部 B. 设立三省，分散相权
C. 设参知政事，分割相权 D. 设立内阁，强化相权

4. 在《中国古代政治制度》单元学习结束后，有四位同学分别画出了“中国封建社会皇权地位演变趋势示意图”，与实际情况基本相符的一幅是（ ）



5. 罗马法在世界法律史上具有十分重要的地位，因为它（ ）

- A. 对近代欧美国家的立法的司法产生了重要影响 B. 维护奴隶主对奴隶的剥削的压迫
C. 维护和巩固了罗马帝国的统治 D. 给予自由民和奴隶以公民权

6. 在英国近代责任内阁制体制中实际掌握国家大权的是（ ）

- A. 英国国王 B. 英国首相 C. 英国议会 D. 英国内阁部长

7. 人类历史上第一部比较完整的资产阶级成文宪法是（ ）

- A. 英国《权利法案》 B. 美国《1787 年宪法》
- C. 法兰西第三共和国宪法 D. 1871 年《德意志帝国宪法》
8. 近代最早发动侵华战争的西方国家是（ ）
- A. 英国 B. 法国 C. 美国 D. 日本
9. 下列太平天国的诸项活动中，能够反映当时世界历史潮流的是（ ）
- A. 洪仁玕的《资政新篇》 B. 颁布《天朝田亩制度》
- C. 严惩外国侵略者 D. 反对没落的封建统治
10. 有人曾对中国近代史上的一场战争发出这样的感慨：“从前我国还只是被西方大国打败过，现在竟被东方的小国打败了，而且失败得那样惨，条约又订得那样苛刻，这是多么大的耻辱啊！”这场战争是
- A. 第一次鸦片战争 B. 第二次鸦片战争 C. 甲午战争 D. 八国联军侵华战争
11. 毛泽东著名的词句“江山如此多娇，引无数英雄竞折腰，数风流人物，还看今朝。”抒发了博大的胸襟和远大的抱负。这首《沁园春·雪》写于 1936 年。此时，中国工农红军（ ）
- A. 开创了井冈山革命根据地 B. 粉碎国民党的三次军事“围剿”
- C. 开赴抗日战争的前线 D. 胜利完成二万五千里长征
12. 有人说“西方人送来了一份令人不堪忍受的礼物来祝贺中国进入 20 世纪”。这里的“礼物”是指（ ）



A. 《南京条约》的签订



B. 火烧圆明园



C
《马关条约》的签订



D. 《辛丑条约》的签订

13. 对第一次国共合作中“党内合作”的正确解释是 ()
- A. 两党合并而成立一新的政党 B. 中国共产党并入国民党
- C. 共产党员以个人身份加入国民党 D. 两党独立但保持联络
14. 下列不属于 1926 年北伐战争主要对象的是 ()
- A. 袁世凯 B. 吴佩孚 C. 孙传芳 D. 张作霖
15. 事实上确立毛泽东的核心领导地位，成为中国共产党生死攸关转折点的重要会议是 ()
- A. 遵义会议 B. 八七会议 C. 中共一大 D. 中共二大
16. 中央电视台组织青少年进行“红色之旅”活动，他们从江西出发，途经贵州遵义等地，最终到达陕北，这一活动是为了纪念 ()
- A. 北伐战争 B. 南昌起义 C. 土地革命 D. 红军长征
17. 二十世纪三十年代流行的歌曲《松花江上》唱道：“我的家在东北松花江上……从那个悲惨的时候，脱离了我的家乡……”。“那个悲惨的时候”是指 ()
- A. 九一八事变 B. 华北事变 C. 七七事变 D. 八一三事变
18. 1945 年 8 月，《大公报》报道毛泽东来到重庆的消息时称：“爱好民主自由的人士都知道，这是维系中国目前及未来历史和人民幸福的一个喜讯。”这反映了“爱好民主自由的人士”期盼 ()
- A. 国共双方和平协商，创建新中国 B. 国共双方消除隔阂，共同抗日
- C. 共产党领导人民推翻国民党的统治 D. 共产党与民主党派合作建立新中国
19. 巴黎公社成立的历史意义是 ()
- A. 诞生了人类历史上第一个无产阶级专政的国家
- B. 是人类历史上第一次取得胜利的社会主义革命
- C. 它将社会主义由理论变为现实
- D. 它是无产阶级建立政权的第一次伟大尝试
20. 提出“有法可依，有法必依，执法必严，违法必究”的法制建设方针是在哪次会议后 ()
- A. 中共二大 B. 一届全国人大 C. 全国政协一次会议 D. 十一届三中全会
21. 1992 年台湾海峡交流基金会和海峡两岸关系协会达成了“九二共识”，“九二共识”的重要内容是 ()
- A. 两岸直接实现三通 B. 最早提出一国两制的方针

- C. 国共两党实现第三次合作 D. 海峡两岸均坚持一个中国原则

22. 中美关系开始走上正常化的根本原因是 ()

- A. 尼克松访华 B. 上海《中美联合公报》的发表
- C. 1979 年中美两国正式建立外交关系 D. 中国综合国力的增强

23. 以下是一位同学在研究性学习中搜集的一组图片。分析这组图片, 你认为该同学探究的主题是 ()



1996 年钱其琛代表中国政府
签署《全面禁止核试验条约》

2000 年 9 月, 安理会五
个常任理事国首脑会晤

2001 年 10 月, 中国成功主办了亚太
经合组织第九次领导人非正式会议

- A. 两极格局的形成 B. 美国主导的资本主义世界经济体系形成
- C. 改革开放以来中国的外交政策和外交成就 D. “一国两制”构想的成功实践

24. 20 世纪 70 年代以来, 日本要求与美国建立平等的伙伴关系, 其根本原因是 ()

- A. 美苏两极格局即将瓦解 B. 日本开始奉行独立的外交政策
- C. 日本已经成为经济大国 D. 日本需要提高自己的国际地位

25. 苏联解体后, 美国成为唯一的超级大国, 欧盟、日本、俄罗斯、中国几大力量也相对突出, 广大发展中国家整体实力增强。这一现状反映了世界政治格局的走向是 ()

- A. 两极格局 B. 资本主义一统天下 C. 社会主义一统天下 D. 多极化趋势

二. 材料题 (共三个小题, 其中 26 题 14 分, 27、28 题各 12 分)

26. 阅读下列材料, 回答相关问题:

材料一: 第三条……共同体的活动应包括:

(1) 在各成员国之间取消商品进出口的关税和定量限制, 以及具有同等影响的一切其他措施;

(2) 建立对待第三方国家的共同关税率和共同贸易政策;

(3) 在各成员国之间, 废除阻止人员、劳务和资本自由流动的各种障碍;

——《欧洲经济共同体条约》(1967 年 3 月 5 日)

材料二：西欧……是美国非常强有力的竞争对手。……他们正在与我们竞争。在经济领导的问题上，他们在全世界同我们竞争得非常激烈。……同我们在第二次世界大战结束的时候相比，美国遇到了我们甚至连做梦也没有想到过的那种挑战。

——1971 年美国总统尼克松的一次演说

请回答：

(1) 请根据材料一从对内对外两个方面归纳欧洲经济共同体成立的主要目标。(4 分)

(2) 材料二说美国遇到了强有力的“竞争”和“挑战”从何时开始？曾经是美国的扶持对象，后来又成为美国的竞争对手，除西欧外，还有哪国？(2 分)

(3) 美国在遇到西欧竞争前，通过什么方式控制西欧的？(2 分)

(4) 上述二则材料体现了欧洲怎样的发展趋势？这种趋势对世界产生什么影响(6 分)

27. 阅读下列材料：

材料一：1945 年 8 月 20 日蒋介石再次邀请毛泽东到重庆谈判的电报：大战方告结束，内争不容再有……如何以建国之功收抗战之果，甚有赖于先生之惠来渝，共定大计……

材料二：1945 年 10 月 13 日蒋介石给陆军总司令何应钦的密电：抗战胜利，……奸匪竟企图破坏统一遂割据之阴谋，若不速予剿除，不仅八年抗战前功尽失，且必遗害无穷……此次剿匪为人民幸福所系，务本以往抗战之精神，遵照中正（蒋介石）所订剿共手本，督励所属，努力进剿，迅速完成任务。

材料三：1945 年 11 月 16 日蒋介石对高级将领的演讲：回想 20 年来，奸匪始终是本党惟一敌人。

请回答：

(1) 蒋介石电邀毛泽东到重庆谈判的理由是什么？(2 分) 国共双方谈判的结果如何？(2 分)

(2) 蒋介石对中共的真实态度是什么？在材料二、三中有何依据？(4 分)

(3) 据所学知识回答，蒋介石为什么要玩反革命两手？(4 分)

28. 阅读下列材料，回答相关问题：

材料一：中华民国主权，属于国民全体。中华民国国民一律平等，无种族、阶级、宗教之区别。中华民国以参议院、临时大总统、国务院、法院行使其统治权。中华民国之立法权，以参议院行之。

——1912 年 3 月《中华民国临时约法》

材料二：



1954 年颁布的
《中华人民共和国宪法》

材料三：

1982 年	全国人大五届五次会议通过修订的《中华人民共和国宪法》
1982 年	中共确立了与各民主党派“长期共存，互相监督，肝胆相照，荣辱与共”的方针
1979 年 —2000 年	全国人大通过一系列法律，逐步形成了以宪法为核心的社会主义法律体系

请回答：

- (1) 依据材料一并结合所学知识，谈谈《中华民国临时约法》颁布的历史意义。（4 分）
- (2) 根据材料二和材料三所提供的信息，分别指出新中国成立初期和十一届三中全会以来我国政治制度建设的重大成就。（6 分）
- (3) 材料二中的 1954 年《中华人民共和国宪法》与材料一中的 1912 年《中华民国临时约法》有何本质区别？（2 分）

三. 探究题

29. 关于“冷战”结束后的世界格局的变化，有一种观点认为是一种单极化格局；另一种观点认为当今世界是多极化趋势日益加强；第三种观点认为国际格局将朝着无极化时代（或称之为大空白时代）发展。请谈谈你的看法（12 分）

参考答案

第一单元

1 . B 2 . A 3 . B 4 . A 5 . D 6 . A 7 . D

8 . (1) 三省六部制进一步完善了专制主义中央集权制度。是中国古代政治制度的重大创造，以后历朝基本沿用这种制度。

门下省掌管国家政令的审批。

(2) 唐朝的中书省是中央机构之一，掌管国家政令的草拟；元朝的中书省是全国最高行政机构。

元朝是少数民族建立的统一王朝，实行行省制是为了对全国辽阔的疆域进行有效的统治。

9 . A 10 . A

11 . 参考答案：专制主义中央集权对封建社会的影响具有双重性。一般而言，在封建社会早期和中期，其积极作用是主要方面；封建社会的后期，专制主义中央集权制的消极作用逐渐增大。

具体表现在：(一) 积极作用：

1 . 在一定范围内维护了国家的统一，创造了相对稳定的社会环境；

2 . 有利于抵御外来侵略，防止分裂割据；

3 . 有利于有效的组织人力、物力从事大规模的经济活动，兴建大型工程，奠定了中华文明长期领先于世界的基础；

4. 有利于各地区、各民族间经济文化的交流，推动了先进的生产技术和文化在较广阔的范围内传播。

(二) 消极作用：

1. 经济上：严重束缚了社会生产力，阻碍了资本主义萌芽的发展，压制了新的生产关系的成长；

2. 政治上：空前强化的封建专制统治极易形成暴政；长期以来人民毫无政治权力和地位，民主政治无从发展，早期的资产阶级亦受到压制和打击；形成了长期的人治传统，派生了庞大的官僚队伍和特权阶层，极易出现政治腐败局面。

3. 思想上：专制主义制度必然导致对思想文化控制的加强，严重阻碍了科学的发展，更使得许多知识分子不敢过问政治，反封建的民主思想被绝对禁止和封杀。

第二单元

1. A 2. C 3. A 4. B 5. C 6. B 7. B

8. (1) 统治阶级从根本上维护其利益。

(2) 雅典民主政治和罗马法都是奴隶主阶级维护统治工具。奴隶处于被统治的地位，是建立在少数人民主基础之上的奴隶制民主政治。

9. D 10. A

11. (1) 公元前 6 世纪初，梭伦改革，奠定了雅典民主制度的基础。公元前 6 世纪末克利斯提尼改革，确立起雅典民主政治。公元前 5 世纪伯里克利改革，民主政治发展到顶峰。

(2) 重视和强调公民的民主权利和责任感，重视公共意志，反对个人专制。

(3) 罗马法的核心是承认财产神圣不可侵犯。

(4) 陪审制度、律师制度、诉讼制度（不告不理原则）

(5) 雅典民主政治影响了近代民主政治；而罗马法的自然法思想成为英、法、美等国制定法律的依据。

第三单元

1. A 2. C 3. C 4. B 5. B 6. B 7. B

8. (1) 联邦政府的结构：①国家立法权归于由参议院和众议院两院组成的国会。法律须经国会两院通过，总统批准，方可生效。②行政权归于总统，总统有选民间接选出。总统拥有很大权力，他即是国家元首，又是行政首脑，还是军队的总司令，在战时可以行使独裁大权。③美国的最高司法机关是联邦法院。大法官由总统任命，但须经参议院同意。它对于在美国宪法、联邦法律及条约范围内的一切案件都可以行使最高审判权。

(2) 三权分立、相互制约。

(3) 没有。因为在美国最初宪法中，享有民主权利的仅是白人成年男子，广大妇女、印第安人、黑人奴隶等被排斥在外，至今美国的种族歧视仍很严重。

9. B 10. A

11. 答案：①分为两大类：君主立宪制，如英国、德国等；共和制，如美国、法国等。

②英国、德国都是君主立宪制政体，但是有明显的差异。英王权力受议会制约，是虚位元首，德皇权力很大，凌驾于议会之上。

③资产阶级通过议会掌握立法权，以限制君主或总统对行政权力的滥用，维护资产阶级利益。

第四单元

1 . A 2 . D 3 . C 4 . A 5 . B 6 . A 7 . B 8 . A 9 . C 10 . D 11 . C 12 . A

13 . B

14 . (1) 中国开始沦为半殖民地半封建社会。

(2) 甲午战败；中国民族资本主义初步发展，出现戊戌变法运动。半殖民半封建化大大加深。

(3) 八国联军侵华，中国失败。中国完全沦为半殖民地半封建社会，推动了资产阶级民主革命。

15 . A 16 . A 17 . D 18 . A 19 . C

20 . (1) 日本发动侵华战争是蓄谋已久的，清军进入朝鲜是应邀帮助镇压起义不会威胁日本的安全，日本挑起战端的原因借口而已。最主要的就是日本早就制定了以侵略中国为中心的大陆政策。。

(2) 理解：抗日战争的胜利是中国人民一百多年来第一次取得反对帝国主义斗争的完全胜利；大大增强了全国人民的民族自尊心和自信心；提高了中国的国际地位。

(3) 原因：①甲午战争中，清政府腐败无能，单纯依靠官兵抗日；抗日战争中，国共两党合作，实行全民族抗战。②甲午战争中，中国遭受列强侵略，势单力孤；抗日战争中，中国得到海外华侨和反法西斯国家的支援。

第五单元

1. D 2. D 3. C 4. C 5. A 6. D 7. C 8. A

9. (1) 二月革命后，两个政权并存，资产阶级临时政府掌握实际权力；资产阶级临时政府继续进行帝国主义战争；布尔什维克党威信提高，在苏维埃中获得多数。

(2) 策略：由和平方式夺权到发动武装起义。

(3) 本质不同，二月革命推翻了沙皇专制统治，是资产阶级民主革命；十月革命推翻资产阶级临时政府，是社会主义革命。

(4) 二月革命的确是无产阶级领导，但是它完成的是资产阶级革命没有完成的任务，从革命的对象来说是沙皇专制，建立的政权也是资产阶级临时政府，因此性质仍属于资产阶级民主革命，只是在无产阶级的领导下完成的。所以上述观点不正确。

第六单元

1. B 2. D 3. D 4. C 5. B 6. A

7. ①背景：我国的国民经济得到了恢复和发展，在此基础上，民主政治建设也加紧进行。

意义：这部宪法是新中国第一部社会主义类型的宪法，是中国人民革命胜利的经验总结，是建设社会主义的保证。

②原则：人民民主原则和社会主义原则。

③性质：工人阶级领导的以工农联盟为基础的人民民主专政的国家。根本政治制度：人民代表大会制度。

8 . D 9 . D

第七单元

1 . B 2 . A 3 . B 4 . B 5 . D 6 . B 7 . A

8 . (1) 1954 年 , 1954 年 , 1955 年 。

(2) 和平共处五项原则。在国际上产生了深远的影响 , 成为解决国与国之间问题的基本准则。

(3) 新中国首次以世界五大国之一的地位参加的重要国际会议 , 中国代表团在会上发挥了积极作用 , 提高了新中国的国际声誉。

(4) 周恩来提出了“求同存异”方针 , 促进了会议取得圆满成功。

9 . A 10 . C

11 . ①新中国初期 , 70 年代 , 新时期。

②图一确认和倡导了“和平共处”五项原则。图二尼克松访华 , 双方签署了中美《联合公报》。

图三中国积极参加联合国及其专门机构和其它国际活动 , 开始以联合国为中心的多边外交。

③影响：图一在国际上产生了重大影响，成为解决国与国之间问题的基本准则，标志着新中国外交政策成熟。图二中美关系开始正常化，为中美建交奠定了基础。图三对世界和平与发展作出了重大贡献。

第八单元

1 . B 2 . A 3 . A 4 . D 5 . D 6 . C

7 . ①欧洲煤钢共同体、欧洲经济共同体和欧洲原子能共同体组成。

②规模不断扩大，成员国不断增加，从单一经济领域向多种经济领域扩展，合作程度不断加深。

③从经济一体化向政治一体化发展。经济实力增强，要求政治上更好地维护欧共体成员国的利益；超级大国加紧在欧洲的争夺，西欧各国要求更有效地维护自身安全。

8 . A 9 . A

10 . ①“医生”指美国，“病人”指战后的西欧各国。

②受二战的影响，西欧国家普遍衰落，美国成为世界头号资本主义强国。

③“药方”是指马歇尔计划，其实质是：通过帮助西欧复兴，稳定西欧资本主义，控制西欧，共同对抗以苏联为首的社会主义国家。

④西欧国家由于得到美国的经济援助，经济得到恢复和迅速发展。

综合检测一

一 . 1 . A 2 . A 3 . B 4 . B 5 . A 6 . B 7 . B 8 . A 9 . A 10 . C 11 . D 12 . D 13 . C 14 . A
15 . A 16 . D 17 . A 18 . A 19 . D 20 . D 21 . D 22 . D 23 . C 24 . C
25 . D

二 . 材料题

26 . (1) 对内 : 废除阻止人员、劳务、和资本自由流通的障碍 , 取消商品进出口关税。

对外 : 建立共同的关税率和共同的贸易政策

(2) 时间 : 20 世纪 70 年代开始。日本。

(3) 欧洲经济复兴计划 (或马歇尔计划) 和成立北约组织

(4) 欧洲一体化趋势加强 (或欧洲经济联合不断加强) 。西欧经济实力增强 , 开始摆脱美国的控制 , 在国际事务中发挥重要作用 , 推动世界向多极化发展。

27 . 参考答案 :

(1) 避免内战 , 共定建国大计。 (2 分) 签订《双十协定》。 (2 分)

(2) 蒋介石仇视共产党 , 而且要消灭共产党。材料二中蒋介石命何应钦剿除共产党 , 材料三中把共产党作为其惟一敌人。 (4 分)

(3) 国内外要求和平的压力 ; 特别是内战的准备尚未完成。 (4 分)

28 . 参考答案 :

(1) ①是中国第一部资产阶级宪法；②具有反封建专制制度的进步意义；③推动了中国近代社会民主化进程。(答出2点即可得4分)

(2) 新中国成立初期：确立中共领导的多党合作和政治协商制度；制定《中华人民共和国宪法》，创立人民代表大会制度。(4分)(言之有理，符合本题要求可酌情得分)

十一届三中全会以来：发展社会主义民主政治，依法治国。(或法律制度逐步健全，民主制度进一步完善)(2分)

前者是社会主义宪法，后者是资本主义的宪法。(2分)

29. (不管持那一观点，只要言之有理，均可给分。)

具体内容如下：第一种观点：冷战结束后，苏联解体，两极格局变成了一极(或称单极)。美国成为世界上唯一超级大国，尤其是20世纪90年代以来，美国的经济进入持续高速发展的时期，它依然是世界头号经济大国、军事大国和科技大国。

第二种观点：冷战结束后，欧盟正式成立随着经济实力不断增强，欧盟的国际地位也不断提高；苏联解体后，俄罗斯取代了苏联在联合国的地位，并拥有可以与美国匹敌的军事力量，随着国内经济的不断好转，俄罗斯的国际地位有了很大改善；中国作为最大的发展中国家，致力于推动建立公正合理的国际政治新秩序，反对霸权主义，维护世界和平；日本将两极格局的瓦解视为跻身政治大国的大好时机，极力争取联合国安理会常任理事国席位。世界呈现出“一超多强”的局面，多极化趋势进一步发展。

第三种观点：两极格局已经结束，但新的世界格局还未正式建立，它需要一个漫长的过程。

必修 2

第一单元 古代中国经济的基本结构与特点

【学习目标】

1. 了解中国古代早期农业的耕作方式和古代小农经济的基本特点。
2. 知道冶铸技术、丝织技术、制瓷技术是中国古代手工业在世界最有影响力的代表。
3. 通过学习商人、交子、商帮等内容来了解中国古代商业发展的基本脉络；尤其以北宋城市的发展为例说明中国古代商业的繁荣。
4. 了解中国古代土地制度的演变过程，认识重农抑商政策及明清“闭关锁国”政策对中国社会发展的影响。

【要点解读】

1. 知识整合：

(1) 从经济结构的角度看，我国古代经济由农业、手工业和商业三部分组成。由于受重农抑商政策的影响，农业和手工业长期处于世界先进水平，而商业发展却曲折艰难。

(2) 土地制度的演变实质上是生产关系的演变，而生产关系的演变又是由生产力所决定的。在中国古代原始社会，土地属于氏族公社所有；在奴隶社会为奴隶主贵族土地国有制（井田制）；到春秋战国时期，由于铁器和牛耕的推广，封建土地私有制确立。

2. 重难点透析：

(1) 小农经济是指以家庭为生产和生活单位，农业和手工业相结合，生产主要是为满足自家基本生活的需要的自给自足的自然经济。在春秋战国时期，随着铁犁牛耕的出现和推广，以一家一户为单位的小生产和个体经营为特色的小农经济形成。小农经济具有如下特征：①与落后的生产力水平相适应；②它以自给自足为生产目的；③它是中国封建社会生产的基本模式。小农经济是封建王朝财政收入的主要来源，它的兴衰关系到封建经济的繁荣和封建政权的安危。

(2) 重农抑商政策形成于战国时期，是在中国封建社会为大多数统治者所奉行的一项基本政策。其目的是为了维护封建地主经济、巩固封建专制统治。在封建社会初期，由于商业的发展与农业争夺劳动力，影响农业生产甚至危及封建政权统治，所以重农抑商对于促进经济发展、巩固新兴地主阶级专政，起到了积极作用。但到了明清时期，由于生产力发展，商品

经济空前活跃，资本主义萌芽已经出现，重农抑商政策的消极作用就成了主要方面，它严重地阻碍了资本主义萌芽的发展，从根本上阻碍了中国社会的进步。

3. 易错辨析：

（1）受习惯性思维的影响，同学们一看到“闭关锁国”就把它全盘否定，只看到其消极性，其实在一定时期“闭关锁国”政策还起到过民族自卫和巩固封建统治的作用。

（2）对于重农抑商政策在明清时期的评价，同学们可能只谈其严重地阻碍了资本主义萌芽的发展，从根本上阻碍了中国社会进步的一面，而忽视它还有适应封建经济发展的一面。重农应该是一个永恒的真理。

【学法指导】

1. 学生应该学会用辩证的观点去分析历史现象和历史事件，如正确评价重农抑商政策或分析闭关锁国政策的影响。
2. 学生要学会用生产力与生产关系的原理分析历史现象与历史规律。比如用它来分析中国古代土地制度的演变。
3. 联系古代中国工商业发展的情况和重农抑商的政策，认识古代经济政策对工商业发展的影响。

【梯度练习】


A 组

一. 选择题

1. 观察下列各图，其中反映我国古代早期农业耕作方式的是（ ）



A



B



C



D

2. 我国古代长期领先世界并且在世界上享有盛名的手工业生产技术主要有（ ）

①丝绸技术②采煤技术③冶铸技术④伐木技术⑤制瓷技术

A. ①②③

B. ②③④

C. ③④⑤

D. ①③⑤

3. 我们现在知道“商人”这一称呼来源于（ ）

A. 从事商业的人

B. 善于经商的人

C. 善于经商的商朝人

D. 专门从事商业管理的人

4. 右下图是中国古代留传下来的一张“交子”，“交子”被认为是世界最早使用的纸币，它最早出现在我国的（ ）

A. 汉朝

B. 唐朝

C. 宋朝

D. 明朝

5. 明清时期我国实力最强的商帮是（ ）

A. 徽商和晋商

B. 晋商和湘商

C. 徽商和粤商

D. 晋商和鄂商

6. 北宋王朝城市发展的表现不包括（ ）

A. 市坊不分

B. 日中为市

C. 早市、夜市相连

D. 出现了古代四大名镇



B 组

一. 选择题

7. 明太祖告谕户部大臣说：“要使农不废耕，女不废织，厚本非末。”明太祖这一作法说明中国古代（ ）

A. 农业一向比较发达

B. 手工业一向比较发达

C. 统治者一贯重农抑商

D. 明朝统治者重农抑商

8. 小农经济是中国古代封建社会农业生产的基本模式，其基本特点是（ ）

①个体小农业和家庭手工业相结合②是一种自给自足的自然经济③生产的主要目的主要是满足自家生活所需和交纳赋税④生产工具和生活用品全部自己生产

- A. ①②③④ B. ①②③ C. ②③④ D. ①③④

二. 材料解析题

9. 阅读下列材料，回答问题：

材料一在原始社会，作为重要的生产资料的土地不属于个人所有，而是属于整个氏族公共所有的财产。当时，由于生产力所限，人们只能集体进行劳动，由氏族首领分配劳动成果，土地也就由每个氏族公社和种族部落共同占有共同使用，这便是人类最早的土地制度。

——金昌农业网

材料二“方里而井，井九百亩，其中为公田。八家皆为私百亩，同养公田，公事毕，然后敢治私事。”

——《孟子·滕文公上》

材料三“至秦则不然，用商鞅之法，改帝王之制，除井田，民得买卖。富者连阡陌，贫者无立锥之地。……故贫者常衣牛马之衣，而食犬彘之食。”

——《汉书·食货志》

材料四“自田制坏而兼并之法行，贫民下户复多，而中产之家（相当于自耕农）赈贷之所不及，一遇水旱狼狈无策，只有流离饿莩耳。”

——董翊《救活荒民书》

(1) 根据材料一分析为什么在原始社会土地属于氏族公社所有？

(2) 材料二反映的是哪一种土地制度？

(3) 材料三中“富者连阡陌，贫者无立锥之地”的现象出现的主要原因有哪些？

(4) 针对材料四所反映的社会问题，结合所学知识分析历代封建政府所采取的共同措施及结果。

C 组

一. 选择题

10. 黄梅戏《天仙配》的唱词中，最能够反映我国小农经济自给自足特点的是

- A. 树上的鸟儿成双对，绿水青山带笑颜 B. 从今不再受那奴役苦，夫妻双双把家还
C. 你耕田来我织布，我挑水来你浇园 D. 寒窑虽破能避风雨，夫妻恩爱苦也甜

11. “普天之下，莫非王土”反映的是中国古代

- A. 原始社会氏族土地公有制
- B. 奴隶社会井田制
- C. 封建土地私有制
- D. 封建社会均田制

二. 材料解析题

12. 阅读下列材料，回答问题：

材料一 永乐二年，禁民下海。时福建濒海而居之民，私载海舡，交通外国，因以为寇，郡县以闻。遂下令禁民间海船。原有海船者，悉改为平头船，所在有司防其出入。

——《永乐实录》卷 27

材料二 顺治元年，清政府颁发“迁海令”，将北起山东南至广东的沿海居民内迁三四十华里，并且将所有沿海船只悉行烧毁，寸板不准下水。凡溪河装栅，货物不准越界，时刻了望，违者死无赦。

——《台湾外纪》卷

12. 材料三 夷货非衣食所需，可谓中国不缺耶。绝之则内外隔而构之衅无由生矣，夷虽欲窥伺我也，何可得哉！

——《海防纂要》卷 7

请回答：（1）根据三则材料指出明清时期采取的外交政策。

（2）分析上述外交政策给中国带来的影响。

三. 探究题

13. 商鞅在秦国实行变法时首倡“重农抑商”，而明末清初的黄宗羲却反对重农抑商，提出“工商皆本”。你是如何看待两人在对待“重农抑商”问题上的差异？

第二单元 资本主义世界市场的形成和发展

【学习目标】

- 1. 识记为新航路开辟作出重大贡献的主要航海家；了解珍妮纺纱机的出现；知道英国成为殖民霸主的时间；掌握第二次工业革命的主要成就。
- 2. 认识地理大发现对世界市场形成的伟大意义和早期殖民侵略带来的后果。
- 3. 两次工业革命的影响。

【要点解读】

1. 知识整合：

资本主义世界市场形成过程

时间	相关事件	阶段特征
15、16 世纪	新航路开辟	世界市场的雏形开始出现
17、18 世纪	早期殖民扩张	世界市场进一步得到拓展
19 世纪中期	工业革命	世界市场基本形成
19 世纪末 20 世纪初	第二次工业革命	世界市场最终建立起来
20 世纪 90 年代	第三次工业革命	经济全球化明显加速

2. 重难点透析

（1）地理大发现开始结束了世界各地相对孤立的状态，各地的文明开始会合交融，日益连成一个整体。欧洲的商人们开始直接同世界各地建立商业联系，他们把亚洲的茶叶、丝绸、瓷器、香料，非洲的黄金和象牙，美洲的黄金、白银、玉米、烟草以及欧洲的枪支、工艺品等运往各地销售，赚取丰厚利润。从此，以西欧为中心的世界市场雏形开始出现。

（2）西班牙、葡萄牙、英国、法国、荷兰等国进行的早期殖民扩张一方面为西欧资本主义的发展提供了血腥财富和巨额的原始资本，使世界市场进一步拓宽，也促进了技术革命的到来。另一方面，却给广大的亚非拉地区 and 人民带来了巨大的破坏和灾难。成千上万的印第安人由于被屠杀、奴役或染上殖民者带来的疾病而死去，黑奴贸易使非洲丧失上亿的人口，巨额的财富被掠夺。

3. 易错辨析：

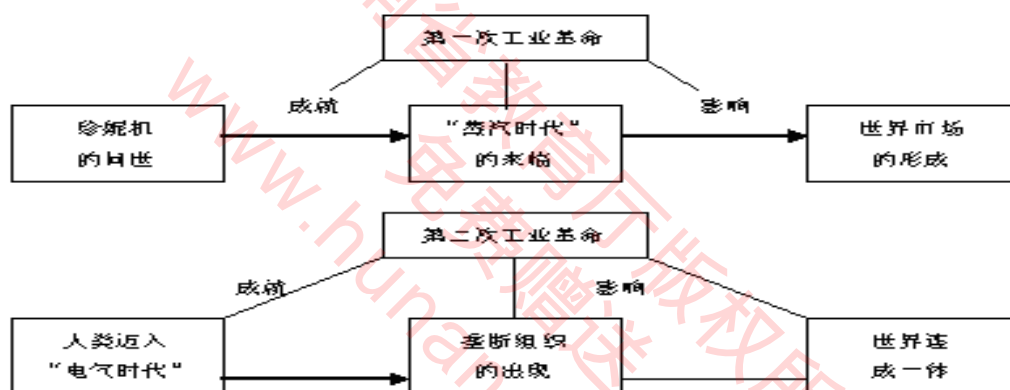
(1) 关于两次工业革命的影响同学们一般只考虑它们的进步一面，而忽视其消极性的一面（如带来环境污染、生态破坏、人口猛增等）。

(2) 工业革命的标志——瓦特改良蒸汽机与工业革命开始的标志——哈格里夫斯发明珍妮纺纱机最容易混为一谈，同学们应特别注意。

【学法指导】

1. 同学们要充分利用地理知识和历史教材上的地图从宏观上和空间上了解新航路的开辟和世界市场的形成过程。

2. 学生可利用图片资料来帮助识记工业革命的主要成果。



3. 学生可利用知识间的联系构建知识结构来了解两次工业革命的影响。

4. 同学们要学会用辩证法去分析早期殖民侵略带来的后果和两次工业革命的影响。

5. 学会辩证地看待资本主义世界市场的形成对人类社会的影响。

【梯度练习】

A组

一. 选择题



1. 美洲是以一位航海家的名字命名的，这位航海家是（ ）

- A. 迪亚士 B. 哥伦布 C. 亚美利哥 D. 麦哲伦

2. 英国成为世界殖民霸主的时间和标志是（ ）

- A. 1600 年东印度公司成立
B. 1588 年打败西班牙“无敌舰队”
C. 17 世纪中期颁布《航海条例》
D. 18 世纪中期英国打败法国

3. 观察下列图片，哪一幅图中机器或工具的发明是第一次工业革命开始的标志（ ）



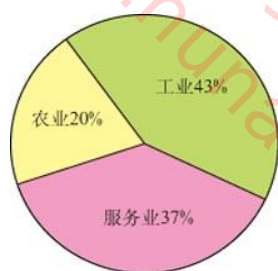
- A. 蒸汽机
B. 珍妮纺纱机
C. 火车
D. 轮船

4. 1872 年，法国科幻小说家儒勒·凡尔纳发表了著名作品《八十天环游地球》。凡尔纳在创作该小说时候，已经出现的交通工具是（ ）

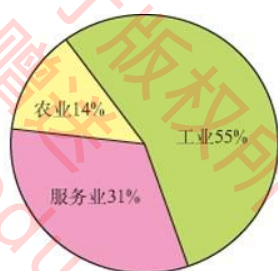
- A. 火车
B. 汽车
C. 飞机
D. 电话

B 组

一. 选择题



1841 年英国就业人口比重示意图



1877 年英国就业人口比重示意图

5. 上图中英国就业人口比重变化反映的历史趋势是（ ）

- A. 社会财富日益增加
B. 城市化的进程明显加速
C. 第三产业迅猛发展
D. 英国日益成为世界经济霸主

6. 造成上图中英国就业人口比重变化趋势的根本原因是（ ）

- A. 英国资产阶级革命成功
B. 英国成为海上霸主
C. 英国成为殖民霸主
D. 英国工业革命的进行

7. 第一次工业革命产生的重大影响不包括（ ）

- A. 极大地推动了生产力的发展
B. 环境污染问题严重
C. 西方殖民扩张加速
D. 美国成为世界经济霸主

二. 材料解析题

8. 19 世纪后期, 英国有钱人以坐轮船游览伦敦的泰晤士河为时尚。河中有许多巨大的蒸汽轮船, 正喷发出呛人的浓烟。岸边工厂排放的污水, 已经使河水变得浑浊不堪。请你仔细看图, 并结合所学知识发表自己对工业革命的感受和见解。(只要言之有理, 都可给分)



C 组

一. 选择题

9. 下列有关资本主义世界市场初步形成的表述, 不正确的是 ()

- A. 工业革命推动的结果
- B. 把亚非拉越来越多的地区纳入到这个体系之中
- C. 为工业资产阶级提供了更为广阔的市场和更丰富的原料
- D. 开始打破世界各大洲之间的相对孤立状态

10. 许多中学的校园食堂里推行 IC 卡就餐制, 该卡应用的是物理学上的电磁感应原理。这一技术运用与哪次工业革命成就有关? ()


- A. 第一次工业革命
- B. 第二次工业革命
- C. 第三次工业革命
- D. 新知识经济的兴起

11. 第二次工业革命把人类带进了一个新的时代。下列四项发明中最能体现“新的时代”特征的是

()



A



B



C



D

二. 材料解析题

12. 阅读下列材料:

材料一 第二次工业革命产生的新兴工业部门, 在厂房、设备、技术要求和产品结构复杂性等方面, 都对生产组织提出了新的要求。这是过去的独家企业无法满足的, 而且一般

没有足够的资金。……于是，集中资金的合股公司迅速增加起来，超大型企业垄断组织也就应运而生。

——《第二次工业革命和垄断组织的形成》

材料二 恩格斯说：“由单个企业所经营的生产……已经愈来愈成为一种例外了……如果我们从股份公司进而来看那支配着和垄断着整个工业部门的托拉斯，那么那里不仅私人生产停止了，而且无计划性也停止了。”

——《马恩选集》

材料三 垄断组织在形成过程中，自然免不了兼并，兼并一般都是设备先进、管理有方的企业吃掉和收买效益差的企业，兼并后又以先进那一套去改造落后的部分……企业大了不仅资金充实便利了技术改造，而且在管理上也会更讲科学。

——《第二次工业革命和垄断组织的形成》

回答：

(1)根据材料一分析垄断组织产生的原因是什么？

(2)结合上述和所学知识谈谈你对垄断和垄断组织的看法。

第三单元 近代中国经济结构的变动与资本主义的曲折发展

【学习目标】

1. 识记中国民族资本主义产生的时间
2. 洋务运动的主要内容和影响
3. 掌握中国民族资本主义在 19 世纪末、一战期间以及 20 世纪二三十年代得到发展的原因
分析阻碍近代中国民族资本主义发展的主要因素

【要点解读】

1. 知识整合

(1) 洋务运动主要内容一览表

主要措施	具体内容
创办军事工业	曾国藩创办安庆内军械所、李鸿章创办江南制造总局、左宗棠创办福州船政局、崇厚创办天津机器制造局
创办民用工业	李鸿章创办的轮船招商局和开平煤矿、张之洞创办的汉阳铁厂和湖北织布局
筹划海防	建成了北洋、南洋、福建三支海军
培养新型人才	创办京师同文馆等一批新式学堂、选派留学生出国深造

(2) 近代中国民族资本主义产生和发展的四个重要阶段

时间	阶段特征
19 世纪六七十年代	产生
19 世纪末	初步发展
一战期间	短暂的春天
20 世纪二三十年代	较快的发展

2. 重难点透析

(1) 民族资本主义以近代中国发展受阻的原因：中国民族资本主义从诞生的第一天起，就处于外来资本主义和本国封建主义的双重压迫之中，再加上后来官僚资本主义压迫，这三座大山严重阻碍了民族资本主义的发展；另外近代中国长期处于动荡之中、资金、人才、技术落后也是民族资本主义发展的巨大障碍。

(2) 洋务运动的影响：一方面洋务派引进了西方一些近代科学技术，培养了一批科技人才，客观上刺激了中国资本主义的发展。中国第一批近代企业在洋务派倡导下出现了，它们对外的经济侵略起到了一定的推动作用；另一方面中学为体，西学为用的洋务运动最后以失败而宣告结束。

易错辨析

民族资本主义产生和资本主义萌芽不要混为一谈，前者产生于近代 19 世纪六七十年代（半殖民地和半封建社会），后者是产生于明朝中后期（封建社会）；前者是用机器生产，后者是手工生产。要特别注意。

【学法指导】

1. 同学们要善于利用书本上的相关史料透过现象看本质。如第十课中民族资本主义曲折发展的具体资本、企业数、增长率等数据来了解各阶段的特征；利用书本上的相关图片来形象化、直观化识记洋务运动的重要内容。
2. 要学会用一分为二法去看待外国资本主义侵略对中国民族资本主义发展所产生的影响。
3. 要学会用数据统计法来分析历史问题。如柱状图、饼状图、曲线图等。

【梯度练习】

A 组

一. 选择题

1. 下列历史事件发生于 19 世纪六七十年代的是（ ）
A. 中国资本主义经济萌芽出现 B. 中国官僚资本主义经济出现
C. 中国民族资本主义经济诞生 D. 外国资本主义经济在中国诞生
2. 下列近代中国企业中不属于洋务企业的是
A. 天津机器制造局 B. 湖北织布局 C. 江南制造总局 D. 上海发昌机器厂
3. 抗日战争时期，沦陷区的民族工业遭到毁灭性的打击，其主要原因是（ ）

- A. 日本帝国主义的掠夺 B. 国民政府实行战时体制，强化对经济的全面统制
C. 官僚资本迅速膨胀，压制民族企业的发展 D. 美国商品像潮水般涌入中国市场

B 组

一. 选择题

4. 读下图，如果把树苗比喻成民族资本主义，则造成一战期间那种“春天”发展的主要原因是




5. 一战期间，欧美列强忙于战争，暂时放松了对中国的经济侵略帝国主义完全退出了中国列强争相向中国输出资本，进一步瓦解中国的自然经济清政府放宽了对民间办厂的限制
下列关于洋务运动内容与影响的说法不正确的是（ ）

- A. 是中国工业近代化的开端 B. 是中国军事近代化的开始
C. 是中国教育近代化的起步 D. 是中国政治民主化的开始

6. 右下图是中国男耕女织的自然经济的生动写照。在中国近代对这种封建自然经济的冲击瓦解的主要因素不包括（ ）

- A. 外国资本主义经济的入侵
B. 洋务运动的开展
C. 中国民族资本主义的产生和发展
D. 重农抑商政策的推行



7. 甲午战争后初期中国民族资本主义发展得到初步发展的主要原因是（ ）
A. 清政府的放宽对民间办厂的限制 B. 第一次世界大战的破坏
C. 四大家族官僚资本的阻碍 D. 帝国主义加大对中国的资本输出
8. 费正清教授曾经把“一战”期间中国民族资本主义的发展称为“没有前途的经济奇迹”。下列理由中不能正确解释这一观点的是（ ）

- A. 因为中国社会环境未改变 B. 因为中国封建主义的阻力依然存在
C. 因为帝国主义的破坏仍然未停止 D. 因为它违背了历史发展潮流

二. 材料题

9. 阅读下列材料，回答有关问题

材料一 在第一次世界大战期间，张謇创办的南通大生纱厂等发展很快，仅大生纱厂一、二厂，到 1921 年就获利白银一千六百多万两，其中三分之二是在第一次世界大战期间获得的。这样丰厚的利润，在旧中国民族工业发展史上是空前的。但到了 20 年代中期，张謇的企业就开始每况愈下。
——《普通高中课程标准实验教科书》

材料二 张謇于 1913 年出任主管全国农工商各业的农商总长，他自己表述出任农商总长的心态时说：“盖际此时艰，不敢不出，勉尽国民一分子义务。然外观时事，内忖精力，此义务能尽到几分，能收几分之效，以报我国人期望之万一，则毫无把握……”

——虞和平《张謇与民国初年的经济体制改革》

回答：（1）张謇的南通大生纱厂能够在一战期间创造“空前”的丰厚利润的原因有哪些？

（2）根据所学知识分析，张謇在担任农商总长时，对发展当时中国经济感到“毫无把握”的客观原因何在？

C 组

一. 选择题

10. 关于南京国民政府统治时期的民族工业发展的特点，最准确的表述是（ ）

- A. 发展相当迅速 B. 发展相当缓慢
C. 前期发展缓慢，后期发展迅速 D. 前期发展较快，后期不断萎缩

11. 与晚清政府时期相比，在南京国民政府统治时期民族工业的发展遇到了新的阻碍，这里新的阻碍是指（ ）

- A. 官僚资本的压制 B. 自然经济的根深蒂固
C. 封建势力的阻挠和压迫 D. 帝国主义的破坏和排挤

二. 探究题

12. 关于洋务运动的历史影响，有不同的看法，大致是：有人认为它是中国近代化的开端，是积极的，也有人认为它对中国近代社会的进步没有多大作用。请按照自己的理解谈谈你的看法并阐述理由。（注意：本题旨在考查独立思考能力。不论同意哪一种看法，或有别的看法，只要有理有据，均同等评分）

第四单元 中国特色社会主义建设的道路

【学习目标】

- 1.识记我国第一个五年计划实施的时间和主要成就；掌握 1992 年邓小平“南巡讲话”内容和我国经济体制改革的目标
- 2. 了解家庭联产承包责任制和我国最早开放的四个经济特区
- 3. 掌握十一届三中全会的主要内容、意义和我国对外开放格局的特点
- 4. 总结中国共产党在 20 世纪 50—70 年代探索社会主义道路的经验和教训。

【要点解读】

1. 知识整合

新中国经济发展的曲折历程

时 间	成就（或失误）	阶段特征
一五计划期间	社会主义工业化奠定了初步基础；社会主义经济体系基本建立	社会主义建设的起步
二十年曲折发展（1956—1976）	受 1958 年总路线、“大跃进”和“人民公社化”的影响，经济出现了严重挫折；同时也取得了一些成就	社会主义探索在曲折中前进
十一届三中全会（1978）	确定了党和国家的工作要以经济建设为中心	社会主义建设的转折
新时期	对内进行经济体制改革，对外开放；社会主义市场经济体制在 21 世纪初基本建立	进行中国特色的社会主义建设

2. 重难点透析

如何认识家庭联产承包责任制？

内容：实行包产到组、包产到户的农业生产责任制

地位：是我国农村经济体制改革的核心内容

实质：是社会主义生产关系的自我完善和发展。这项制度并未改变土地所有制，仍然是社会主义性质的农民集体所有，只是把生产和分配的自主权交给了农民。

意义：克服了分配中的平均主义弊端，极大地提高了农民的生产积极性，促进了农村经济的发展。

3. 易错辨析

(1) 一般的同学容易把家庭联产承包责任制理解为由公有制变成了私有制，其实这项制度并未改变土地所有制，仍然是社会主义性质的农民集体所有制，只是把生产和分配的自主权交给了农民而已。

(2) 关于大跃进和人民公社化运动，尤其是两者的历史教训，很多同学把它们混为一谈。其实前者是发展生产力，后者是调整生产关系。大跃进主要表现为大办工业、农业，片面追求经济发展的高速度，它留给我们的教训是发展经济必须按客观规律办事。而人民公社化则是追求所有制越大越公越好，严重脱离我国国情，脱离农村生产力水平，挫伤了人民群众建设社会主义的积极性，它给我们的教训是生产关系一定要适应生产力的发展。两者相同的教训是要一切从实际出发，尊重国情。

【学法指导】

1. 同学们要善于用流行歌词或者毛泽东诗词来分析相关史实。例如：用《春天的故事》歌曲来帮助掌握改革开放后的伟大成就。
2. 学会用一些具体的数据、图表来分析我国各阶段经济发展的特征。
3. 用一分为二的方法看待建国以来我国经济建设取得的成就与失误。
4. 学会查阅资料、调查、问父母、参观访问等方法来了解这段历史。
5. 用对比法理解十一届三中全会是中国历史的一个伟大的转折点。

【梯度练习】

A 组

一. 选择题

1. 下列哪项是属于一五计划期间经济建设成就的体现？（ ）



A. 上海浦东一角



B. 现代化的深圳



C. 长春一汽生产的首批解放牌汽车

D. 大连经济技术开发区一角

2. 中共十四大提出我国经济体制改革的目标是（ ）

A. 发展生产力

B. 建立社会主义市场经济体制

C. 实行对外开放

D. 建设中国特色的社会主义

3. “人有多大胆，地有多大产”的口号留给我们的历史教训不包括（ ）

A. 必须尊重经济发展客观规律

B. 生产关系一定要适应生产力的发展

C. 要一切从实际出发

D. 要从中国的国情出发

4. 1992年初，邓小平先后在南方视察了武昌、深圳、珠海和上海等地，发表了一系列重要讲话，下列内容不属于这次谈话重要内容的是（ ）

A. 社会主义的本质是发展和解放生产力

B. 发展才是硬道理

C. 要搞好社会主义市场经济体制

D. 实践是检验真理的唯一标准

B组

一. 选择题

5. 下面关于我国一五计划期间取得的伟大成就，评述不正确的是（ ）

A. 开始改变了我国工业落后的面貌

B. 为社会主义工业化奠定了初步基础

C. 社会主义经济体系在中国基本建立起来

D. 使中国由落后的农业国变成了工业国

6. “脚踏黄河水倒流，搬来泰山做枕头；决心苦战十五年，赶上英国不发愁。”这首新中国的民歌创作的背景最可能是在（ ）

- A. 一五计划期间
- B. 大跃进期间
- C. 文革期间
- D. 改革开放的新时期

7. 观察右下边《中国对外开放格局示意图》指出我国第一批开放的经济特区是（ ）

- A. 深圳、香港、海南、珠海
- B. 深圳、汕头、海南、珠海
- C. 深圳、厦门、海南、珠海
- D. 深圳、厦门、汕头、珠海



8. 经过 20 多年的改革开放，我国全方位、多层次、宽领域的对外开放格局初步形成，这一格局形成的过程是（ ）

- A. 经济特区—沿海开放区—沿海开放城市—沿边开放城镇—内地省会
- B. 经济特区—沿海开放城市—沿海开放区—沿边开放城镇—内地省会
- C. 沿海开放城市—沿海开放区—经济特区—沿边开放城镇—内地省会
- D. 沿海开放城市—经济特区—沿海开放区—沿边开放城镇—内地省会

二. 材料题

9. 阅读下列材料，回答有关问题

材料一



图一 三面红旗



图二 全民大炼钢铁



图三 公社社员吃大锅饭

材料二 1959—1961年，是中国三年困难时期，人民困苦不可言状，饿毙者成千上万，非正常死亡人数5000多万，经济出现历史少有的，也是新中国成立至今唯一的一次负增长。这次“困难”，当时的官方宣传归咎于“苏修卡我们脖子”，以及“严重的自然灾害”，可事实上，却是人祸大于天灾，正如邓小平所说的，是“三分天灾，七分人祸”。

回答：（1）图一中的“三面红旗”指的是什么？

（2）材料二中的中国“三年困难”历史现象与材料一是什么关系？

（3）“三面红旗”留给我们的历史启示有哪些？

C组

一. 选择题

10. 下列为“文革”期间部分年份工农业生产总值变化的情况，这些数据表明（ ）

年份	1972~1973年	1974~1975年
比上一年增长	9.2%	11.9%

- A. “文革”期间工农业总值时落时起
- B. “文革”对工农业生产的冲击是有限的
- C. “文革”前期经济发展缓慢，后期发展迅速
- D. 周恩来、邓小平主持中央日常工作时，经济迅速回升

11. 之所以说十一届三中全会是新中国历史上的重大转折，主要是因为（ ）

- A. 会上确定了邓小平理论为党的指导思想
- B. 提出了要建立社会主义市场经济体制的目标
- C. 作出了以经济建设为中心，实行改革开放的伟大决策
- D. 决定在深圳、珠海、汕头、厦门开放第一批经济特区

第五单元 中国近现代社会生活的变迁

【学习目标】

1. 识记我国航空事业、电影事业开始起步和中国电视业诞生的标志
2. 掌握影响近代中国社会生活变化的主要因素
3. 分析交通和通讯工具进步对社会生活的影响
4. 了解互联网的兴起和影响

【要点解读】

1. 知识整合（略）

2. 重难点透析

（1）近代以来，中国社会的物质生活与精神生活都发生巨大变化的主要因素：

①西方国家的侵略，使西方国家的社会生产和生活方式也传入中国；②近代中国一些先进的中国人也积极主动地吸收外国的一些生产和生活方式；③中国民族资本主义产生和发展；④近代民主政治运动的推动；⑤自然科学的发展和进步。⑥人们思想观念的改变。

（2）交通和通讯工具的进步对社会生活各个领域产生的影响：它不仅推动各地经济文化交流和发展的，而且也促进了信息的传播、开阔人们的视野，加快生活的节奏；当然也带来交通拥挤和环境污染等不良影响。总之，它们的影响是全方位、全方面的。

3. 易错辨析：

电影比电视出现要早，中国电影事业和电视事业开始起步的标志性事件分别是 1905 年中国人自己摄制的电影《定军山》首映成功和 1958 年北京电视台开始试播，同学们要特别注意。

【学法指导】

1. 衣食住行等内容与同学们的生活息息相关，所以每个同学都必须积极参与、亲身体验，结合自己的生活实际理解书本内容。如讨论互联网技术兴起的利弊

2. 从同学们最熟悉的坐小车和骑单车对比出发，让他们自己思考交通和通讯工具的变化对社会生活影响的双重性。
3. 访问长辈，查阅资料采用今昔对比的方法，了解中国近现代社会生活的变迁轨迹，并找出导致变迁的因素。

【梯度练习】

A 组

选择题

1. 国家邮政局于 2003 年发行《飞机发明一百周年》纪念邮票一套两枚。其中 2 元面值的一枚为“中国篇”（如右图），以中国第一位飞机设计师冯如设计、驾驶的二号飞机为邮票图案。冯如制成中国第一架飞机在中国航空史上的意义是（ ）



- A. 标志着中国航空事业水平已经超过世界先进水平
 - B. 标志着中国民航事业拉开了序幕
 - C. 标志着中国航空事业的开始
 - D. 标志着中国已成为世界民航大国
2. 中国电影事业开始起步的标志是（ ）
 - A. 《定军山》首映成功
 - B. 诞生了中国第一部有声电影《歌女红牡丹》
 - C. 《渔光曲》在莫斯科国际电影节上获得了荣誉奖
 - D. 电影《风云儿女》在国内享誉盛名
 3. 中国电视业诞生的标志是（ ）
 - A. 1949 年北京电视台开始试播
 - B. 1958 年北京电视台开始试播
 - C. 1958 年上海电视台开始试播
 - D. 1978 年中央电视台开始试播
 4. 互联网同报纸、广播、电视一起被人们称之为四大媒介，第四媒介兴起的背景是（ ）
 - A. 三大传统媒介的衰落
 - B. 第一次工业革命兴起
 - C. 第二次工业革命兴起
 - D. 第三次工业革命兴起

B 组

一. 选择题

5. 观察下图，北京建筑由传统的四合院到近代的小洋楼变化不能反映 （ ）



北京的传统四合院

北京小洋楼

- A. 西方国家的侵略的同时，其建筑技术也传入中国
- B. 中国人们思想观念的改变
- C. 外国的生活方式在中国逐渐传播
- D. 中国人的生产和生活方式已经全盘西化
6. 下列有关我国近代交通和通讯工具进步影响的说法，不正确的是 （ ）
- A. 客观上推动了中国的近代化
- B. 促进了人口的流动和信息的交流
- C. 便利了列强进一步侵略中国
- D. 减缓了中国半殖民地化的进程
7. 右下图是中国人自己拍摄的第一部影片的剧照。该影片是（ ）



- A. 《歌女红牡丹》 B. 《渔光曲》 C. 《定军山》 D. 《难夫难妻》

二. 材料题

8. 阅读下列材料，回答问题：

材料一：

	清末之前	清末民初
日常生活		照相、电影的传入和流行
发 式	清入关后男子留有长辫	剪辫

人际称谓	老爷、大人	先生、君
服 饰	长袍、马褂、旗装	西服、中山装、高领服装

材料二：“查前清官厅视官等高下，有大人、老爷等名称，爱之者增惭，施之者失体，殊为共和政体之玷。”

—— 孙中山

请回答：

- (1) 根据表格提供的信息，请你判断反映的是什么现象？
- (2) 结合课本所学基础知识，请你分析一下发生这种变化的主要原因有些？
- (3) 孙中山以临时大总统的名义颁布剪辫令，这是为什么？
- (4) 孙中山对材料二现象的认识是什么？
- (5) 根据材料一，请你谈谈中华民国临时政府是怎样对待这种现象的？说明了什么？

C 组

一. 选择题

9. 在近代，随着国门被打开，许多外国人来到中国，目睹了中国社会生活的变迁。他们可能看到中国人（ ）

- ①乘火车探亲访友 ②坐轮船出国留学 ③陪朋友看电影 ④陪家人看电视

- A. ①②③ B. ②③④ C. ①③④ D. ①②④

10. 辛亥革命后就颁布了废止缠足的法令，但是人们至今还可以看见出生于辛亥革命后的“小脚老太”这说明（ ）

- A. 缠足受到广大妇女的欢迎 B. 辛亥革命的成果值得怀疑
C. 废止缠足的法令成为一纸空文 D. 传统旧习俗很难在短时间内完全改变

二. 探究题

11. 中国素有“自行车大国”之称，自行车作为人的主要代步工具在我国 80 年代广泛流行。但 20 世纪 90 年代以后，随着生活水平的提高，许多人购买了家用汽车，而汽车的增多又带来了一系列的问题。为此有人认为汽车工业快速发展的弊大于利，也有人认为利大于弊。请结合实际谈谈你的看法。

第六单元 世界资本主义经济政策的调整

【学习目标】

- 1. 识记凯恩斯主义的基本主张
- 2. 了解 1929—1933 年世界经济危机从美国爆发的原因
- 3. 掌握美国的“新经济”概念
- 4. 分析 1929—1933 年经济危机的特点和影响
- 5. 掌握罗斯福新政的主要内容及重要影响

【要点解读】

1. 知识整合

资本主义世界经济政策的调整

时 间	主 要 政 策
19 世纪	“自由放任”政策
20 世纪三四十年代	国家干预经济
二战后	国家垄断资本主义进一步发展

2. 重难点透析

（1）1929 年世界经济危机从美国爆发的原因是因为它是资本主义头号经济大国，它的各种矛盾比其他国家要尖锐得多。具体有：

- ①根本原因：资本主义制度的基本矛盾（即生产的社会化与生产资料的资本主义私人占有之间的矛盾）依然存在
- ②具体原因：20 世纪 20 年代美国出现的经济繁荣发展中贫富差距拉大，限制了社会实际消费能力的增长；美国的分期付款和银行信贷刺激了经济的虚假繁荣；盲目的股票投机活动造成金融市场不稳定
- ③直接原因：生产和销售之间的矛盾激化，即生产能力远超过消费能力

（2）“新经济”概念

①含义：是在经济全球化形势下的一种以知识为基础、以信息技术为主导的经济增长模式。在这种经济中，对创造财富和工作岗位起关键作用的是思想、创新的技术被应用于经济的各个部门的程度，知识与他们创造价值的大小直接联系在一起。

②影响：这种经济推动了美国自 20 世纪 90 年代初以来长达 10 年的持续增长。美国一家杂志称这一现象为“新经济的胜利”，“新经济”这一概念由此问世。

(3) 罗斯福新政的重要影响：

①新政使美国度过了经济大危机；②在一定程度上缓和了美国的社会矛盾，使美国避免了走上法西斯道路；③开创了国家干预经济发展的新模式，对以后资本主义世界的经济发展具有深远的影响，资本主义进入到国家垄断资本主义新时期。

3. 易错辨析

(1) 由于新经济是一种以知识为基础、以信息技术为主导的经济增长模式，第三次科技革命时代又叫信息时代，所以有些同学容易把新经济等同于第三次科技革命，其实，第三次科技革命产生于 20 世纪四五十年代，而新经济却出现于 20 世纪 90 年代初。

(2) 由于罗斯福新政采取国家干预经济和计划手段，可能会有一些同学误以为这是搞社会主义，其实 1992 年邓小平在“南巡谈话”中早就提到“计划多一点还是市场多一点，不是社会主义和资本主义的本质区别……计划和市场都是经济手段”。罗斯福新政只是在不触动资本主义制度前提下对资本主义生产关系进行自我完善和调整而已。

(3) 罗斯福新政只能在一定程度上缓和经济危机，它不能完全消除经济危机。这一点同学们必须特别注意。

【学法指导】

1. 要联系当今世界金融危机的现实情况来加深对 1929—1933 年世界经济危机的理解。
2. 联系与 2008 年 11 月 5 日《国务院常务会议部署扩大内需促进经济增长的十项措施》进行对比来加深对罗斯福新政措施及影响的理解。
3. 运用辩证的观点来认识当今资本主义制度，即要看到它存在的种种弊端，又要肯定它对生产力发展所起到的推动作用。

【梯度练习】

A 组

一. 选择题

1. 1929—1933 年世界经济危机爆发的根本原因是 ()
 - A. 生产的社会化与生产资料资本主义私人占有之间的矛盾的激化
 - B. 贫富分化的日益扩大, 限制了社会实际消费能力的增长
 - C. 美国的分期付款和银行信贷刺激了经济的虚假繁荣
 - D. 盲目的股票投机活动造成金融市场不稳定
2. 凯恩斯的基本主张不包括 ()
 - A. 实行国家对经济的宏观调控
 - B. 主张国家对经济自由放任
 - C. 主张国家干预经济
 - D. 主张国家增加公共开支, 提高有效需求, 实现充分就业
3. 下列关于 1929—1933 年经济危机的特点的描述不正确的是 ()
 - A. 时间长
 - B. 波及的范围广
 - C. 破坏性大
 - D. 出现的时间早
4. 罗斯福新政在整顿财政金融体系方面采取的措施有 ()
 - A. 恢复金本位制
 - B. 实行美元增值
 - C. 管制证券业
 - D. 通过《全国工业复兴法》

B 组

一. 选择题

5. 下列美国总统推行的经济政策与凯恩斯的基本主张最相似的是 ()




George Washington

A



Abraham Lincoln

B



F.D. Roosevelt

C




Reagan

D

6. 1929—1933 年的世界经济危机对资本主义世界的影响不包括 ()
 - A. 从根本上否定资本主义制度
 - B. 结束了资本主义世界的相对稳定局面

- C. 激化了各国之间的矛盾，造成了战争的危险
- D. 各国开始加强了国家对经济的干预
7. 下列关于罗斯福新政影响的表述，不正确的是（ ）
- A. 开创了国家干预经济的新模式 B. 使美国避免了法西斯化
- C. 促进了社会经济的恢复 D. 从根本上消除了经济危机
8. 右下图是罗斯福新政期间完成的田纳西水利工程。这一工程的兴修是罗斯福总统的哪一改革措施的体现（ ）



田纳西水利工程

- A. 加强对工业的计划指导工作
- B. 调整农产品的结构
- C. 恢复银行信用，整顿金融体系
- D. 兴办公共工程，推行以工代赈

二. 材料题

9. 阅读下列材料，回答问题：

材料一：1930 年的美国街头挂牌求职者



材料二：1933 年罗斯福签署了《全国劳工关系法》，提高了工人的政治地位。
1935 年，罗斯福签署了《社会保障法》，为失业者和老年人提供了救济金和养老金。

请回答：

- （1）指出材料一图片中大量街头挂牌求职现象出现的历史原因。
- （2）针对材料一图片中反映的现象罗斯福采取的主要措施有哪些？
- （3）分析材料二中罗斯福采取的立法手段对解决社会问题的积极作用。

C 组

一. 选择题

10. 温家宝 2008 年 11 月 5 日在国务院常务会议上提出“加强生态环境建设, 加快城镇污水、垃圾处理设施建设和重点流域水污染防治, 加强重点防护林和天然林资源保护工程建设, 支持重点节能减排工程建设”的主张与美国罗斯福新政措施中最相似的是 ()

- | | |
|-----------------|---------------|
| A. 整顿财政金融体系 | B. 通过工业复兴法 |
| C. 举办公共工程, 以工代赈 | D. 奖励农民调整生产结构 |

11. 20 世纪 90 年代, 美国经济的主导产业是 ()

- | | |
|-------------|-----------|
| A. 金融业 | B. 航空航天工业 |
| C. 钢铁和机械制造业 | D. 信息技术产业 |

湖南省教育厅版权所有
www.hunandedu.net
免费赠送

第七单元 苏联的社会主义建设

【学习目标】

- 1. 识记赫鲁晓夫经济改革的时间、重点和结果
- 2. 掌握苏俄新经济政策的背景、内容和影响
- 3. 分析戈尔巴乔夫改革失败的原因
- 4. 正确评价“斯大林模式”的历史功过

【要点解读】

1. 知识整合

苏联（俄）社会主义建设的探索历程

探索过程	背景	主要内容	结果或影响
战时共产主义政策	不掌握	不掌握	引发了严重的经济和政治危机
新经济政策	①战时共产主义政策引发了严重的经济和政治危机 ②1921 年苏俄一个海军基地发生兵变	①以粮食税代替余粮收集制 ②允许本国或外国资本家私营经营 ③允许自由贸易 ④废除实物配给制	①提高了人民的生产积极性 ②促进了经济的迅速恢复 ③有利于稳定政治形势
斯大林模式	不掌握	①实行高度集中的计划经济体制，实行单一的公有制 ②优先发展重工业，农业和轻工业为其提供资金	见艰难透析
赫鲁晓夫改革（1956-1964）	不掌握	重点放在农业方面	失败

勃列日涅夫改革	不掌握	不掌握	不掌握
戈尔巴乔夫改革	不掌握	不掌握	导致苏联解体

2. 重难点透析

关于“斯大林模式”

“斯大林模式”是指斯大林执政时期开创的一种社会主义建设模式。在这种模式下，苏联实行高度集中的计划经济体制，实行单一的公有制；优先发展重工业，农业和轻工业为其提供资金。

一方面这种模式有其进步性：它有利于国家按照统一计划调配人力物力和财力资源，在较短的时间里实现经济的快速发展。如苏联通过实施两个五年计划迅速实现了工业化，到 1937 年，苏联的工业产值已居欧洲第一位、世界第二位。这也为后来的反法西斯战争的胜利奠定了物质基础。

另一方面这种模式也存在严重的弊端：片面发展重工业，导致农业和轻工业长期处于落后状态，人民生活水平提高缓慢；国家从农民那里拿走的东西太多，农民的生产积极性不高；长期执行指令性计划，压制了地方和企业的积极性，阻碍了苏联经济的持续发展。特别是这种高度集中的计划经济体制后来因没有进行有效的改革而日益僵化，影响了社会主义制度优越性的发挥，成为以后苏联解体和东欧剧变的重要原因。

3. 易错辨析

一提起“斯大林模式”，同学们就容易想到其严重的弊端一面，而忽视这一体制与特定历史条件相适应的一面。

【学法指导】

- (1) 同学们自己观看相关的影视作品或文学作品，加深对苏联社会主义建设基本情况的了解。
- (2) 同学们分正反两方进行对“斯大林模式”的利弊讨论
- (3) 把新经济政策和“斯大林模式”进行对比分析

【梯度练习】

A 组

选择题

1. 下列关于苏俄新经济政策实施的背景正确的是（ ）

- A. 新生苏维埃政权得到了巩固
- B. 国民经济得到了恢复和发展
- C. “战时共产主义”政策得到人民的大力支持
- D. “战时共产主义”政策引起了严重的经济和政治危机

2. 赫鲁晓夫经济改革的重点是在哪一方面（ ）

- A. 农业
- B. 工业
- C. 商业
- D. 政治体制

B 组

一. 选择题

3. 针对战时共产主义政策的弊端，有人对列宁说：“我们过去认为可以一举消灭商品经济，走向社会主义。但实际情况表明，必须发展商品经济。”为此苏维埃政权实行（ ）

- A. 战时共产主义政策
- B. 苏联新经济政策
- C. 农业集体化政策
- D. 新型工业化政策

4. 右图是苏共中央重要领导人赫鲁晓夫的生前照片，下列有关赫鲁晓夫的相关描述，正确的是（ ）

- A. 他是苏联共产党第一任中央总书记
- B. 他领导了苏联 20 世纪 80 年代的经济改革
- C. 赫鲁晓夫改革以失败而宣告结束
- D. 赫鲁晓夫改革仅仅局限于农业领域



5. 从 1921—1925 年苏联新经济政策的实行产生的影响不包括（ ）

- A. 苏联实现了工业化
- B. 大大提高了人民的生产积极性
- C. 促进了苏联国民经济的恢复
- D. 有利于苏联社会政治形势的稳定

二. 材料题

6. 阅读下列材料，回答问题：

材料一：战时共产主义政策与新经济政策内容比较

主要内容	战时共产主义政策	新经济政策
农业	实行余粮收集制	实行固定的粮食税
工业	全面推行工业国有化	中小企业允许本国或外国资本家经营

商业贸易	取消自由贸易	允许自由贸易
分配形式	平均主义实物配给制	实行按劳分配

材料二：斯大林认为社会主义只能实行计划经济；社会主义只能允许两种公有制形式的存在的发展；社会主义所有制越公就越优越；以重工业为中心的工业化道路就是社会主义区别于资本主义的工业化道路，加强党的领导就是一切权力越来越集中于党，社会主义越发展阶级斗争越尖锐。
——《苏联的共产主义》

请回答：

- (1) 根据材料一表格提供的信息，请你指出新经济政策“新”在哪里？
- (2) 根据材料一和所学知识，请你分析苏联推行新经济政策的背景。
- (3) 根据材料二和所学知识，概括斯大林模式在经济上的特点。

C 组

一. 选择题

- 1937 年苏联的工业总产值跃居欧洲第一位，世界第二位，这主要是由于（ ）
 - 战时共产主义政策的推行
 - 新经济政策的实施
 - 斯大林模式的积极作用
 - 赫鲁晓夫进行改革
- 二战后，针对苏联斯大林模式的弊端而率先进行改革的是（ ）
 - 斯大林
 - 赫鲁晓夫
 - 勃列日涅夫
 - 戈尔巴乔夫

二. 探究题

- 一谈起苏联兴亡的历史，人们往往会联想到“斯大林模式”。而对于这一体制，有的人对其进行全盘否定，也有人对其进行全面肯定，请你根据所学知识谈谈你的看法。（注意：本题旨在考查独立思考能力。不论同意哪一种看法，或有别的看法，只要有理有据均同等评分）

第八单元 世界经济的全球化趋势

【学习目标】

1. 识记当今世界的三大主要经济区域集团
2. 掌握二战后出现的资本主义世界三大经济支柱的名称（含名称变化）、徽标图案及其影响
3. 了解中国加入世界贸易组织的时间和影响
4. 理解亚太经合组织的宗旨和目标
5. 分析经济全球化的实质和影响

【要点解读】

1. **知识整合** 二战以后随着信息技术的迅猛发展，一方面世界经济的全球化趋势越来越明显，另一方面经济区域集团化也越来越加快。先后形成了几个主要的区域经济集团。经济区域集团化既是经济全球化的现实表现，也在一定程度上阻碍了经济全球化的进程。

2. 重难点透析

（1）经济全球化的实质和影响

①实质：是资本在全球范围内新一轮的扩张。

②影响：经济全球化是一把双刃剑，它既加速了世界经济的发展和繁荣，也加剧了全球竞争中的利益失衡。

发达国家凭借资金、技术、市场和经营管理方面的绝对优势，成为经济全球化最大的受益者。

对于发展中国家来说，经济全球化既是机遇，也是挑战。由于发展中国家的经济基础差、技术水平低等原因，在经济全球化中处于劣势和被动地位。因此发展中国家在全球化过程中必须保持清醒的头脑，制定合理对策，在积极主动的参与中谋求发展。

（2）中国加入世界贸易组织的影响

①积极影响：促进了中国经济的发展，进一步完善了社会主义市场经济体制。同时，中国加入也将促进世界经济的增长，有利于建立完整的世界贸易体系。

②消极影响：中国加入世界贸易组织也给本国带来压力和严峻的挑战。市场的进一步开放、关税的大幅度减让，使国内一些产品、企业和产业面临更强的竞争，有些产业会受到冲击。

3. 易错辨析

- (1) 世界三大经济支柱的图标很容易混淆，同学们一定得仔细看清。
- (2) 特别注意关贸总协定与世界贸易组织的区别

【学法指导】

1. 同学们要学会用辩证的观点去看问题，例如：对待经济全球化的影响和中国加入世界贸易组织的影响的分析。
2. 本单元内容时代感强，同学们一定要学会用我们身边的现象来理解书本知识。例如：用世界反经济全球化的事例来理解经济全球化的利弊，用加入世界贸易组织前后湖南企业的发展变化来认识中国加入世界贸易组织的影响。

【梯度练习】

A 组

一. 选择题

1. 当今世界经济全球化过程中出现的三大主要经济区域不包括（ ）
A. 国际货币基金组织 B. 欧洲联盟
C. 亚太经合组织 D. 北美自由贸易区
2. 下列不属于二战后资本主义世界三大经济支柱的是（ ）
A. 国际复兴开发银行 B. 关贸总协定
C. 国际货币基金组织 D. 欧佩克石油输出国组织
3. 中国正式加入世界贸易组织是在（ ）
A. 1945 年 B. 1986 年 C. 1995 年 D. 2001 年

B 组

选择题

4. 下列哪个是二战世界货币基金组织的标？




A



B



C



D

5. 下列关于亚太经合组织的宗旨和目标的表述不正确的是（ ）

- A. 相互依存，共同受益 B. 坚持开放的多边贸易体制
C. 减少区域内贸易壁垒 D. 实现经济一体化

6. 世界贸易组织（WTO 的前身）的前身是（ ）

- A. 国际复兴银行 B. 世界银行
C. 世界货币基金组织 D. 关贸总协定

二. 材料题

7. 阅读下列材料，回答问题：

材料一：在经历了漫长的 15 年马拉松式的谈判之后，中国加入 WTO 议定书签字仪式终于在北京时间 12 月 12 日凌晨在多哈举行。下图为石广生部长签字后同各国代表一起举杯庆祝中国成为 WTO 大家庭中的一员的场面。



材料二 中国刚刚加入 WTO 时，一句时尚用语曾流行全国：“狼来了”（人们把加入世贸组织后跨国公司更大规模地进入中国市场说成是“狼来了”）。从政府官员到企业经营者，甚至连工厂里的打工仔，无不高频率地重复着这句话。

——《静悄悄的变化——中国入世两年产品质量回望》

请回答：

- (1) 中国加入世贸组织的多哈签字仪式发生在哪一年？
- (2) 根据材料一和所学知识，请你分析“多哈签字”值得中国和各国代表共同庆贺的理由。
- (3) 在中国刚刚加入 WTO 时出现“狼来了”的惊呼，有没有一定道理，请说明理由。

C 组

一. 选择题

8. 二战后初期国际货币基金组织、国际复兴银行和“关贸总协定”三大经济支柱的出现产生的影响不包括（ ）

- A. 调整了世界的经济贸易的金融
- B. 有利于世界经济向着体系化和制度化方向发展
- C. 标志着资本主义世界经济体系形成
- D. 标志着经济全球一体化完全实现

9. 下图是 2001 年第九届 APEC 领导人身着唐装在上海合影。在这次会议上各国领导人再次重申《汉城宣言》确定的宗旨和目标——相互依存，共同受益，坚持开放的多边贸易体制和减少区域内贸易壁垒。这里的 APEC 的含义是（ ）




- A. 欧洲联盟
- B. 亚太经济合作组织
- C. 北美自由贸易区
- D. 世界贸易组织

10. 中国 2001 年正式加入世贸组织。2003 年，世贸组织的总干事接受采访时说：“中国正从世界第五贸易大国转变为第四位。很快会上升到第三位。我刚刚得知中国的进口总额已居世界第三位，仅在美国、德国之后。”对这句话理解不正确的是（ ）

- A. 中国加入世贸，促进了中国经济的发展
- B. 中国经济迅速发展，已成为世界发达国家
- C. 中国加入世贸，顺应了世界经济发展潮流
- D. 经济全球化是发展中国家加速发展的机遇

二. 探究题

11. 观察下面图片，人们在欢迎经济全球化到来，认为全球化是能够带来幸福的“馅饼”的同时，也有人认为经济全球化是一个“陷阱”。请结合所学知识，谈谈你的看法。（注意：本题旨在考查独立思考能力。不论同意哪一种看法，或有别的看法，只要有理有据，均同等给分）



综合检测

一. 选择题（本大题有 25 小题，每题 2 分，共 50 分。每题所列的四个选项中，只有一项是符合题目要求的。）

1. 下列关于小农经济的基本特点的表述不正确的是（ ）

- A. 个体小农业和家庭手工业相结合 B. 是一种自给自足的自然经济
C. 生产的主要目的是满足自家生活所需和交纳赋税 D. 生产工具和生活用品全部自己生产



2. 中国历代封建王朝推行的经济政策是（ ）

- A. 限制农业，重视商业、手工业 B. 农业、手工业、商业并重
C. 鼓励农业、限制手工业、取消商业 D. 重农抑商

3. 我国古代最早的纸币是（ ）

- A. 飞钱 B. 交子 C. 柜坊 D. 汇票

4. 为结束世界各地相互孤立的状态，使各地的文明开始会合交融作出重大贡献的人物是



A. 汉武帝

B. 哥伦布

C. 张骞

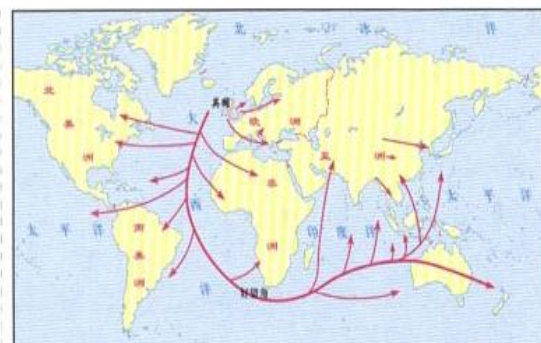
D. 爱迪生

5. 18 世纪中期成为世界殖民霸主的是 ()

- A. 英国 B. 法兰西 C. 德意志 D. 荷兰

6. 观察右图——《英国 19 世纪后期海外贸易示意图》，图中不能反映的历史现象是 ()

- A. 英国在世界市场中居统治地位
B. 英国已成为世界工厂
C. 世界各地几乎都可以见到英国的商品
D. 19 世纪晚期英国的工业产值居世界第一



7. 下列属于第二次工业革命的影响的是 ()

- A. 诞生了棉纺织业、煤炭工业和轮船制造业 B. 以欧美资本主义为主导的世界市场基本形成
C. 英国成为世界上第一个工业国家 D. 导致垄断与垄断组织的出现

8. 洋务运动的影响不可能有 ()

- A. 完全瓦解了中国的封建自然经济 B. 对外国的经济侵略起到了一定的抵制作用
C. 引进了一些近代科学技术 D. 客观上刺激了中国资本主义的发展

9. 中国民族资本主义发展出现了“短暂的春天”局面是在 ()

- A. 晚清时期 B. 中华民国初期 C. 南京国民政府前期 D. 南京国民政府后期

10. 仅 1937 年 8 月~1938 年 3 月，上海被日军摧毁的工厂就超过两千家，损失超过八亿元。在华北，日本采取“军管理”办法，将中国民族企业整个吞并。从这段材料可以看出在抗日战争时期阻碍中国民族资本主义发展的最主要因素应该是 ()

- A. 本国的封建主义 B. 本国的官僚资本主义 C. 国民党反动政府 D. 外国侵略者

11. 右图中的建设成就是在何时取得的？ ()

- A. 一五计划期间 B. 二五计划期间
C. 文革期间 D. 社会主义现代化建设新时期



我国制造的第一批喷气式飞机

12. 1958 年 7 月份，中国各媒体先后刊登湖北省长风农业生产合作社，早稻亩产 15361 斤，放了一个大“卫星”。随即农业部公布夏粮产量同比增长 69%，总产量比美国还多出 40 亿斤。关于这些报道，你如何看待 ()

A. 10 多年 B. 20 多年 C. 30 多年 D. 40 多年

A. 中国加入了 WTO B. 地理位置优越 C. 历史文化悠久 D. 实行对外开放的政策

A. 缔造了新中国
B. 第一次将马克思主义与中国革命实践相结合
C. 倡导改革开放，带领中国人民走向富裕
D. 提出了“三个代表”的重要思想

A. 电话 B. 电视 C. 互联网 D. 报纸、广播

A. 1920 年中国首条空中航线——北京至天津航线开通，标志着中国航空事业的开始

B. 1931 年中国第一部有声电影《歌女红牡丹》诞生，标志着中国电影事业的开始起步

C. 1958 年北京电视台开始试播，标志着中国电视业的诞生

D. 1994 年互联网在中国兴起后，对人们的生活有百利而无一害



88 / 142

19. 列宁说, 新经济政策是一种用“改良主义的方法”来解决苏维埃俄国过渡时期经济发展战略任务的长期政策。这里的“改良主义”是指 ()

- A. 改革斯大林模式
B. 优先发展重工业
C. 大中小型企业全部实行国有化
D. 利用市场关系和资本主义

20. 苏联成立后形成的高度集中的政治经济体制被称为 ()

- A. 战时共产主义政策 B. 斯大林模式 C. 新经济政策 D. 赫鲁晓夫改革

21. 戈尔巴乔夫改革与 1978 年后的中国改革相比 ()

- A. 都首先从经济领域开始
B. 都在经济领域取得巨大成果
C. 都保持了马克思主义方向
D. 都适应了各自的国情



22. 被誉为“经济联合国”的国际组织标志是 ()

- A. WTO B. OPEC C. APEC D. NATO

23. 2007 年 8 月 15 日, 美国股市收盘时仍然保持了连日以来的下跌势头, 次日, 欧洲、亚太地区的股市都反映强烈, 股指纷纷下挫, 中国上证(上海证券)指数也比前日下跌了 104.43 点。这一现象最主要说明 ()

- A. 美国是当今世界真正的经济霸主
B. 世界经济呈现出全球化的趋势
C. 世界经济区域集团化日益加强
D. 世界各国的普通群众都热衷于股票投资

24. 当今当世界经济影响最大的三个区域经济集团是 ()

①欧洲联盟②北美自由贸易③亚太经济合作组织④世界贸易组织⑤国际货币基金组织

- A. ①②④ B. ③④⑤ C. ①②③ D. ②③⑤

25. 中国自 1986 年申请重返关贸总协定以来, 经过长达十多年的努力, 最终在 2001 年如愿以偿地加入了世界贸易组织, 中国政府积极努力加入 WTO 的主要原因是 ()


- A. 此举符合经济全球一体化的趋势
B. 此举符合经济区域集团化的要求
C. 此举有利于防止物价上涨、通货膨胀
D. 此举对中国的经济发展有百利而无一害

二. 材料题 (共三个小题, 其中 26 题 14 分, 27、28 题各 12 分)

26. 阅读下列四幅图, 回答相关问题:




图一 珍妮纺纱机



图二 瓦特及其发明的蒸汽机



图三 电灯泡



图四 早期汽车

回答：

(1)图一、图二中工具和设备的使用对人类社会的生产活动产生了什么影响？（4分）

(2)图三、图四代表了第几次工业革命的成就？请分析这两项科技成就的运用对人类的生产和生活的影响。（4分）

(3)简要概述图中成就反映的科技革命对世界市场的形成分别起到怎样的作用？（6分）

27. 阅读下列材料，回答问题

茅盾先生在他的著名的长篇小说《子夜》中，曾有这样一段描写：“吴老太爷从乡下乘轮船来上海，怀中紧抱着《太上感应篇》，坐进30年代的汽车里，像一具刚从棺材里爬出来的僵尸……南京路上，到处都是光怪陆离的灯光和高耸的摩天大楼。最让吴老太爷大受刺激的，是一位身穿开叉旗袍、连肌肤都能看得分明的时髦少妇。那少妇高坐在一辆黄包车上，翘起了赤裸裸的一双白腿，简直好像没有穿裤子。这情形，不禁让吴老太爷全身发抖。终于，吴老太爷大叫一声，昏死过去……”

请回答：

(1)在材料中，有哪些东西是吴老太爷在以前的乡下生活中所没有见过的？（4分）

(2)结合所学知识分析近代中国社会出现吴老太爷“大受刺激”的社会现象的原因有哪些？（6分）

(3)材料中吴老太爷的强烈反应说明了什么问题？（2分）

28. 阅读下列材料，回答问题：

材料一 一九七九年，那是一个春天，有一位老人在中国的南海边画了一个圈，神话般地崛起座座城，奇迹般地聚起座座金。……一九九二年，又是一个春天，有一位老人在中国的南海边写了诗篇，天地间荡起滚滚春潮，征途上扬起浩浩风帆。 ——歌曲《春天的故事》

材料二 1992 年老人南巡时指出：“计划多一点，还是市场多一点，不是社会主义与资本主义的本质区别。计划经济不等于社会主义，资本主义也有计划；市场经济不等于资本主义，社会主义也有市场。计划和市场都是经济手段。”

请回答：

(1) 材料一中的“老人”指的是谁？“春天”的内涵是什么？（2 分）

(2) 材料一中崛起的“座座城”指的是指我国对外开放过程中最早设立的四个经济特区，它们是哪几个城市？（4 分）

(3) 材料二中 1992 年这位老人发表谈话的核心内容是什么？（2 分）

(4) 20 世纪二三十年代，苏联和美国有两位伟大人物对经济体制问题进行了有效、成功的探索，请写出他们的名字及其相应改革的名称。（4 分）

三. 探究题

29. 1992 年，正值哥伦布发现美洲大陆 500 周年纪念，联合国教科文组织打算将这天定为全球纪念日，却遭到许多墨西哥人的反对，甚至美洲的许多国家都把将哥伦布发现美洲的这一天定为“种族日”，意思是说从这一天开始，美洲人血统和种族都发生了改变。请结合所学知识谈谈你的看法（12 分）

参考答案

第一单元

1. C 2. D 3. C 4. C 5. A 6. B 7. D 8. B

9. (1) 由于生产力有限 (或写成生产力水平低下)。

(2) 奴隶社会的井田制 (或写成土地国有制)

(3) 封建土地私有制的建立；地主依靠政治和经济特权，大量兼并农民土地因而造成社会的两极分化。

(4) 面对土地高度集中现象，历朝统治者一般采取措施抑制土地兼并，以维护小农经济。但不能真正阻止土地兼并。

10. C 11. B

12. (1) “海禁”和“闭关锁国”政策。

(2) 这一政策虽然在一定时期内起到过民族自卫和巩固封建统治的作用，但从长远讲，它不仅妨碍了我国海外市场的开拓，抑制了资本的原始积累，阻碍了资本主义萌芽的滋长，而且使中国开始处于与世隔绝的状态，世界上一些先进的科学知识和生产技术都被拒之门外，中国士大夫也开始养成夜郎自大的思想观念，中国的发展步伐开始落后于世界潮流，这也成为中国在近代落后挨打的根源。

13. 重农抑商政策的影响具有双重性。因此评价它必须把它放在特定的历史阶段进行，在封建社会前期，其积极作用是主要的，封建社会的后期，其消极作用是主要的。因此两人的观点在当时都是正确的。具体表述如下：

在封建社会初期,由于商业的发展与农业争夺劳动力,影响农业生产甚至危及封建政权统治,所以重农抑商对于促进经济的发展,巩固新兴地主阶级的专政,壮大秦国的实力具有重大的积极作用。因此商鞅的观点是适应新兴地主阶级的需要,是正确的

但到了明清时期,由于生产力水平提高,商品经济空前活跃,资本主义萌芽已经出现,重农抑商的政策消极作用就成了主要方面,它严重地阻碍了资本主义萌芽的发展,从根本上阻碍了中国社会的进步。因此黄宗羲的观点也符合当时历史发展的要求。

第二单元

1. C 2. D 3. B 4. A 5. B 6. D 7. D

8. 一方面:工业革命极大地提高了生产力,使机器生产的工厂取代手工工场,从而使资本主义经济制度取得了统治地位。工业革命也大大提高了人民的生活水平,人们开始懂得享受机器时代的工业文明的成果。工业革命还引起了社会关系的重大变革,工业资产阶级和工业无产阶级成为社会的两大阶级。也巩固了资产阶级的统治地位。工业革命还改变了人口的流动方向,加速了城市化的进程。工业革命以后,资产阶级希望进一步摆脱封建束缚,要求自由经营、自由竞争、和自由贸易,加快了殖民扩张和殖民掠夺的步伐。把广大的亚非拉地区纳入到资本主义世界市场体系之中。另一方面:工业革命也带来了自然环境被污染、生态环境被破坏,人口猛增,同时还给广大的亚非拉地区人民带来的深重的灾难。所以发展经济应与环境保护同步进行,要走“可持续发展”的道路。

9. D 10. B 11. A

12. (1) 第二次工业革命产生了一系列新兴工业,这些新兴产业生产规模很大,资本需求日益庞大,因而导致垄断组织产生。

(2) 一分为二。一方面垄断组织有利于第二次工业革命的发展、有利于技术改造、有利于管理的科学性提高、有利于增加生产的计划性。总之，有利于生产力的发展和劳动生产率的提高。另一方面它也在一定程度上放弃了资产阶级一贯倡导的自由竞争原则，资产阶级政府也被垄断资本家所控制，垄断资本主义积极推行对外扩张。掀起瓜分世界的狂潮，给亚非拉地区带来深重灾难。

第三单元

1. C 2. D 3. A 4. A 5. D 6. D 7. A 8. D

9. (1) 辛亥革命推翻了清朝统治，建立中华民国，为资本主义的发展扫除了一些障碍；中华民国政府奖励发展实业，激发了民族资产阶级投资近代企业的热情；群众性的反帝爱国运动此起彼伏，特别是 1915 年的抵制日货，提倡国货运动有力推动；一战爆发后，欧洲列强忙于战争，暂时放松了对中国的经济侵略，提供了有利的外部条件；实业救国思潮的影响

(2) 中国社会依然是半殖民地半封建社会；小农经济依然占主导地位；封建势力还很强大；中国还没有摆脱外国的控制；政局动荡；科技落后、资金短缺、人才匮乏等。

10. D 11. A

12. 洋务运动的影响具有双重性。既有进步性的一面，也有局限性的一面。具体表现在：

(一) 积极影响：

引进了西方一些近代科学技术，培养了一批科技人才，客观上刺激了中国民族资本主义的发展。中国第一批近代企业在洋务派倡导下出现了，它们对外国的经济侵略起到了一定的抵制作用，对本国封建经济的瓦解也起到了一定的推动作用。

(二) 消极作用：

由清朝官府举办，为维护反动统治服务，军事工业主要是为了镇压人民革命，不能为国求强。民用工业是为解决军事工业的困难，不是为社会求富，在很大程度上被洋人控制利用，经营管理腐败。清军在甲午中日战争中惨败，宣告了“中学为体，西学为用”的洋务运动失败。

第四单元

1. C 2. B 3. B 4. D 5. D 6. B 7. D 8. B

9. (1) 1958 年总路线、大跃进、人民公社化。

(2) 因果关系，就是因为三面红旗违背了经济发展的客观规律和超越了历史发展的阶段，导致国民经济出现混乱，因而出现了我国建国以来最严重的经济困难。

(3) 总路线和大跃进留给我们的教训是发展经济必须按客观规律办事。而人民公社化给我们的启示则是生产关系一定要适应生产力的发展。三者相同的教训是发展经济一定要从实际出发，尊重国情。

10. D 11. C

第五单元

1. C 2. A 3. B 4. D 5. D 6. D 7. C

8. (1) 清末民初，中国社会生活习俗发生的变化。

(2) 辛亥革命对中国社会封建习俗观念的改造；西方文明成果的传入。

(3) 清朝特有的辫子，是满族贵族占统治地位的象征，是残酷的民族压迫的标志，辛亥革命后颁布剪辫令，剪去大辫子去除旧俗，做中华民国的新国民。

(4) 孙中山认为清朝官场称人为“大人、老爷”玷污了共和政治。

(5) 革除旧的官场称呼，改称职务，民间互称“先生”“君”；体现了资产阶级追求平等的愿望。

9 . A 10 . D

11 . 汽车工业快速发展的影响具有双重性。有利有弊。具体表现在：

(一) 有利方面：

汽车作为重要交通工具方便了人们的生活，它有利于加快人们生活节奏、提高生活质量、提高工作效率；同时汽车是科学技术结晶、是文明标志、是国民经济支柱产业；另外汽车还是一种文化、是一个民族和国家的国防实力象征。

(二) 不利方面：

由汽车引起的交通事故每年吞噬数十万人的性命；汽车排出的尾气严重威胁人类健康；汽车造成的噪音也危害人类；汽车造成人们的惰性增强；汽车大量增加造成交通拥挤。

第六单元

1 . A 2 . B 3 . D 4 . C 5 . C 6 . A 7 . D 8 . D

9 . (1) 1929 年美国发生了严重的经济危机

(2) 政府加强了救济工作，建立了联邦紧急救济署，发放紧急救济金；加强社会保障措施，为老人、残疾人、失业者和儿童提供社会保障；推行以工代赈，建立专门政府机构，兴办公共工程，以增加就业，刺激消费和生产，稳定社会秩序。

(3) 以法律的手段保护了社会弱势群体，从而缓和了社会阶级矛盾、维护了社会稳定、巩固了资本主义统治，使美国避免了走上法西斯道路。

10 . C 11 . D

第七单元

1 . D 2 . A 3 . B 4 . C 5 . A

6 . (1) 以粮食税代替余粮收集制；由单一的公有制变为以公有制为主体，多种所有制并存；重视商品货币的作用，恢复商品贸易和商品交换；废除实物配给制，实行按劳分配。

(2) 国内战争结束后，苏俄继续执行“战时共产主义”政策，引发了严重的经济和政治危机。

1921 年苏俄一个海军基地发生兵变。这件事引起列宁等人的高度重视，他们决定调整政策。

(3) 实行单一的公有制和计划经济；优先发展重工业（走以重工业为中心的工业化道路）。

7 . C 8 . B

9 . “斯大林模式”有利有弊。我们要用发展的眼光去看问题，把它放在特定的历史阶段考虑。

具体表现在：

(一) 一方面这种模式有其进步性：在前期它的形成同苏联当时社会主义生产力发展水平基本相适应。它有利于国家按照统一计划调配人力物力和财力资源，在较短的时间里实现经济的快速发展。如苏联通过实施两个五年计划迅速实现了工业化，到 1937 年，苏联的工业产值已居欧洲第一位、世界第二位。这也为后来的反法西斯战争的胜利奠定了物质基础。

(二) 另一方面这种模式也存在严重的弊端：片面发展重工业，导致农业和轻工业长期处于落后状态，人民生活水平提高缓慢；国家从农民那里拿走的东西太多，农民的生产积极性不高；长期执行指令性计划，压制了地方和企业的积极性，阻碍了苏联经济的持续发展。特别是这种高度集中的计划经济体制后来因没有进行有效的改革而日益僵化，影响了社会主义制度优越性的发挥，成为以后苏联解体和东欧剧变的重要原因。

第八单元

1 . A 2 . D 3 . D 4 . A 5 . D 6 . D

7 . (1) 2001 年。

(2) 中国加入世界经济贸易组织不仅有利于促进中国经济的发展 , 进一步完善社会主义市场经济体制。同时 , 中国加入也将促进世界经济的增长 , 有利于建立完整的世界贸易体系(或答成中国需要世界 , 世界也需要中国)

(3) 有道理。因为他们看到了中国加入的消极影响性的一面——中国加入世界贸易组织也给本国经济发展带来压力和严峻的挑战。市场的进一步开放、关税的大幅度减让 , 使国内一些产品、企业和产业面临更强的竞争 , 有些产业会受到冲击。

8 . D 9 . B 10 . B

11 . 经济全球化有利有弊 , 尤其是对于发展中国家更是这样 , 所以我们要用辩证的眼光去看问题 , 既要看到它有利的一面 , 也要看到它不利的一面。具体内容如下 :

经济全球化是一把双刃剑 , 它既加速了世界经济的发展和繁荣 , 也加剧了全球的竞争中的利益失衡。

发达国家凭借资金、技术、市场和经营管理方面的绝对优势 , 成为经济全球化最大的受益者。

对于发展中国家来说 , 经济全球化既是机遇 , 也是挑战。由于发展中国家的经济基础差、技术水平低等原因 , 在经济全球化中处于劣势和被动地位。因此发展中国家在全球化过程中必须保持清醒的头脑 , 制定合理对策 , 在积极主动的参与中谋求发展。

模块检测二

一. 选择题

1. D 2. D 3. B 4. B 5. A 6. D 7. D 8. A 9. B 10. D 11. A
12. B 13. B 14. D 15. C 16. C 17. C 18. C 19. D 20. B 21. A
22. A 23. B 24. C 25. A

二. 材料解析

26. (1) 机器生产代替了手工生产；蒸汽动力代替了水力、人力和畜力；工厂代替了手工工场而成为工业生产的主要组织形式。

(2) 第二次工业革命的成就。(1分)

推动一些新兴产业的出现；推动交通运输技术的革新；改变了人们生产和生活；加强了世界各地的联系和信息交流；人类由此进入“电气时代”。(任写三点得3分)

(3) 第一次科技革命使资产阶级竭力在全世界拓展市场，世界各地间的联系更加便捷。到19世纪中后期，一个以欧美资本主义国家为主导的世界市场基本形成。(3分)

第二次工业革命使世界市场进一步发展，到19世纪末20世纪初，以欧美资本主义国家为主导的世界市场最终形成(3分)。

27. 轮船、汽车、电灯、摩天大楼、高开叉旗袍(任写四点得四分)

(2) ①西方国家的侵略，使西方国家的社会生产和生活方式也传入中国；②近代中国一些先进的中国人也积极主动地吸收外国的一些生产和生活方式；③中国民族资本主义产生和发展；④近代民主政治运动的推动；⑤自然科学的发展和进步。⑥人们思想观念的改变。

①西方国家的侵略，使西方国家的社会生产和生活方式也传入中国；②近代中国一些先进的中国人也积极主动地吸收外国的一些生产和生活方式；③中国民族资本主义产生和发展；④近代民主政治运动的推动；⑤自然科学的发展和进步。⑥人们思想观念的改变。(任写三点得6分)

(3) 在社会的剧变面前，以吴老太爷为代表的部分社会守旧势力愚昧落后远远落后于时代；封建思想观念根深蒂固，很难一下子完全根除。(任写一点得2分)

28. (1) 邓小平。改革开放。(2分)

(2) 深圳、珠海、汕头、厦门。(4分)

(3) 认为计划和市场不是判断社会主义和资本主义的根本依据。(2分)

(4) 列宁的新经济政策和罗斯福的“新政”。(4分)

三. 探究题

29. 哥伦布发现新大陆的影响既有给人类带来进步性的一面，也有给亚非拉人们，尤其是给美洲人们带来灾难性的一面。不管持那一观点，只要言之有理，均可给分。具体内容如下：

进步性：哥伦布发现美洲开始结束了世界各地相对孤立一状态，各地的文明开始会合交融，日益连成一个整体。欧洲的商人们开始直接同世界各地建立商业联系，他们把亚洲的茶叶、丝绸、瓷器、香料，非洲的黄金和象牙，美洲的黄金、白银、玉米、烟草以及欧洲的枪支、

工艺品等运往各地销售，赚取丰厚利润。从此，以西欧为中心的世界市场的雏形开始出现。

还促进了技术革命的到来

灾难性：哥伦布发现美洲，便利了欧洲列强进行早期殖民扩张。给广大的亚非拉地区和人民，尤其是给美洲人们带来了巨大的破坏和灾难。成千上万的印第安人由于被屠杀、奴役或染上殖民者带来的疾病而死去，美洲人血统和种族都发生了改变，巨额的财富被掠夺。

湖南省教育厅版权所有
免费赠送
www.hunanedu.net

必修3

第一单元 中国传统文化主流思想的演变

【学习目标】

1. 了解老子、韩非子的学派及思想主张；知道宋明理学的主要代表人物；了解明清时期重要思想家及其思想主张。
2. 结合董仲舒的思想主张分析其影响；理解“程朱理学”的主要内容和陆王心学的主要观点。
3. 掌握“百家争鸣”形成的原因及意义。
4. 掌握春秋战国时期儒家学说的创立和发展，认识其思想主张对中国社会发展的影响。

【要点解读】

1. 知识整合：春秋时期孔子创立儒家学说，战国时期孟子、荀子对儒家思想加以总结和改造，又吸收了一些其它学派的积极合理部分，使儒学体系更加完整，儒家思想更能适应社会的需要。西汉时期，董仲舒对儒家学说加以改造，适应了汉武帝在政治上、思想上加强中央集权的需要，使儒学思想成为我国传统文化的正统思想。“程朱理学”是两宋时期出现的新的儒学体系，明代陆九渊、王阳明又将其发展到新阶段。明清之际黄宗羲、顾炎武、王夫之等进步思想家对传统儒学加以批判和继承，构建起具有时代特色的新儒学体系。

2. 难重透析：

“百家争鸣”局面出现的原因及意义：

“百家争鸣”是指春秋战国时期知识分子中涌现的不同学派及各种流派争芳斗艳的局面，它的出现是这一时期政治、经济等一系列因素变化发展的必然产物。政治上：周王室衰微，诸侯士大夫崛起；经济上：井田制瓦解，封建经济得到发展；阶级关系上：士阶层在社会生活中活跃起来，受到各诸侯国重用；文化上：“学在官府”发展为“学在民间”。各家学派彼此吸收融合，逐步形成了中国的传统文化体系。百家争鸣是中国历史上第一次思想解放运动，是中国学术文化思想、道德发展史上的重要阶段，奠定了中国思想文化发展之基础；思想自由是百家争鸣给我们的一条重要启示，以史为鉴，对于我们今天贯彻落实“双百”方针，繁荣社会主义文化事业具有重要借鉴意义。

3. 易错辨析：

注意孔子思想主张与孟子、荀子思想主张的区别。孔子代表的是没落奴隶主贵族利益，以维护奴隶主统治为目的，孟子和荀子则代表新兴地主阶级利益，其目的是为了缓和农民与地主阶级矛盾。三者探究人性方面有不同的认识，孔子提出“性相近”，孟子提出“性本善”，而荀子则提出“人之性恶”的观点。

注意理学与心学的区别。理学认为事物的本原是外在的“理”，而心学认为世界的本原是内在的“心”，理学主张用“格物致知”的方法去认识和掌握“理”，而心学认为通过内心反省可以得到天理。

【学法指导】

①学生学会用辩证的观点评价儒家思想。

②学生通过把握中国传统文化主流思想演变的史实，学会构建基本知识结构和体系。如：创立—春秋，发展—战国，成为正统思想—西汉，新阶段—宋明，变化—明清。

【梯度练习】

A 组

选择题：

1. 下列春秋战国时期思想家提出“民贵君轻”思想的是（ ）
A. 墨子 B. 孟子 C. 老子 D. 韩非子
2. 儒家思想开始逐渐成为两千多年封建社会正统思想，是在下列哪一时期（ ）
A. 春秋 B. 战国 C. 西汉 D. 宋朝
3. 北宋理学思想的集大成者是（ ）
A. 程颢 B. 程颐 C. 朱熹 D. 陆九渊
4. 明确指出君主专制是“天下之大害”的是（ ）
A. 李贽 B. 黄宗羲 C. 顾炎武 D. 王夫之
5. 主张学以致用，开一代朴实学风先河的思想家是
A. 李贽 B. 黄宗羲 C. 顾炎武 D. 王夫之

B 组

二．探究题：

中国古代传统思想中儒、法两大学派在历史上产生过重大影响，据此回答：

- (1) 战国时期儒、法两大学派代表人物有哪些？
- (2) 秦始皇统一中国过程中哪一学派受到重用？为什么？
- (3) 西汉时期儒家学派能成为封建社会统治思想的主要原因是什么？
- (4) 对待中国传统思想文化，我们应坚持怎样的态度？

湖南省教育厅版权所有
www.hunandedu.net
免费赠送

第二单元 西方人文主义思想的起源及其发展

【学习目标】

- 1.了解普罗泰格拉和苏格拉底等人对人的价值的阐述；知道“文学三杰”；掌握启蒙运动兴起的原因；了解法国、德意志启蒙运动主要代表人物及其思想主张。
- 2.知道马丁·路德宗教改革开始的标志；掌握欧洲宗教改革的影响。
- 3.掌握文艺复兴首先出现在意大利的原因及文艺复兴时期“人文主义”的基本含义；认识启蒙运动的核心和意义。

【要点解读】

1. **知识整合：**本单元主要阐述了自古希腊罗马以来西方人文主义精神兴起和发展的三个阶段。其基本线索为：奠定基础——古希腊人文主义思想；兴起——文艺复兴运动；发展——欧洲启蒙运动。

2. 难重透析：

(1) 欧洲宗教改革的影响：宗教改革运动是16世纪西欧各国反对天主教会的社会运动，也是一场在宗教改革外衣下开展的政治运动，宗教改革后欧洲形成不受罗马教皇控制的新教各派，沉重打击了天主教会，为资本主义发展进一步扫除了精神枷锁；在宗教改革运动影响下，千千万万的民众开始打破对罗马教会的迷信，解放了思想，人文主义得到了进一步传播与发展。

(2) 文艺复兴运动出现在意大利的原因：文艺复兴运动是14—17世纪欧洲发生的一场资产阶级反封建的思想文化运动，它的出现有其深刻的社会根源和历史根源。从社会根源看：资本主义萌芽最早发生在意大利，新兴资产阶级随着经济地位的上升，为了扩大政治权力，维护经济利益，要求在意识形态领域进行一次反对封建神学世界观的思想变革。从历史根源看：希腊罗马古典文化的传统，在意大利保留最多，意大利人更熟悉古希腊罗马的文化典籍，因此意大利的文化遗产和人才结构也决定了它最早发生文艺复兴运动。

3. 易错辨析：

注意文艺复兴运动与启蒙运动核心的不同。前者以人文主义为核心，借助古希腊罗马文化反对封建神学，后者以理性主义为核心，公开向宗教神学发起挑战，斗争矛头直指封建专制制度，同时描绘了未来“理性王国”的蓝图。

【学法指导】

①明确各时期人文主义精神的内涵和价值，掌握人文主义奠基、兴起、发展及其所对应的三次思想解放运动。

②注意运用比较法比较不同时期的人文主义思想。

【梯度练习】

A 组

选择题

1. “人是万物的尺度”，这是古希腊哪位思想家提出的（ ）
A. 泰勒斯 B. 普罗泰格拉 C. 苏格拉底 D. 柏拉图
2. 意大利文艺复兴时期“文学三杰”是指（ ）
A. 拉斐尔、但丁、彼特拉克 B. 达芬奇、但丁、薄伽丘
C. 但丁、莎士比亚、彼特拉克 D. 但丁、彼特拉克、薄伽丘
3. 下列人物与其思想对应不正确的一组是（ ）
A. 普罗泰格拉—“人是万物的尺度” B. 苏格拉底—“美德即知识”
C. 孟德斯鸠—“三权分立” D. 康德—“社会契约说”
4. 启蒙运动的核心是（ ）
A. 人文主义 B. 理性主义 C. 蒙昧主义 D. 现实主义
5. 下列文艺复兴时期文学家被称为“人文主义”之父的是（ ）
A. 薄伽丘 B. 但丁 C. 莎士比亚 D. 彼特拉克

B 组

一、选择题：

6. 下列启蒙思想家中提出“三权分立”学说，奠定了资产阶级有关国家和法的理论基础的（ ）
A. 伏尔泰 B. 孟德斯鸠 C. 卢梭 D. 康德
7. 文艺复兴运动出现的根本原因（ ）

- A. 新兴资产阶级形成 B. 资本主义萌芽
C. 古希腊罗马文化的遗存 D. 思想家们的努力

二、材料题

8. 阅读下列材料：

材料一：“我不能同意你说的每一个字，但是我要誓死捍卫你说话的权利” ——伏尔泰

材料二：“国家的权力应分为立法权、行政权和司法权，彼此制衡，防止腐败和集权” ——孟德斯鸠

材料三：“社会秩序乃是为其他一切权利提供了基础的一项神圣权利，然而这项权利不是出诸自然的，而是建立在约定之上的” ——卢梭

请回答：

- (1) 根据三则材料，概括三位思想家的主要思想。
(2) 孟德斯鸠的学说有何意义？对后来美国产生了什么影响？
(3) 三位思想家是法国启蒙运动的重要代表人物，请问他们发起这场启蒙运动有何重要历史意义？

C 组

一、选择题：

9. 右图是拉斐尔所画圣母像，他笔下的圣母充满人性和母爱，该图体现了当时（ ）

- A. 蒙昧主义思想 B. 人文主义思想 C. 理性主义思想 D. 浪漫主义思想

10. “每一个基督徒，即使不购买赎罪券，但只要虔诚的信仰上帝，灵魂同样可以得到救赎。”这句话最有可能出自（ ）

- A. 《圣经》 B. 《神曲》 C. “九十五条论纲” D. 《十日谈》



二、探究题：

11. 14—17 时期欧洲发生了一场重大的思想解放运动——文艺复兴运动，据此回答：

- (1) 这场运动首先在意大利发生的原因是什么？
(2) 这一场运动的指导思想是什么？你是如何评价这一思想的？
(3) 有人认为这场运动实际是单纯意义上的古代希腊罗马文化的复兴，你赞同这一观点吗？请说明理由？

第三单元 古代中国的科学技术与文学艺术

【学习目标】

- 1.知道《九章算术》、《授时历》、《齐民要术》、《诗经》;了解宋词中的婉约派和豪放派、元曲的代表人物、明清小说的代表作;掌握汉字的演变脉络;了解楷书、草书、行书的主要特点及书法家王羲之;掌握《清明上河图》和京剧的出现。
- 2.掌握《伤寒杂病论》和《本草纲目》的作者和地位;掌握唐诗繁荣的条件。
- 3.掌握中国古代四大发明及其对世界文明的贡献。

【要点解读】

1. 知识整合:

古代中国科学技术硕果累累,领先世界,对世界文明的发展影响深远;古代中国文学成就辉煌灿烂,从诗歌、宋词、元曲到明清小说,不同历史时期均有各具特色的文学形式。汉字按照甲骨文、篆书、隶书、楷书的脉络发展,至今已有 3000 多年的历史。

2. 难重透析:

中国古代四大发明及其对世界文明的贡献:明中叶之前,中国古代传统科技一直走在世界前列。火药、指南针、造纸术、活字印刷术等四大发明是中国古代最有代表性的科学技术,对人类文明的发展起了巨大的推动作用,尤其是对西欧率先迈入近代社会起了巨大的推动作用。造纸术经阿拉伯人传入欧洲,促进了欧洲文化的发展;火药传入欧洲,推动了欧洲火药武器的发展,为欧洲资产阶级战胜封建贵族起了重大作用;指南针的使用,促进了远洋航行,迎来了地理大发现的时代;印刷术的传入,大大推动了文艺复兴运动和宗教改革,促进了思想解放和社会进步。总之,中国四大发明传入欧洲之后,加速了西欧封建制度解体,促进了西欧资本主义发展。

3. 易错辨析:

①注意不同时期文学表现形式的不同:唐朝是诗歌,宋朝是词,元朝是曲,明清是小说,不能混淆。

②注意中国传统科技与西方近代科技不同:中国传统科技只注重传统典籍的整理与总结,缺少实验,而西方近代科技注重实验,注重对事物发展规律的探究;中国传统科技主要集中于与农业有关的农学、天文、历法及医药等方面,而西方则集中于物理学、生物学、天文学方面。

【学法指导】

- (1) 注重将中国传统科技与西方近代科技的比较。
- (2) 结合中国四大发明的具体内容分析理解其对世界文明的影响。

【梯度练习】

A 组

选择题：

1. 右图相关的科技发明是在以下哪一时期（ ）

A. 隋唐 B. 北宋 C. 西汉 D. 南宋



毕升活字版（模型）

2. 我国现存最早、最完整、最系统的古代农业科学著作是（ ）

A. 《汜胜三书》 B. 《齐民要术》
C. 《农书》 D. 《农政全书》

3. 词是宋代文学的主要表现形式，下列属于豪放派词作家的是（ ）

A. 柳咏、李清照 B. 苏轼、辛弃疾
C. 李白、杜甫 D. 关汉卿、马致远

4. 我国文字演变的先后顺序是（ ）

①甲骨文 ②小篆 ③隶书 ④楷书

A. ③①②④ B. ①③②④ C. ①②③④ D. ①④②③

5. 被誉为“东方药物巨典”的古代医学著作是（ ）

A. 《黄帝内经》 B. 《伤寒杂病论》 C. 《授时历》 D. 《本草纲目》

B 组

一、选择题：

6. 假如你生活在西汉时期，不可能发生在你身边的有（ ）

A. 用纸给亲人朋友写信 B. 政府采用印刷术大量印制“五经”

- C. 阅读《诗经》 D. 在太学里读书

7. 下列书体中，具有其他书体无可比拟的实用价值的是（ ）

- A. 隶书 B. 楷书 C. 行书 . D 草书

二、材料题：

8. 阅读下列材料：

火药、指南针、印刷术——这是预兆资产阶级社会到来的三大发明，火药把骑士阶层炸得粉碎，指南针打开了市场，并建立了殖民地，而印刷术则变成新教的工具，总的来说，变成科学复兴的手段，变成对精神发展创造必要前提的最强大的杠杆。

——马克思《机器、自然力和科学的应用》

请回答：

- (1) 活字印刷术是我国古代何时哪位发明家发明的？指南针在我国古代何时开始应用于航海？
- (2) “火药把骑士阶层炸得粉碎”是指什么？
- (3) “罗盘针打开了世界市场，并建立了殖民地”主要指哪一重大历史事件？
- (4) 中国三大发明传入欧洲后，对欧洲历史发展最重要的影响是什么？

C 组

一、选择题：

9. 被马克思称为帮欧洲人“打开了世界市场，建立了殖民地”的我国古代重大发明是指（ ）

- A. 造纸术 B. 印刷术 C. 火药 D. 指南针

10. 下图是 2008 年北京奥运会的 35 个体育运动图标（局部），代表 35 个运动项目，它是以中国古代某种字体的笔画为基本形式，融合其他文字的象形意趣和现代图形的简化特征创造出来的。这种字体是



- A. 甲骨文 B. 隶书 C. 篆书 D. 楷书

二. 探究题

11. 唐代是我国诗歌创作的黄金时代，词是宋代文学的主流形式和标志，小说是明清时期的文学主要表现形式。据此回答：

(1) 唐代诗歌繁荣的条件有哪些？

(2) 唐代是我国封建社会繁荣时期，宋朝是我国民族政权并存时期，明清是我国封建社会走向衰落时期，请你结合文学方面的有关内容谈谈文化与政治、经济关系。

湖南省教育厅版权所有
www.hunanedu.net
免费赠送

第四单元 近代以来世界的科学发展历程

【学习目标】

1. 知道量子论的代表人物；了解拉马克提出早期生物进化思想；了解瓦特改制蒸汽机及蒸汽机的影响；掌握法拉第的贡献和电气革命的影响。
2. 理解伽利略、牛顿在经典力学方面的主要贡献；掌握爱因斯坦相对论。
3. 认识达尔文的进化论。

【要点解读】

1. **知识整合：**十六世纪以来物理学、生物学及科学技术领域取得了一系列重大突破，对人类历史产生了重大影响。物理学方面：伽利略为经典力学建立奠定了基础，牛顿的三大定律和万有引力定律标志经典力学的形成，爱因斯坦相对论则推动物理学发展到一个新的高度；生物学方面：从早期生物进化思想开始形成到达尔文创立生物进化论，从根本上改变了当时绝大多数人对生物界和人类在生物界中地位的看法。科技方面：人类历史上先后出现了三次科技革命，极大推动了人类社会的发展，人类先后进入“蒸气时代”、“电气时代”、“信息时代”。

2. 难重透析：

(1) 爱因斯坦相对论：19 世纪初，随着物理学研究的进展，经典力学无法解释研究中遇到的一些新问题，面临着危机。20 世纪初，德国物理学家爱因斯坦经过多年研究，提出了相对论，包括狭义相对论和广义相对论。狭义相对论认为，物体运动时质量会随物体运动速度增大而增加，同时空间和时间也会随物体运动速度变化而变化。即会发生尺缩效应和钟慢效应。广义相对论认为，空间和时间的性质不仅取决于物质的运动情况，也取决于物质本身的分布状态。相对论的提出是物理学领域一次重大革命。它否定了经典力学的绝对时空观，深刻揭示了时间和空间的本质属性。它也发展了牛顿力学体系，将其概括在相对论力学之中，推动物理学发展到一个新的高度。他不仅对物理科学本身，对自然科学而且对整个人类的思维都产生了不可磨灭的影响，使人类思想发展史上的一次根本性变革。

(2) 达尔文生物进化论：1859 年，英国科学家达尔文发表《物种起源》一书，创立了生物进化论。主要内容有**错误！未找到引用源。**自然选择：一切生物都经历了由低级向高级，由简单到复杂的发展过程，生物现存的物种有共同的原始起源，不同物种的变异是“自然选择的结果”。**错误！未找到引用源。**生存竞争：生物为了生存和繁育后代，必须与其他种类的生物相互竞争，同时，生物个体之间存在着本种类内部的竞争。**错误！未找到引用源。**适者生存：能较好地适应和发生变异的个体，将获得较多生存和繁殖机会，而那些发生了有害变

异的个体将遭到淘汰。微小的有利变异逐步积累为显著的变异，从而形成新物种。这就是以自然选择为基础的生物进化学说，这一原理，被后人归纳为“物竞天择，适者生存，自然选择”。生物进化论从根本上改变了当时绝大多数人对生物界和人类在生物界中地位的看法，有力挑战了封建神学创世说。进化论思想还对处于国家危亡时期的中国思想界产生了巨大震动。

3. 易错辨析

注意伽利略、牛顿、爱因斯坦三者理论之间的区别：伽利略开创了以实验事实为根据，并具有严密逻辑体系的近代科学，为后来经典力学创立和发展奠定了基础。牛顿提出的物体运动三大定律和万有引力定律符合宏观世界的低速运动物质，标志经典力学形成，而爱因斯坦相对论提出符合微观世界中的高速运动物质，发展了牛顿力学，推动物理学发展到一个新高度。

【学法指导】

(1) 注意从整体上进行“抓线串点”，即抓住近代以来科学技术的发展最基本线索，从物理学、生物学和近代三次科技革命，掌握本单元内容。

(2) 注意物理学、生物学发展过程中重大理论之间的联系与区别，加深对重大科技理论的理解。

【梯度练习】

A 组

选择题：

1. 为近代经典力学的创立和发展奠定基础的物理学家是 ()

A. 亚里士多德 B. 伽利略 C. 牛顿 D. 爱因斯坦

2. 下列科学家与量子论产生发展没有联系的是 ()

A. 牛顿 B. 普朗克 C. 爱因斯坦 D. 玻尔

3. 下列关于电气革命影响说法不正确的是 ()

A. 生产力迅猛发展 B. 垄断组织形成

C. 城市面貌和人们社会生活发生巨大变化 D. 英、法、美等国成为工业国家

4. 下列重大科技成果与人物对应不正确的是 ()

- A. 改良蒸汽机——牛顿 B. 发现电磁感应现象——法拉第
C. 火车机车——史蒂芬孙 D. 蒸汽轮船——富尔顿

5. 从根本上改变了 19 世纪绝大多数人对生物界和人类在生物界的位置的看法的是 ()

- A. 经典力学 B. 细胞学说 C. 相对论 D. 进化论

B 组

一、选择题:

6. 蒸汽时代给人类社会生产、生活带来了新的变化, 其表现是 ()

- A. 给朋友打电话 B. 坐电车去市中心 C. 乘火车外出旅游 D. 利用网络进行交流

7. 假如你生活在 19 世纪 90 年代的美国, 不可能发生在你身边的事情是 ()

- A. 在大街上看到一起汽车交通事故 B. 美国纽约街头有了电灯
C. 上网和朋友聊天 D. 圣诞夜给亲人打电话问好

二、材料题例

8. 阅读下列材料:

材料一: 我读了各种各样的书, 其中有达尔文的《自然选择》一书, 它为我们的观点提供了自然史的基础。——恩格斯

材料二: 达尔文推翻了那种把动物植物物种看作毫无联系的偶然的“神造的”不变的东西的观点, 第一次把生物学放在完全科学的基础上, 确定了物种的变异性的承续性。——列宁

材料三: 种族与种族、国家与国家之间, 也存在着“物竞天择, 适者生存”的残酷竞争, 中国如果不甘沦亡, 就必须奋发图强, 并立即作出抉择, 实行变法。——严复

请回答:

- (1) 达尔文生物进化论创立的标志是什么?
(2) 据材料一、二结合所学知识分析达尔文是如何破解生命起源之谜的?
(3) 据材料三结合所学知识分析生物进化论产生的重大影响。

C 组

一、选择题:

9. 下列人们的日常生活现象源于互联网的是 ()

①乘坐火车外出旅游 ②开汽车出去郊游 ③网上学习 ④网上交友 ⑤网上购物

- A. ①②③ B. ②③④ C. ③④⑤ D. ①②③④⑤

10. 下列属于蒸汽机应用带来的影响的是 ()


①人类进入“蒸汽时代” ②工业化城市形成 ③世界各地联系日益密切

④极大提高了生产力 ⑤带来了严重的环境污染 ()

- A. ①②③④ B. ②③④⑤ C. ①③④⑤ D. ①②③④⑤

二. 探究题:

11. 观察下列三幅图片:



图一: 蒸汽机图片



图二: 电磁感应装置图片

$$E=mc^2$$

图三

请回答:

- (1) 三幅图片中的重大发明及理论分别由谁发明和发现?
- (2) 三幅图片反映人类利用的能源各有何不同?
- (3) 图三这一理论带来的重大发明在历史上产生过什么重大影响和灾难? 从中我们有何启示?

第五单元 近代中国的思想解放潮流

【学习目标】

1. 了解林则徐、魏源和《海国图志》；知道李大钊宣传马克思主义的主要文章。
2. 理解“中学为体，西学为用”的概念；掌握维新变法思想的代表人物；认识新文化运动的主要内容和意义。

【要点解读】

1. **知识整合：**鸦片战争以来随着西方国家侵略的加剧，民族危机的加深，向西方学习逐渐成为近代思想解放的潮流。从“师夷长技以制夷”、“师夷长技以自强”，到维新变法、追求民主共和、提倡民主和科学、接受马克思主义；从学造器物、仿行制度到提倡思想解放，先进的中国人不断探求强国之路。近代中国思想解放潮流一浪高过一浪。

2. 难重透析：

“中学为体，西学为用”：第二次鸦片战争后，面对内忧外患的形势，清政府内部以曾国藩、李鸿章、左宗棠为代表的洋务派，认为“中国文武制度，事事远出西人之上，独火器不能及”。于是他们提出了“中学为体，西学为用”、“师夷长技以自强”的思想，其根本目的是在不触动封建制度前提下，学习西方先进技术以挽救江河日下的封建统治。洋务派为此创办了一批近代企业，开设了一批新式学堂，迈出了中国近代化历程的第一步。

3. 易错辨析：

（1）“师夷长技以制夷”与“中学为体，西学为用”的区别：前者学习西方重在抵抗外侮，后者学习西方重在镇压农民起义；前者学习西方没有付诸实践，而后者付诸了实践，创办了近代军事、民用工业。

（2）五四运动前后新文化运动的主要区别：五四运动前，以提倡民主科学为主要内容，五四运动后，以宣传马克思主义为主要内容。

【学法指导】

注意分析每个不同历史时期中国人向西方学习的特点，认识学习西方是一个不断发展、不断深化的过程，在分析比较中加以理解相关知识。

【梯度练习】**A 组**

选择题：

1. 近代中国开眼看世界的第一人是（ ）
A. 魏源 B. 林则徐 C. 洪仁玕 D. 洪秀全
2. 新文化运动的核心内容是（ ）
A. 提倡民主与科学 B. 提倡新道德，反对旧道德
C. 提倡新文学，反对旧文学 D. 宣传介绍马克思主义
3. 19 世纪 90 年代，维新变法运动的主要代表人物有（ ）
①康有为 ②王韬 ③梁启超 ④严复 ⑤郑观应
A. ①②③④⑤ B. ①③④⑤ C. ①②③④ D. ①③④
4. 19 世纪 40 年代，介绍西方历史地理最详实的专著是（ ）
A. 《四洲志》 B. 《各国律令》 C. 《海国图志》 D. 《资政新编》
5. 五四运动爆发后，李大钊宣传介绍马克思主义的文章是
A. 《法俄革命之比较》 B. 《庶民的胜利》
C. 《我的马克思主义观》 D. 《布尔什维主义的胜利》

B 组

一. 选择题：

6. 关于“中学为体，西学为用”思想解释正确的一组是（ ）
A. 既学习西方先进技术，又学习西方先进政治制度
B. 反对学习西方先进技术，极力维护封建统治
C. 在不触动封建制度前提下学习西方先进技术
D. 学习西方，建立近代教育体制
7. 下图中把反封建内容与白话文形式有机地结合起来，成为新文学典范的人物是（ ）



A

B

C

D

二. 材料题:

8. 阅读下列材料:

材料一: 是书何以作? 曰为以夷攻夷而作, 为以夷款夷而作, 为师夷长技以制夷而作

——魏源《海国图志》

材料二: “中国文武制度, 事事远出西人之上, 独火器不能及……中国欲自强, 则莫如学习外国利器, 欲学习外国利器, 则莫如觅制器之器, 师其法而不必尽用其人”

——李鸿章《致总理各国事务衙门函》

材料三: 泰西(西方)近政论, 皆有三权: 有议政之官, 有行政之官, 有司法之官, 三权分立, 然后事体备。以我朝论之, 皇上则为元首, 百体所从, 军机号曰政府, 出纳王命。

——康有为《应诏统筹全局折》

请回答:

(1) 概括材料一的思想, 并指出其含义?

(2) 据材料二、三, 指出其主张代表的政治派别, 各派为实现其思想主张进行了怎样的具体实践?

(3) 材料三与材料二相比, 其思想主张有何明显的进步?

C 组

一. 选择题:

9. 下列关于洋务运动评价不正确的是()

- A. 迈出了中国近代化历程第一步
- B. 抵制了外国的经济侵略
- C. 最终以失败告终
- D. 没有产生任何积极影响

10. 下列关于新文化运动评价不正确的是（ ）

- A. 猛烈冲击了封建思想的统治地位 B. 中国知识分子在运动中受到一次民主与科学的洗礼
- C. 成为新民主主义革命开端 D. 为马克思主义在中国的传播创造了有利条件

二. 探究题

11. 阅读某书店一份售书广告：

本店售书目录

①《共产党宣言》

②《庶民的胜利》

③《机器制造论》

.....

阳光书店

1920年10月3日

请回答：

- (1) 广告所列书目中，可能在洋务运动时期成为畅销书的是其中哪一本？
- (2) 不可能在洋务运动时期畅销的是哪一本？
- (3) 不可能在洋务运动时期出现的是哪一本？请分别说明理由。

第六单元 20 世纪以来重大思想理论成果

【学习目标】

1. 知道三大政策；了解“农村包围城市”革命理论提出；掌握十一届三中全会确立的思想路线和“三个代表”重要思想的基本内容。
2. 知道新三民主义提出的时间、会议；理解新三民主义的作用；掌握邓小平理论的主要内容。
3. 掌握三民主义的基本内容及其评价。
4. 认识毛泽东思想的形成和发展。

【要点解读】

1. 知识整合：

二十世纪以来，孙中山、毛泽东、邓小平和江泽民根据各自所处的时代特点和形势发展的需要，分别创立了三民主义、毛泽东思想、邓小平理论和“三个代表”重要思想，并领导中国人民取得了巨大的革命和建设成就。

2. 难重透析：邓小平理论的形成和意义：邓小平理论是指党的十一届三中全会以后，以邓小平为代表的中国共产党人在总结建国以来正、反两方面经验教训的基础上，在改革开放的实践中，不断探索得出的一条正确的社会主义建设理论。其形成过程包括：**错误！未找到引用源。**1982年，中共十二大提出，要把马克思主义普遍真理同中国的具体实际结合起来，走自己的路，建设中国特色社会主义。**错误！未找到引用源。**1987年，中共十三大系统提出了社会主义初级阶段理论，规定党在社会主义初级阶段“一个中心，两个基本点”的基本路线，会议第一次对建设中国特色的社会主义理论内容作了系统概括，后来被称为邓小平理论。**错误！未找到引用源。**1992年，邓小平“南方谈话”，指出社会主义本质就是解放发展生产力，消灭剥削，消灭两级分化，最终达到共同富裕；判断各方面工作的是非标准应是“三个有利于”，即是否有利于发展社会主义生产力，是否有利于增强社会主义综合国力，是否有利于提高人民的生活水平。**错误！未找到引用源。**1992年，中共十四大提出，用邓小平建设中国特色的社会主义理论武装全党，明确改革下一步目标是建设社会主义市场经济体制。**错误！未找到引用源。**1997年，中共十五大决定把邓小平理论作为党的指导思想，写入《中国共产党章程》。除此之外，邓小平理论还包括创造性提出的“一国两制”的伟大构想及和平与发展是当今世界两大主题等思想。邓小平理论把马克思主义普遍真理同中国具体实际相结合，继承和发展了毛泽东思想，是引导中国人民进行改革开放和社会主义现代化建设的伟大

旗帜。是马克思主义普遍真理与中国具体实际相结合的第二次历史性飞跃的理论成果，进一步发展了马克思主义。

3. 易错辨析：

(1) 注意新三民主义与旧三民主义的不同：新三民主义明确提出反对帝国主义，主张民权为“一般平民所共有”，把“平均地权”发展为“耕者有其田”的思想，贯彻执行扶助农工的政策。

(2) 注意毛泽东思想、邓小平理论和“三个代表”重要思想作用的不同：毛泽东思想对我国新民主主义革命胜利和社会主义革命胜利起了指导作用；邓小平理论对中国特色社会主义建设起了指导作用；“三个代表”重要思想对加强党的执政能力，提高党在新时期执政水平起了指导作用。

【学法指导】

(1) 注意采用理论联系实际的方法和分析比较的方法，理解 20 世纪以来，中国重要思想理论成果。

(2) 注意抓住以下基本历史线索：三民主义——辛亥革命的指导思想；新三民主义——国民革命的指导思想；毛泽东思想——新民主主义革命和社会主义革命的指导思想；邓小平理论——中国特色社会主义建设的指导思想；三个代表——21 世纪以后中国共产党的重要指导思想。

【梯度练习】

A 组

选择题：

- “三民主义”的核心内容是（ ）
A. 民族主义 B. 民生主义 C. 民权主义 D. 民本主义
- 毛泽东思想被确立为中国共产党指导思想是在（ ）
A. 国民大革命时期 B. 国共十年对峙时期 C. 抗日战争时期 D. 解放战争时期
- 毛泽东提出“农村包围城市，武装夺取政权”革命思想是在（ ）
A. 五四运动时期 B. 国民大革命时期 C. 国共十年对峙时期 D. 抗日战争时期
- 提出建立社会主义市场经济体制的会议是（ ）

- A. 中共十二大 B. 中共十三大 C. 中共十四大 D. 中共十五大
5. 马克思主义与中国实际相结合的第一次历史性飞跃理论成果是（ ）
- A. 新三民主义 B. 毛泽东思想 C. 邓小平理论 D. “三个代表”思想

B 组

一、选择题：

6. 下列重要会议对应的内容不正确的一组是（ ）
- A. 中共七大—确立毛泽东思想为党的指导思想
- B. 中共十五大—确立邓小平理论为党的指导思想
- C. 中共十三大—提出走自己的路，建设中国特色社会主义
- D. 中共十六大—确立“三个代表”为党的指导思想
7. 下列不属于毛泽东思想发展阶段的是（ ）
- A. 人民民主专政思想 B. 正确处理人民内部矛盾理论
- C. “农村包围城市道路”理论 D. 新民主主义社会转变为社会主义社会的思想

二、材料题：

8. 阅读下列材料：

材料一：“我们革命的目的是为中国谋幸福，因不愿少数满洲人专制，故要民族革命；不愿君主一人专制，故要政治革命；不愿少数富人专制，故要社会革命”。

——孙中山《三民主义与中国前途》

材料二：国民党之民族主义，其目的在使中国民族得自由独立于世界，……盖民族主义，对于任何阶级，其含义皆不免除帝国主义侵略。……凡真正反对帝国主义之个人及团体，均得享有一切自由及权利。……私人所有土地，由地主估价呈报政府，国家就价征税，并予必要时依报价收买之，……农民之缺乏田地，沦为佃户者，国家当给予土地，资其耕作。

——《中国国民党第一次代表大会宣言》

回答：

（1）当时“政治革命”、“民族革命”、“社会革命”指的是同盟会政治纲领中的什么内容？

（2）如何正确评价三民主义？

(3) 与旧三民主义相比, 新三民主义在民族、民权、民生主义方面有何显著不同?

(4) 孙中山把旧三民主义发展成新三民主义, 体现了他一种什么样的精神?

C 组

一、选择题:

9. 马克思主义同中国实际相结合的第二次历史性飞跃的理论成果是指 ()

A. 新三民主义 B. 毛泽东思想 C. 邓小平理论 D. “三个代表”思想

10. 下列属于邓小平理论重要组成内容的是 ()

①“一个中心, 两个基本点” ②建立社会主义市场经济体制 ③走自己的路, 建设中国特色的社会主义 ④改革开放 ⑤和平与发展 ⑥“一国两制”

A. ①②③④ B. ②③④⑤ C. ①②③⑤ D. ①②③④⑤⑥

二、探究题:

11. 江泽民指出: “一个世纪以来, 中国人民在前进道路上经历了三次历史性巨大变化, 产生了三位站在时代前列的伟大人物: 孙中山、毛泽东、邓小平。”

据材料回答:

(1) 20 世纪中国经历的三次历史性巨变分别是指什么?

(2) 三位伟人与时俱进、开拓创新分别创立的重要理论成果是什么?

(3) 在探索救国道路的问题上, 孙中山仿效欧美走资本主义道路最终失败, 毛泽东探索出“农村包围城市”的道路、邓小平提出“建设有中国特色的社会主义道路”最终取得中国革命胜利和社会主义建设成功, 说明了什么问题? 体现了我党什么样的思想路线?

第七单元 现代中国的科技、教育与文学艺术

【学习目标】

1. 知道“双百方针”；了解新中国全面发展的教育方针。
2. 掌握“文革”结束后我国文学艺术繁荣的原因；理解“科教兴国”战略的提出和邓小平的“三个面向”。
3. 掌握“两弹一星”和“神舟”飞船飞行成功的意义；认识袁隆平选育杂交水稻及其意义。

【要点解读】

1. **知识整合：**新中国成立后，我国的科学技术与文化事业获得了蓬勃发展，特别是在党的十一届三中全会以后，科学技术与文化得到了迅速发展。期间，我国科学技术与文化事业曾遭严重挫折，但取得了辉煌的成就：科学技术以“两弹一星”为代表，取得了重大成就；文学艺术硕果累累，形成了“百花齐放”、“百家争鸣”的繁荣局面；教育事业得到迅速发展。

2. 难重透析：

“科教兴国”战略：是指全面落实科学技术是第一生产力，坚持教育为本，把科技和教育摆在经济、社会发展的重要位置，增强国家的科技实力及向现实生产力转化的能力，提高全民族的科学文化素质，把经济建设转移到依靠科技进步和提高劳动者素质的轨道上来，加速实现国家的繁荣昌盛的战略。改革开放初期，鉴于教育对经济和社会的推动作用日益明显，邓小平提出教育优先发展的思想，国家制定了一系列政策方针，把发展科技和教育事业放在现代化建设的首位，大力增加教育投入，实施“科教兴国”战略。

3. 易错辨析：

(1) 注意“两弹”是指原子弹和导弹，而非原子弹和氢弹；“一星”是指人造地球卫星，不能混淆。

(2) 注意“双百”方针中的“百家争鸣”与春秋战国时期的“百家争鸣”的区别：前者是在社会主义公有制和社会主义制度初步确立的前提下，在中华人民共和国范围之内允许在学术问题上自由争论，是一种文化方针，后者是在奴隶制崩溃、封建制逐步确立时期的一次思想解放运动，是一种历史现象。

【学法指导】

- (1) 注意把握科技文化的重大成就，并对其原因、作用加以评价；
- (2) 学会梳理历史发展线索，概括时代特征。

【梯度练习】

A 组

选择题：

1. 中国第一颗原子弹爆炸成功发生在（ ）
A. 1960 年 B. 1964 年 C. 1967 年 D. 1970 年
2. 标志中国开始进入航天时代的科技成就是（ ）
A. 原子弹爆炸成功 B. “东方红一号”人造地球卫星升空
C. “神舟”五号载人飞船发射成功 D. 中近程导弹试验成功
3. 进入全面建设社会主义时期，我党制定的教育方针中，摆在首位的教育是（ ）
A. 智育 B. 体育 C. 德育 D. 美育
4. 中共中央提出“双百”方针是在（ ）
A. 国民经济恢复时期 B. 全面建设社会主义时期
C. “文革”时期 D. 社会主义建设新时期
5. 关于教育“三个面向”的说法，不正确的是（ ）
A. 提出于上个世纪 80 年代 B. 是指“教育要面向现代化，面向世界，面向未来”
C. 由毛泽东提出 D. 加快了教育改革的步伐

B 组

一. 选择题：

6. 我国第一颗原子弹爆炸成功的作用和意义有（ ）
①加强了中国的国防力量 ②打破了美苏的核垄断 ③有利于维护世界和平
A. ①② B. ①③ C. ②③ D. ①②③
7. 下列与“科教兴国”战略无关的是（ ）

- A. 在改革开放的形势下提出 B. 把发展科技和教育事业放在现代化建设首位
C. 大量增加教育投入 D. 提出“双百”方针

二、材料题：

8. 阅读下列图片：



图一



图二

请回答：（1）我国第一颗原子弹爆炸成功是哪一年？有何重要意义？

（2）我国和平利用核能为人类造福的两项重大成就是什么？

（3）袁隆平选育出的杂交水稻新品种名称是什么？

（4）谈谈你对袁隆平贡献的评价？

C 组

选择题：

9. 关于“双百”方针，叙述不正确的是（ ）

- A. 1956 年毛泽东提出 B. 学术问题上“百花齐放”，艺术问题上“百家争鸣”
C. 是一个长期性的方针 D. 推动了科学技术和文学艺术的发展

10. 十一届三中全会后，科学和文艺工作者进入了又一个春天，文学创作呈现出欣欣向荣的局面，这主要归功于（ ）

- A. 改革开放新局面的形成 B. 人民生活水平的提高
C. “双百”方针的重新贯彻实施 D. 文艺工作者的创作热情高昂

第八单元 19 世纪以来的世界文学艺术

【学习目标】

1. 了解浪漫主义文学的代表及作者；了解 20 世纪欧美现代主义文学的代表作及作者；了解法国新古典主义美术的代表作及作者；了解法国浪漫主义美术的代表作及作者；掌握 19 世纪现实主义美术的特点、代表作及作者；了解 19 世纪印象画派代表作及作者；了解现代主义美术的代表作及作者；浪漫主义音乐的代表作及作者。
2. 掌握现实主义文学的特点。

【要点解读】

1. **知识整合：**19 世纪以来，世界文学艺术空前繁荣，出现了浪漫主义、现实主义、现代主义等各种文学艺术流派，深刻反映了社会历史现实。随着科技发展和艺术进步，艺术和科学技术结合，产生了影视艺术，极大丰富了人民文化生活，推动了社会的发展。

2. 难重透析：

- (1) 现实主义文学的基本特点：关注社会，反映现实，揭露和批判社会的罪恶。
- (2) 现实主义美术的基本特点：注重表现社会现实，着重描绘普通人的日常生活。

3. 易错辨析：

注意现实主义文学与现代主义文学的主要区别，前者关注社会稳定，深入剖析社会生活本质，揭露批判社会的黑暗；后者集中表现自我，手法怪诞，语言风格悖离传统。

【学法指导】

- (1) 注意把握不同时期不同文学艺术流派的主要特征。
- (2) 按不同流派梳理知识，形成每一单元的整体线索。

【梯度练习】

A 组

选择题:

1. 下列文学作品中, 属于浪漫主义文学的是 ()

- A. 《等待戈多》 B. 《老人与海》 C. 《巴黎圣母院》 D. 《狂人日记》


2. 著名诗句“如果冬天已经来临, 春来还会远吗”体现了哪一文学流派的特征 ()

- A、浪漫主义 B、现实主义 C、现代主义 D、民族主义

3. 毕加索是西班牙著名画家, 他的代表作品是 ()



A



B



C



D

4. 19 世纪欧洲浪漫主义音乐最杰出的两位代表人物是 ()

- A. 贝多芬、约翰·施特劳斯 B. 贝多芬、柴可夫斯基
C. 威尔、比才 D. 约翰·施特劳斯、柴可夫斯基

5. 俄国著名音乐家柴可夫斯基的代表作品是 ()

- A. 《蓝色多瑙河》 B. 《茶花女》 C. 《卡门》 D. 《天鹅湖》

B 组

一. 选择题:

6. 被称作是现代主义文学荒诞派典型的是 ()

- A. 《老人与海》 B. 《等待戈多》 C. 《百年孤独》 D. 《玩偶之家》

7. 下列美术作品, 属于印象画派的是 ()

① 《日出·印象》 ② 《格尔尼卡》 ③ 《向日葵》

- A. ①②③ B. ①② C. ①③ D. ②③

二. 材料题:

8. 阅读下列图片:



图一



图二



图三

请回答：（1）三幅图片分别属于哪一艺术流派？

（2）三幅绘画的作者分别是谁？

（3）图三在表现手法上有何主要特征？

C 组

一. 选择题：

9. 下列画家对应的作品不正确的是（ ）

A. 大卫——《马拉之死》 B. 德拉克瓦——《自由引导人民》

C. 列宾——《拾穗者》 D. 凡高——《向日葵》

10. 一幅名叫《石工》的绘画，画面内容为：“弯着腰，身体被烈日烧灼，头戴麦秆草帽的七十多岁老人，他那粗布的裤子打着补丁，脚上穿着古老的木鞋，破袜子露出了脚，在老人身边是个满头尘土，皮肤被太阳灼成褐色的少年”，据画面内容分析此画属于哪一流派（ ）

A. 古典主义 B. 现实主义 C. 浪漫主义 D. 现代主义

综合检测三

一. 选择题（本大题共 25 小题，每题 2 分，共 50 分。每题所列的四个选项中，只有一项是符合题目要求的）

1. 儒家思想是我国古代传统文化的主流思想，它开始成为统治者推崇的正统思想是在（ ）

- A. 战国 B. 西汉 C. 秦朝 D. 明朝

2. “嫁鸡随鸡，嫁狗随狗”，“从一而终”，这是封建社会里束缚女性自由的精神枷锁，对此持明确反对态度的思想家是（ ）

- A. 董仲舒 B. 朱熹 C. 王阳明 D. 李贽

3. 欧洲文艺复兴的实质是（ ）

- A. 古希腊罗马的文化复兴 B. 古希腊罗马文化的整理保存
C. 提倡复古 D. 资产阶级文化的兴起

4. 阅读右图，该图所蕴含的思想是（ ）

- A. 蒙昧主义
B. 人文主义
C. 理性主义
D. 空想社会主义



5. 提出“三权分立”学说的思想家是（ ）

- A. 孟德斯鸠 B. 伏尔泰 C. 卢梭 D. 康德


6. 北京奥运会开幕式给全世界观众留下了深刻的印象，其中展现中国四大发明之一——活字印刷术的富有动感艺术表演，更是精彩绝伦让观众叹为观止。活字印刷术这一伟大发明是在我国

- A. 隋唐之际 B. 北宋时期 C. 南宋时期 D. 元朝时期

7. 被国际上称为“第二次绿色革命”的是

- A. 原子弹爆炸成功
B. 第一枚火箭发射成功
C. 袁隆平的杂交水稻
D. “东方红”1号人造卫星发射成功

8. 阅读下图，该图所反映的书法种类是



A. 隶书

B. 行书

C. 楷书

D. 草书

9. 著名导演陈凯歌执导的电影《梅兰芳》公演后，获得了巨大的票房收益且在国际上产生了巨大影响。梅兰芳这一历史人物应归列为下列哪一类（ ）

A. 张仲景、李时珍

B. 李白、杜甫

C. 王羲之、柳公权

D. 程长庚、谭鑫培

10. 培庚说：“这三种东西曾改变了整个世界事物面貌和状态：第一种在文学方面，第二种在战争上，第三种在航海上。”培庚所说的第三种东西是我国古代的哪项重大发明（ ）

A. 印刷术

B. 造纸术

C. 火药

D. 指南针

11. 与右图相关的历史人物是（ ）

A. 瓦特

B. 法拉第

C. 爱迪生

D. 爱因斯坦



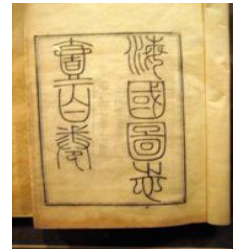
12. 互联网在给人类社会带来发展机遇的同时，也给人类带来了巨大的挑战，这些挑战主要来自于①不良信息泛滥 ②网络犯罪 ③青少年沉迷网络 ④网络安全问题（ ）

A. ①②③

B. ②③④

C. ①②④

D. ①②③④



13. 与右图对应说法正确的是（ ）

A. 为林则徐组织编译

B. 提出“民主和科学”

C. 提出“师夷长技以制夷”的思想

D. 主张维新变法，实行君主立宪

14. 在 1915 年的《新青年》杂志上提出的著名口号是（ ）

A. 师夷长技以制夷 B. 物竞天择，适者生存 C. 联俄、联共、扶助农工 D. 民主和科学

15. “农村包围城市”的革命理论形成于（ ）

A. 国民革命时期

B. 国共十年对峙时期

C. 抗日战争时期

D. 解放战争时期

16. 围绕新文化运动提出的“打倒孔家店”的口号，某班学生展开辩论，你认为哪一项是不妥的

A. 其本质是资产阶级文化反对封建旧文化

B. 动摇了儒家思想的统治地位

C. 为马克思主义在中国的传播创造了条件

D. 这一口号体现了对东西方文化的正确认识

17. 1998 年长江出现百年一遇的洪灾，广大解放军官兵奋不顾身，勇战洪魔。这一行动反应了“三个代表”重要思想中哪方面的内容（ ）

- A.中国先进生产力的发展要求 B.中国先进文化的发展方向
C.中国最广大人民根本利益 D.社会主义发展方向

18. 决定把邓小平理论作为党的指导思想写入《中国共产党章程》是在哪一会议

- A.中共十一届三中全会 B.中共十四大 C.中共十五大 D.中共十六大

19. 右图所反映的中国科技重大成就表述准确的是（ ）

- A.中国开始进入航天时代
B.中国成功研制长征火箭
C.中国在世界第三个掌握卫星返回技术
D.中国成为世界上第三个掌握载人航天技术的国家



20. “当他名满天下的时候，却仍然专注于田畴，淡泊名利，一介农夫……他毕生的梦想，就是让所有的人远离饥饿。”这份颁奖词赞誉的科学家是（ ）

- A.钱学森 B.华学庚 C.李四光 D.袁隆平

21. 右图是 1957 年周恩来总理观看戏剧《闹天宫》后怀抱演员小六龄童的留影。这是当时科技文化艺术领域出现繁荣景象的一个缩影，出现这一繁荣局面的主要原因是（ ）

- A.三大改造完成 B.文艺工作者的积极努力
C.党和国家领导人重视 D.毛泽东“百花齐放、百家争鸣”方针的提出



22. 下列作者与文学作品对应不正确的一组是（ ）

- A.雪莱—《德国，一个冬天的童话》 B.海明威—《老人与海》
C.雨果—《悲惨世界》 D.贝克特—《等待戈多》

23. 右图属于哪一艺术流派（ ）

- A. 新古典主义 B. 浪漫主义 C. 现实主义 D. 印象画派

24. 《伏河加河上的纤夫》这一作品属于哪一流派（ ）

- A. 浪漫主义 B. 现实主义 C. 印象画派 D. 现代主义



25. 俄国著名音乐家柴可夫斯基创作的最有名的芭蕾舞剧是（ ）

- A.《蓝色多瑙河》 B.《茶花女》 C.《卡门》 D.《天鹅湖》

二、材料题（共 3 小题，其中 26 题 18 分，27 题 20 分，28 题 12 分，共 50 分）

26. 阅读下列三幅图片：



图（一）



图（二）



图（三）

回答：（1）三幅图片中的人物，曾经给中国历史带来了“三次巨变”，请问“三次巨变”分别是什么？

（2）三位伟人与时俱进，开拓创新，分别创立的重要理论成果是什么？

（3）在探索救国道路的问题上，孙中山仿效欧美走资本主义道路结果失败，而毛泽东、邓小平却找到正确的革命和建设道路，请问正确的革命和建设道路指什么？从中有何启示？

27. 阅读下列材料：

材料一 ……是以赏莫如厚而信，使民利之；罚莫如重而必，使民畏之；法莫如一而固，使民知之。故主施赏不迁，行诛无赦，誉辅其赏，毁随其罚，则贤不肖俱尽其力矣。

——《韩非子》

材料二 凡天下无地而得安宁者，为君也。是以其未得之也，荼毒天下之肝脑，离散天下之子女，以博我一人之产业，曾不惨然，曰：我固为子孙创业也。其既得之也，敲剥天下之骨髓，离散天下之子女，以奉我一人之淫乐，视为当然，曰：此我产业之花息也。然则，为天下之大害者，君而已矣！

——黄宗羲《明夷待访录》

请回答：（1）两位思想家各处于什么时代？其时代特征分别是什么？


（2）两段材料所反映的观点有何不同？

（3）两段材料所反映的观点有何历史意义？


28. 阅读下列图片:



图一



图二



图三

请回答:

- (1) 图一图二中著作的作者分别是谁?图三是那位人物?
- (2) 图一图二中著作的作者和图三的人物分别提出了什么重要理论?
- (3) 这些理论的提出有何重要意义?

三. 探究题:

人类究竟是怎样起源的?自古以来,人们一直在苦苦探寻这一问题。中国早在远古时期就曾有“女娲造人”的传说,而在西方《圣经》的故事里面则有“上帝创造人类”的说法,到了近代,英国的科学家又提出了生物进化学说。请回答:

- (1) “女娲造人”和“上帝创造人类”的说法正确吗?你是如何看待这一现象的。(2) “上帝创造人类”的说法后来在中世纪的欧洲盛行了千年之久,你知道为什么吗?
- (3) 达尔文的学说正确吗?他是怎样为我们揭开人类生命起源之谜的?

参考答案

第一单元

1. B 2. C 3. C 4. B 5. C 6. B 7. D

8. (1) 民本思想。

(2) 取信于民, “为政以德”。

(3) “民贵君轻”。

(4) 正确认识到君与民的关系, 为后世统治者调整统治政策、缓和社会矛盾提供了借鉴; 继承和发扬了儒家思想, 使儒家思想更加完整, 更能适应社会需要。

9. C 10. D

11. (1) 儒家: 孟子、荀子; 法家: 韩非子。

(2) 法家受到重用; 因为法家以法治国, 加强君主专制集权的思想适应了当时国家由分裂走向统一, 建立君主专制统治的历史发展需要。

(3) 董仲舒提出的“大一统”和“罢黜百家, 独尊儒术”的主张适应了汉武帝加强中央集权的需要。

(4) “剔除糟粕, 取其精华”, 即批判地继承传统思想文化, 消极的因素予以抛弃, 积极的因素加以发扬光大。

第二单元

1. B 2. D 3. D 4. B 5. D 6. B 7. B

8. (1) 权利平等、“三权分立”、“社会契约说”。

(2) 意义: 否定了封建专制制度的合理性, 奠定了资产阶级有关国家和法的理论基础。影响: 对美国资产阶级民主政治制度确立产生了重大影响, 成为美国 1787 年宪法的理论基础。

(3) ①启蒙运动是一次空前的思想解放运动, 它进一步解放了人们的思想, 冲击着欧洲封建专制统治。**错误! 未找到引用源。**在启蒙运动影响下, 法国爆发了轰轰烈烈的大革命, 推翻了专制王朝, 建立了资产阶级统治, 传播了自由和平等思想。**错误! 未找到引用源。**启蒙运动影响远远超出了欧洲范围, 极大地鼓舞了殖民地半殖民地人民争取民族独立的斗争。**错误! 未找到引用源。**启蒙思想成为人们追求解放的精神武器, 在人类历史发展进程中发挥了重要作用。

9. B 10. C

11. (1) 资本主义萌芽, 新兴资产阶级形成; 意大利具有古希腊罗马文化遗存。

(2) 人文主义; 以人为中心, 而不是以神为中心, 人是现实生活的创造者和主义, 肯定人的价值和尊严。评价: 有利于打破封建神学的束缚, 促进人们思想的解放和资本主义工商业的发展; 但也有一定的消极影响, 如过分推崇人文主义, 容易导致人的主观随意性和极端个人主义, 造成个人私欲的膨胀和社会的混乱。

(3) 不对。因为它是借古代希腊罗马文化之名, 行宣传资产阶级思想之实, 其实质应该是资产阶级反对封建神学的思想文化运动。

第三单元

1. B 2. B 3. B 4. C 5. D 6. B 7. B

8. (1) 北宋平民毕升; 北宋时期指南针始用于航海。

(2) 欧洲资产阶级利用新式火药武器打败了封建贵族。

(3) 新航路开辟及早期殖民扩张。

(4) 加速了欧洲封建制度解体, 促进了欧洲资本主义发展。

9. D 10. C

11. (1) 国家统一, 社会开放, 经济繁荣。科举考试以考诗赋为主。

(2) 唐朝: 伟大的浪漫主义诗人李白, 他的诗歌纵情祖国山河的壮丽, 反映了国家昌盛社会繁荣的景象; 南宋: 卓越的词人辛弃疾, 他的作品风格豪迈, 表现了当时国家分裂的现实和作者渴望恢复恢复中原的愿望; 明清: 出现了反映封建社会走向没落历史真实的小说《红楼梦》和揭露社会黑暗和科举腐败的小说《儒林外史》。由此可见, 文化建立在政治经济基础之上, 一定时期的文化是一定时期政治经济的反映。

第四单元

1. B 2. A 3. D 4. A 5. D 6. C 7. C

8. (1) 1859 年, 达尔文发表《物种起源》一书。

(2) 一切生物都是由低级到高级, 简单到复杂发展变化的, 生物界现存的物种具有共同的原始起源, 不同物种的变异是“自然选择”的结果。

(3) 从根本上改变了当时绝大多数人对生物界和人类在生物界中地位的看法, 有力挑战了封建神学创世说, 被称作是“生物学领域的牛顿”。对处于国家危亡时期的中国思想界产生了巨大震动。

9. C 10. D

11. (1) 瓦特、法拉第、爱因斯坦。

(2) 煤炭、电力、核能。

(3) 二战时期美国根据这一理论制造了原子弹，并投在日本的广岛长崎，一方面加速了日本法西斯的投降，另一方面给贫民带来了重大伤亡。启示：反对使用核武器，和平利用核能为人类服务。

第五单元

1. B 2. A 3. D 4. C 5. C 6. C 7. D

8. (1) 师以长技以制夷，学习外国人的先进技术，以抵抗外国人的侵略。

(2) 洋务派、维新派；洋务派掀起了洋务运动，维新派掀起了维新变法运动。

(3) 不仅学习西方的先进技术，而且学习西方的政治制度，建立资本主义君主立宪制度。

9. D 10. C

11. (1) 成为畅销书的是《机器制造论》，因为洋务运动目的是学习西方先进技术，维护封建统治，其主要实践活动是发展近代工业，尤其是军事工业，因此需要了解机器制造方面的技术。

(2) 不可能畅销的是《共产党宣言》，因为当时中国无产阶级处于产生阶段，未能形成一股政治力量登上历史舞台，他们不可能对社会主义有较深的认识，再者《共产党宣言》属于进步书刊，即使传入也会受到当局的压制。

(3) 不可能出现的是《庶民的胜利》，因为该书写于十月革命胜利后初期，此时洋务运动早已宣告失败。

第六单元

1. C 2. C 3. C 4. C 5. B 6. C 7. C

8. (1) “政治革命”指民权主义，即“创立民国”，“民族革命”指民族主义，即“驱除鞑虏”，“社会革命”指民生主义，即“平均地权”。

(2) 评价：进步性；表达了资产阶级在政治上、经济上的利益和要求，反应了中国人民实现民族独立和民主权利的愿望，是辛亥革命的指导思想。局限性：没有提出彻底的反帝要求，没有从根本上触动封建土地制度，带有明显的时代局限性和阶级局限性。

族独立和民主权利的愿望，是辛亥革命的指导思想。局限性：没有提出彻底的反帝要求，没有从根本上触动封建土地制度，带有明显的时代局限性和阶级局限性。

(3) 新三民主义明确提出反对帝国主义，主张民权为“一般平民所共有”，扶助农工，实行“耕者有其田”的方针。

(4) 体现了孙中山勇于进取，与时俱进的时代精神。

9. C 10. D

11. (1) 推翻君主专制制度，成立中华民国；建立中华人民共和国，实现新民主社会向社会主义社会过渡；改革开放，建设有中国特色的社会主义。

(2) 新三民主义，毛泽东思想、邓小平理论。

(3) 说明问题：探索救国道路必须结合本国国情，注意把马克思主义普遍真理与中国具体实际相结合。思想路线：实事求是。

第七单元

1. B 2. B 3. C 4. B 5. C 6. D 7. D

8. (1) 1964 年，打破了美苏核垄断，提高了中国的国际地位，增强了中国综合国力，有利于维护世界和平。

(2) 秦山核电站、大亚湾核电站。

(3) 南优 2 号。

(4) 袁隆平是世界上成功利用杂交水稻优势的第一人，对解决中国人民的吃饭问题，促进农业发展作出了重要贡献，也为世界范围内解决粮食问题作出了贡献。

9. B 10. C

第八单元

1. C 2. A 3. D 4. A 5. D 6. B 7. C

8. (1) 新古典主义，浪漫主义，现实主义。

(2) 作者：大卫、德拉克洛瓦、列宾

(3) 注重表现社会现实，着重描绘普通人的日常生活。

9. C 10. B

综合检测三

一. 选择题

1. B 2. D 3. D 4. B 5. A 6. B 7. C 8. B 9. D 10. D 11. B 12. D
13. B 14. D 15. B 16. D 17. C 18. C 19. D 20. D 21. D 22. A 23. B
24. B 25. D

二. 材料解析

26. (1) 推翻封建君主专制制度, 成立中华民国; 建立中华人民共和国, 实现新民主主义向社会主义社会过渡; 改革开放, 建设中国特色的社会主义。

(2) 三民主义(新三民主义)、毛泽东思想, 邓小平理论。

(3) 毛泽东“农村包围城市”道路, 邓小平走建设有中国特色社会主义道路。探求革命和建设道路, 必须从实际出发, 结合本国的具体国情。

27. (1) 战国, 明末清初。战国: 奴隶社会逐步瓦解, 封建社会逐步确立。明末清初: 封建制度走向衰落。

(2) 韩非子: 提出“法治”, 建立君主专制统治; 黄宗羲: 反对君主专制, 认为君主专制是天下之大害。

(3) 韩非子的思想适应了当时由分裂走向统一的历史发展趋势, 为秦朝专制中央集权制度建立提供了理论基础。黄宗羲的思想反映了明末清初资本主义发展的时代要求, 带有反封建的民主色彩, 对近代资产阶级民主革命产生了一定影响。

28. (1) 牛顿、达尔文, 爱因斯坦。

(2) 物体运动三大定律和万有引力定律、生物进化论、相对论。

(3) ①它把地球上的物体运动和天体运动概括到同一理论之中, 形成了一个以实验为基础, 以数学为表达形式的牛顿力学体系及经典力学体系, 这一体系对解释和预见物理现象具有决定意义。

②从根本上改变了当时绝大多数人对生物界和人类在生物界中地位的看法, 有力挑战了封建神学创世说。

③是物理学领域的一次重大革命, 它否定了经典力学绝对时空观, 深刻揭示了时间、空间的本质属性, 发展了牛顿力学, 推动物理学发展到一个新的高度。

三. 探究题

29. (1) 两种说法都是唯心的, 它们都是古代社会生产力水平落后, 人们不能够正确认识自然和人类自身的产物。

(2) 中世纪里，基督教会成为封建统治的精神支柱，为了维护封建统治，大力宣传“上帝创造人类”的思想。

(2) 达尔文的学说无疑是正确的；他认为，生物不是上帝创造的，而是进化而来的，他们经历了由低级向高级、由简单到复杂的过程。生物现存的物种具有共同的原始起源，不同物种的变异是“自然选择”的结果。达尔文的学说从根本上改变了神与上帝创造人类的说法，为我们揭开了人类以及生物起源之迷。

湖南省教育厅版权所有
免费赠送
www.hunanedu.net